



Aşağıdaki metni anlayana kadar okuyalım.

ORMAN YANGINLARI

Ormanlar bir ülkenin en önemli varlıklarından biridir. Bir çok hayvana yuva olan ormanlar, ürettikleri oksijen ile ülkenin akciğerleri gibidir. Ormanlardaki yaşlı ağaçlardan başta kâğıt ve mobilya olmak üzere birçok ürün elde edilir. Ayrıca ormanlar sayesinde birçok insan iş imkânı bularak evine ekmeğ götürür.



Ormanlar, çıkan orman yangınlarında büyük zararlar görürler. Ülkemizde çıkan orman yangınlarının en önemli sebebi ise insanlardır. Piknik alanlarında bilinçsizce yakılan ve söndürülmeyen ateşler, yol kenarlarına atılan yanıcı veya yakıcı maddeler orman yangınlarına sebep olmaktadır. Çıkan orman yangınlarında sadece ormanlar değil; içindeki sayısız hayvan, ormanlar sayesinde geçimini sağlayan insanların ekmeği, ülkemizin millî geliri de yanmaktadır.



Aşağıdaki soruları metne göre cevaplayalım.



Ormanlardan hangi ürünler elde edilmiştir?

.....



Orman yangınlarının en önemli sebebi kimlermiş?

.....



Piknik yapan insanlar ormanlara nasıl zarar verirmiş?

.....



Orman yangınlarından kimler zarar görmüş?

.....



Sen yazmış olsaydın metne hangi başlığı verirdin?

.....



HİKÂYE UNSURLARI-I



Aşağıda verilen alanlara hikâye unsurlarını yazalım.

	HİKÂYE UNSURLARI		



Hikâyeyi okuyarak hikâye unsurlarını belirleyip yazalım.

Nasrettin Hoca, bir gece yatağında uyurken içeriden gelen seslerle uyanmış. Sessizce odasından çıkıp sesin geldiği yöne doğru gitmiş. Bir de ne görsün! Hırsızın biri evde değerli ne varsa toplamış gidiyor. Hoca da hırsızın peşine takılmış.



Sokakta bir süre yürüdüktan sonra hırsız, kendisini takip eden biri olduğunu fark etmiş. Dönüp Hoca'ya sormuş:

-Beni niye takip ediyorsun be adam?

Hoca mahcup bir dille cevap vermiş:

-Şey, ben sırtınızda taşıdığınız evin sahibiyim de.

HİKÂYE UNSURLARI

OLAY	YER	ZAMAN	KİŞİLER



HİKÂYE UNSURLARI-2



Hikâyeyi okuyarak hikâye unsurlarını belirleyip yazalım.

Ağabeyi o akşam eve elinde bir hediye kutusu ile gelmişti. Fadime'nin hediye hakkında hiçbir fikri yoktu. Bu yüzden ağabeyine defalarca sordu. Ancak ağabeyi her defasında akşamı beklemesini söyledi.



Akşam yemeğinden sonra herkes salonda televizyon izlerken birden elektrikler kesildi. Salonun kapısından üzerinde dokuz tane mum olan bir pasta ile annesi girdi. Herkes hep bir ağızdan "İyi ki doğdun Fadime!" diyordu. Fadime o günün doğum günü olduğunu unutmuştu. Pastanın üzerindeki mumları üfledikten sonra ağabeyine göz kırparak "Artık hediyenin kime ait olduğunu biliyorum." dedi.

HİKÂYE UNSURLARI

OLAY

YER

ZAMAN

KİŞİLER



Bildiğimiz bir hikâyeye göre tabloyu dolduralım.

HİKÂYENİN ADI:

OLAY

YER

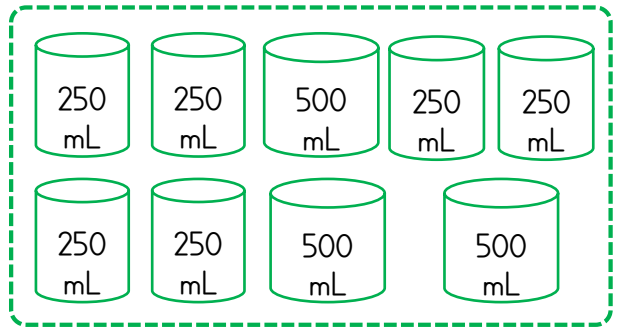
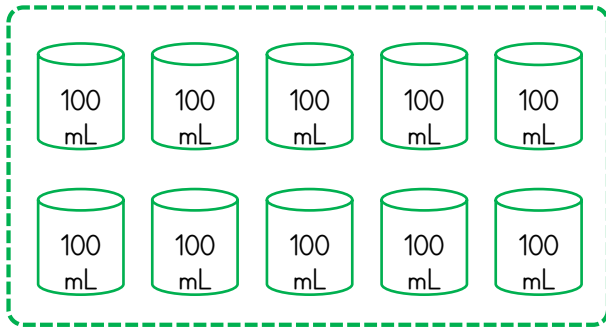
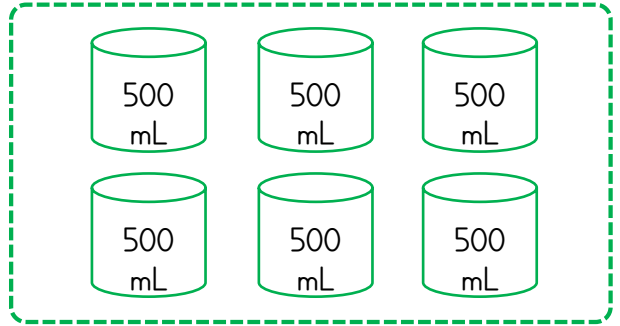
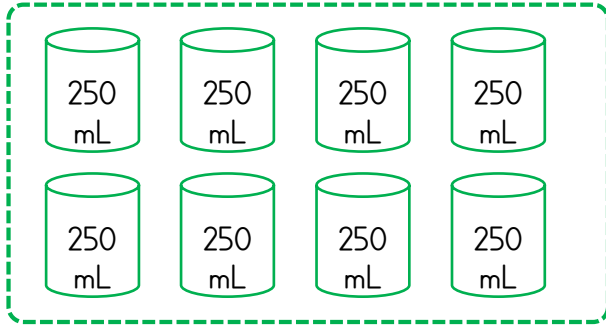
ZAMAN

KİŞİLER

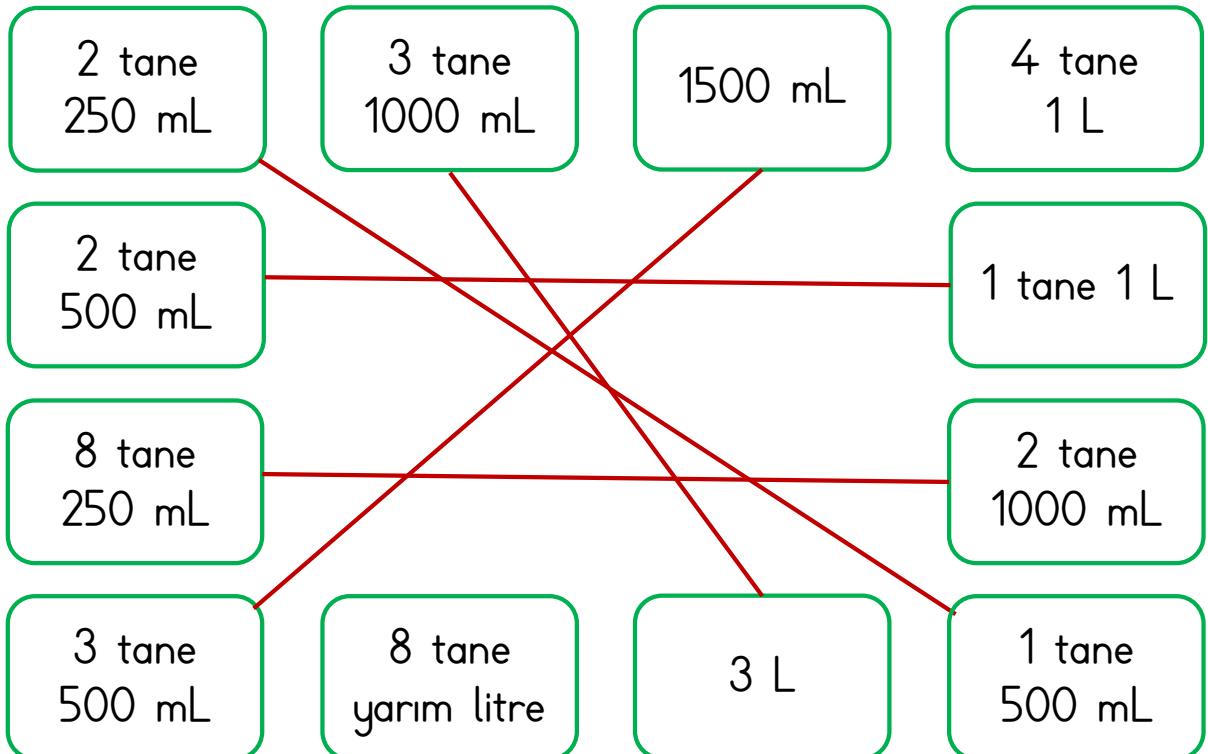


LİTRE VE MİLİLİTRE-İ

★ Aşağıda verilen birimleri 1 litre olacak şekilde örnekteki gibi gruplandıralım.



★ Aşağıda verilen ölçüleri örnekteki gibi eşleştirelim.





LİTRE VE MİLİLİTRE-2

★ Aşağıda verilen ölçüleri istenen ölçü birimlerine dönüştürerek örneklerdeki gibi yazalım.

$1 \text{ L} = 1000 \text{ mL}$

$4 \text{ L} = \dots\dots\dots \text{ mL}$

$7 \text{ L} = \dots\dots\dots \text{ mL}$

$9 \text{ L} = \dots\dots\dots \text{ mL}$

$12 \text{ L} = \dots\dots\dots \text{ mL}$

$15 \text{ L} = \dots\dots\dots \text{ mL}$

$22 \text{ L} = \dots\dots\dots \text{ mL}$

$30 \text{ L} = \dots\dots\dots \text{ mL}$

$35 \text{ L} = \dots\dots\dots \text{ mL}$

$42 \text{ L} = \dots\dots\dots \text{ mL}$

$55 \text{ L} = \dots\dots\dots \text{ mL}$

$100 \text{ L} = \dots\dots\dots \text{ mL}$

$1 \text{ L } 250 \text{ mL} = 1250 \text{ mL}$

$2 \text{ L } 450 \text{ mL} = \dots\dots\dots \text{ mL}$

$4 \text{ L } 168 \text{ mL} = \dots\dots\dots \text{ mL}$

$7 \text{ L } 50 \text{ mL} = \dots\dots\dots \text{ mL}$

$15 \text{ L } 250 \text{ mL} = \dots\dots\dots \text{ mL}$

$23 \text{ L } 685 \text{ mL} = \dots\dots\dots \text{ mL}$

$1000 \text{ mL} = 1 \text{ L}$

$3000 \text{ mL} = \dots\dots\dots \text{ L}$

$5000 \text{ mL} = \dots\dots\dots \text{ L}$

$8000 \text{ mL} = \dots\dots\dots \text{ L}$

$13000 \text{ mL} = \dots\dots\dots \text{ L}$

$18000 \text{ mL} = \dots\dots\dots \text{ L}$

$23000 \text{ mL} = \dots\dots\dots \text{ L}$

$32000 \text{ mL} = \dots\dots\dots \text{ L}$

$45000 \text{ mL} = \dots\dots\dots \text{ L}$

$3500 \text{ mL} = 3 \text{ L } 500 \text{ mL}$

$5480 \text{ mL} = \dots\dots \text{ L } \dots\dots \text{ mL}$

$6805 \text{ mL} = \dots\dots \text{ L } \dots\dots \text{ mL}$

$11020 \text{ mL} = \dots\dots \text{ L } \dots\dots \text{ mL}$

$27008 \text{ mL} = \dots\dots \text{ L } \dots\dots \text{ mL}$

$38083 \text{ mL} = \dots\dots \text{ L } \dots\dots \text{ mL}$



BASİT ELEKTRİK DEVRELERİ

★ Aşağıdaki cümlelerde boş bırakılan yerlere uygun sözcükleri yazalım.

bakır

plastik

kablo

batarya

pil

yatağı

doğru

çıkıntılı

kopukluk

kapalı

açık

duy

kutbu

Volta

Elektrik devresinde ampulün takıldığı yere denir.

Basit bir elektrik devresi için gerekli elektriği üretir.

Pilin sabit durmasını sağlayan devre elemanına pil denir.

Pili ilk kez İtalyan bilim insanı icat etmiştir.

Devrenin çalışabilmesi için anahtar olmalıdır.

Cep telefonu, tablet gibi aletler ile çalışırlar.

Pildeki akımı ampule taşıyan tellere denir.

..... teller elektriği daha iyi iletirler.

Devredeki kablolarda varsa devre çalışmaz.

Devrede anahtar açık ise devre denir.

Pilin + ve - olmak üzere iki tane vardır.

Kablonun içindeki teller kılıf ile kaplıdır.

Devre çalışmıyorsa devre elemanları yerleşmemiş olabilir.

Pilin olan tarafı artı kutbudur.



FARKLI KÜLTÜRLER



Aşağıdaki kıyafetlerin ait oldukları kültürü boyayalım.



Türkiye

Japonya

Almanya



Çin

Hindistan

Meksika



Mısır

Rusya

İngiltere



İskoçya

Suriye

İtalya



Aşağıdaki sporların ait oldukları ülkeleri boyayalım.



İskoçya

Macaristan

Kenya



Almanya

Fransa


Türkiye



Kanada

İspanya

Hindistan



Japonya

Afganistan

Ukrayna



Aşağıdaki yapıların ait oldukları ülkeleri boyayalım.



Danimarka

Fransa

Sudan



Irak

İsveç

Mısır



Fransa

İngiltere

ABD



Türkiye


İtalya

S.Arabistan



EĞLENCE ZAMANI

★ Aşağıdaki boyamayı tamamlayalım. Kamp yapan aileye kamp esnasında nelere dikkat etmeleri gerektiği ile ilgili düşüncelerimizi yazalım.



.....

.....

.....

.....

.....

.....

.....

.....

.....

.....