



GRÖNLAND

Dünya'nın en büyük adası Grönland'dır. Ama bu bildiğiniz gibi bir ada değil. Bu adada büyük kar kütleleri her yeri kaplar. Yılın büyük bir kısmı karla kaplıdır. Kışları o kadar soğuk olur ki, termometre -70 dereceyi gösterir.

Bu kadar soğuk memlekette insan yaşama: dediğinizi duyar gibiyim. Ama yanılıyorsunuz. Bu adada yaşayan insanlar İnitler. İnitler, adına iglo dedikleri evler yapmışlar ve orada yaşamışlar. Günümüzde hala iglo yapıp, onda yaşayan İnitler var.

Bu adada insanlar daha çok balıkçılık yaparak geçimlerini sağlıyorlar. Grönland'da yaşamak ister miyim bilmiyorum ama gezmek için gitmek isterdim. Bu adada Dünya'nın başka hiçbir yerinde göremeyeceğimiz harika bir görsel şölen gerçekleşiyor. Adı, Kuzey Işıkları. Umarım bir gün Grönland'a gitme şansını yakarım.

Not: İlk 3 soruyu şiire göre cevaplayınız.

1) Grönland'da yılın büyük bir kısmı **ne** ile kaplıdır?

- A) Sel sularıyla
- B) Ormanlarla
- C) Karlarla

2) Kışları Grönland'da termometre **kaç** dereceyi gösterir?

- A) - 40
- B) - 70
- C) - 60

3) İnitler yapmış oldukları evlere **ne** ad vermişlerdir?

- A) İngo
- B) İglo
- C) İlgo

4) Ankara() dan dayım() ne zaman geliyor()

Yukarıdaki parantez () ile belirtilen yerlere **sırasıyla** hangi noktalama işareti gelmelidir?

- A) (!) (,) (?)
- B) (,) (!) (?)
- C) (!) (,) (.)

5) Mehmet, sabah Antalya'ya gitti.

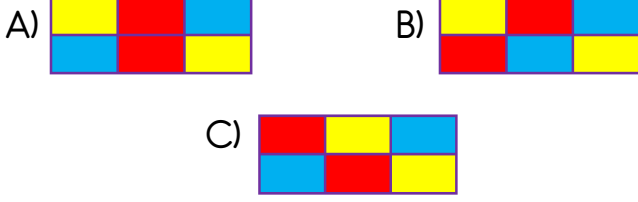
Yukarıdaki cümlede altı çizili sözcükler **sırasıyla** hangi soruların **yanıtıdır**?

- A) Kim? Nereye? Ne zaman?
- B) Kim? Niçin? Ne zaman?
- C) Kim? Ne zaman? Nereye?

6)

üretim	acemi	bayat
usta	taze	tüketim


Yukarıdaki tabloda zıt anlamlı kelimeleri aynı renge boyarsak nasıl bir şekil ortaya çıkar?



7) Aşağıdaki metin başlıklarından hangisi yanlış yazılmıştır?

- A) Tavşan ile tilki
B) Kırmızı Başlıklı Kız
C) ASLAN İLE FARE

8) " girmeyen eve girer." atasözü hangi seçenekteki varlıkların adı ile tamamlanabilir?



9) Tanju'nun aldığı fındıklı gofretin uzunluğu 12 cm'dir. Kakaolu gofret, fındıklı gofretten 6 cm daha uzundur. Tanju ikişer tane fındıklı ve kakaolu gofret yerse toplam kaç cm uzunluğunda gofret yemiş olur?



- A) 36 B) 56 C) 60

10)



Kukuli'nin diktiği muz fidanın uzunluğu 36 cm'dir. Muz fidanın boyu her gün 4 cm uzamaktadır. Kukuli muz fidanını diktikten bir hafta sonra muz fidanın uzunluğunu kaç cm olarak ölçmüştür?

- A) 60 cm B) 64 cm C) 72 cm

11)



Şakir'in boyunun uzunluğu 35 cm'dir. Kardeşi Canan, Şakir'den 10 cm kısadır. Remzi'nin boyunun uzunluğu ise Şakir'den 5 cm daha uzundur. Üçünün boy uzunluğu toplamı kaç cm'dir?

- A) 100 B) 95 C) 90


12)




Koca Ayı'nın bir adımı, Maşa'nın 4 adımına eşittir. Koca Ayı evinin salonundan mutfığa 9 adımda gidebiliyorsa, aynı mesafeyi Maşa kaç adımda gidebilir?

- A) 27 B) 32 C) 36

13) Aşağıdakilerden hangisini kilogram ile ölçmeyiz?



14)



Yukarıda verilen teraziler dengede durduğuna göre karpuz ile kavunun ağırlıkları **toplamı** kaç kilogramdır?

- A) 5 kg B) 8 kg C) 9 kg




15)



Yukarıda verilen terazinin dengede durabilmesi için **sağ kefesine** kaç kilogram ağırlık konulması gerekir?

- A) 5 kg B) 4 kg C) 3 kg


16) Yönleri belirlemek için aşağıdakilerden hangisini **esas** alırız?

- A)  B)  C) 

17) Yönlerle ilgili aşağıdaki bilgilerden hangisi **yanlıştır**?

- A) Güneş batıdan batar.
B) Yüzümüz kuzeyi gösterirse sırtımız doğuyu gösterir.
C) Yönleri güneşe göre belirleriz.

18)



Yukarıda verilen resimde Efe'nin sağ kolu güneşin doğduğu yönü göstermektedir. Bu bilgiye göre Efe'nin **arka tarafı** hangi yönü göstermektedir?

- A) Güney B) Kuzey C) Batı

19. ve 20. soruları aşağıda verilen Türkiye haritasına göre cevaplayınız.

19)



Yukarıda verilen haritada **Ege Denizi** ülkemizin hangi tarafındadır?

- A) Kuzey B) Güney C) Batı

20) Ülkemizin **güneyinde** hangi deniz bulunmaktadır?

- A) Karadeniz B) Akdeniz
C) Marmara Denizi

Cevap Anahtarı

- 1)C 2)B 3)B 4)A 5)C
6)B 7)A 8)B 9)C 10)B
11)A 12)C 13)A 14)C 15)A
16)C 17)B 18)A 19)C 20)B