



1	kalem
2	fener
3	zeytin

1	halı
2	orman
3	müze

1	gemi
2	ışık
3	lale

1. Ali yukarıdaki alfabetik sıralamalardan **doğru** sıralanmış grubun **meyvesini** yemek istiyor. Buna göre **Ali** hangi **meyveyi** yiyecektir?



2. Aşağıdaki **cümlelerden** hangisinde diğerlerinden daha fazla hece vardır?

A) Sakla samanı, gelir zamanı.

B) Davulun sesi uzaktan hoş gelir.

C) Bir elin nesi var, iki elin sesi var.



3. Yukarıdaki **arı** satır sonunda doğru ayrılmış kelimelerin bulunduğu **çiçeklere** konacaktır. Buna göre **arı** kaç çiçeğe konabilir?

A) 1

B) 2

C) 3



dayım samsun'dan yeni bir ev almış.

4. Aşağıdakilerden hangisi üstteki **cümlede** düzeltilcek hatalardan değildir?


A) "ev" kelimesinin ilk harfi büyük yazılmalıdır.

B) Cümlenin ilk harfi büyük yazılmalıdır.

C) "samsun'dan" kelimesinin ilk harfi büyük yazılmalıdır.

tren-de	pal-ya-ço	ai-le-miz
pr-en-ses	ga-ze-te	i-nek-ler

5. Yukarıdaki kelimelerden hecelerine **doğru** ayrılmış olanları boyarsak ortaya nasıl bir görüntü çıkar?



sabah

kalın

uzun

akşam

ince

6. Yukarıdaki kelimeler ile **zıt anlamlıları** eşleştirilirse hangi kelime boşta kalır?

A) kalın

B) akşam

C) uzun

T düşmüş

R kuş

H yuvadan

S yavru

7. Her biri bir harfle eşleştirilmiş kelimelerden **kurallı** bir cümle oluşturursak harfler nasıl sıralanır?

A) T-S-H-R

B) S-R-H-T

C) H-R-S-T

8. Aşağıdaki **şıklardan** hangisindeki kelimelerin tümü **doğru** yazılmıştır?

A) öğretmen - film

B) ekşi - kirpik

C) sovan - herkez

Ödevini yaptın mı Eyvah, ev yanıyor Yeni bir kitap aldım

9. Yukarıdaki **cümlelerin** sonuna sırası ile hangi **noktalama** işaretleri konulmalıdır?

A) ? . !

B) . ! .

C) ? ! .

atatürk

türkiye

telefon

merve

10. Üstteki **kelimelerden** kaç tanesi her zaman **büyük harfle** başlamalıdır?

A) 3

B) 2

C) 1



5



11. Yukarıdaki kurbağa **beşer beşer** sayarak yaprakların üzerine atlayacaktır. İlk yaprakta **5**'i sayan kurbağa **son yaprakta** hangi sayıyı sayar?

A) 25

B) 30

C) 35

1 onluk + 2 birlik

2 onluk + 4 birlik

3 onluk + 2 birlik

12. Aşağıdaki **sayılardan** hangisi, yukarıda onluk ve birliği verilen sayılardan biridir?

A) 32

B) 21

C) 42

9 + 7

→ ★

23 - 9

→ ■

21 - 8

→ ●

8 + 6

→ ♥

13. **Sembollerle** verilen işlemlerden hangilerinin sonuçları aynıdır?

A) ● ve ■

B) ★ ve ♥

C) ♥ ve ■

- 14.



Emre ile Ebru'nun yaşları toplamı **15**'tir. Ebru **8** yaşında olduğuna göre Emre kaç yaşındadır?

A) 8

B) 7

C) 6



4 Lira



12 Lira

15. **Üstte** bazı ürünlerin fiyatları vardır. **2** tane **defter** ve **1** tane **oyuncak** kaç lira eder?

A)



B)



C)








16. Üstteki **3 bütün** elmadan kaç **yarım** elma elde edilir?

- A) 6 yarım elma B) 4 yarım elma C) 3 yarım elma

17. Aşağıdaki **öğrencilerden** hangisinin verdiği bilgi **doğrudur**?

- A)  Bir haftada 12 gün bulunmaktadır.
- B)  Yılın 6. ayı temmuz ayıdır.
- C)  Dün salı ise yarın perşembedir.




Ben her sabah saat **sekiz buçukta** kalkıyorum. Saat **on iki buçukta** gitar kursum başlıyor. Saat **dörtte** arkadaşlarımla buluşuyorum.

18. Üstteki açıklamaya göre **Hakan** saat kaçta **gitar** kursuna gidiyor?

- A) 
- B) 
- C) 




19.



Yandaki geometrik cisimle ilgili aşağıdaki **ifadelerden** hangisi **yanlıştır**?

- A) Düz yüzü yoktur. B) Kenarı vardır. C) Köşesi vardır.

20. Aşağıdaki **dizilişlerden** hangisi kurallı bir **örüntüdür**?

- A) 
- B) 
- C) 

★	Gündüz vakti tüm ışıkları açmalıyız.	■	Diş fırçalarken suyu açık bırakmamalıyız.
○	Temizlik görevlisi varsa yere çöp atabilirim.	♥	Okul ve sınıf eşyalarını özenli kullanmalıyız.

21. Yukarıda **sembollerle** eşleşen ifadelerden hangileri **doğrudur**?

A) ★ - ○

B) ■ - ♥

C) ○ - ■

22. "İhtiyaçlarımızın karşılanması zorunludur. İhtiyaçlarımız karşılanmadığında zor durumda kalırız." Aşağıdakilerden hangisi **ihtiyaçlarımıza** örnek verilemez?

A) Paten sürmek

B) Düzenli beslenmek

C) Su içmek



23. Aşağıdakilerden hangisi, **meyve-sebzelerle** ilgili **doğru** bir ifadedir?

A) Bizi hastalıklara karşı korurlar ve direncimizi artırır.

B) Hayvansal kaynaklıdır ve büyümemizi sağlarlar.

C) Hepsi ağaçta yetişirler ve kemiklerimizi geliştirirler.

24. Aşağıdaki **görsellerden** hangisi **kişisel bakımla** ilgili değildir?



25. Aşağıdaki **davranışlardan** hangisi **tehlikeye** yol açabilir?

A) Merdivenlerden inerken ve çıkarken sağ tarafı kullanmak

B) Pencere ve balkondan aşağı sarkmamak

C) Açıkta bulunan elektrik kablolarıyla oynamak



Park Yeri

Bisiklet
Giremez

Okul Geçidi

Yayalar
Giremez

26. Yukarıdaki **trafik levhalarından** kaç tanesinin anlamı **yanlış** yazılmıştır?



A) 1

B) 2

C) 3

Çocuk parkı	Okul bahçesi	Asansör
İnşaat alanı	Su kanalı	Trafiğe kapalı alanlar

27. Tablodaki **güvenli** oyun alanlarının kutularını boyarsak nasıl bir **görüntü** olur?



Kurtuluş Savaşı'nın kazanılmasına ve ülkemizin kurulmasına liderlik eden Mustafa Kemal Atatürk'daki **Dolmabahçe Sarayı'nda** hayata gözlerini kapatmıştır.

28. Yukarıdaki açıklamada **noktalı** alana aşağıdaki **illerden** hangisi yazılmalıdır?

A) Ankara

B) İstanbul

C) Samsun



29. **Milli bayramlarla** alakalı eşleştirmelerden hangisi **doğrudur**?

A) 29 Ekim → Ulusal Egemenlik ve Çocuk Bayramı

B) 19 Mayıs → Cumhuriyet Bayramı

C) 30 Ağustos → Zafer Bayramı

30. Aşağıdaki **hayvanlardan** hangisi **evcil** bir hayvandır?



CEVAP ANAHTARI

TÜRKÇE

- 1) B
- 2) C
- 3) B
- 4) A
- 5) A
- 6) C
- 7) B
- 8) B
- 9) C
- 10) A

MATEMATİK

- 11) C
- 12) A
- 13) C
- 14) B
- 15) B
- 16) A
- 17) C
- 18) B
- 19) A
- 20) C

HAYAT BİL.

- 21) B
- 22) A
- 23) A
- 24) C
- 25) C
- 26) B
- 27) A
- 28) B
- 29) C
- 30) A