

- 1) ➤ Hasan **dik** yokuşu bisikletle çıkamadı.  
➤ Ceviz fidanını arka bahçeye **dik**.

Yukarıdaki cümledeki altı çizili kelimeler için Aşağıdakilerden hangisi söylenebilir?

- A) Eş anlamlı kelimelerdir.  
B) Eş sesli kelimelerdir.  
C) Mecaz anlamda kullanılmışlardır.  
D) İki de aynı anlamda kullanılmıştır.

- 2) Seda akşam geç yatınca sabah babası okula bırakmış.

Yukarıdaki cümledeki eş sesli kelimeler hangisinde doğru verilmiştir?

- A) akşam - geç                      B) yat - sabah  
C) geç - yat                         D) geç - bırakmış





- 3) Yemeden yaşamak mümkün değildir.

Yukarıdaki anlama gelen atasözü aşağıdakilerden hangisidir ?

- A) Ayağını yorganına göre uzat  
B) Tatlı dil yılanı deliğinden çıkarır  
C) Aç doymam , tok acıkmam sanır  
D) Can boğazdan gelir

- 4) " cesur " kelimesinin eş anlamlısı aşağıdakilerden hangisidir?

- A) coşkulu                      B) heyecanlı  
C) yürekli                      D) çalışkan

- 5)  Ayakları yere değmemek  
 Ağız açık kalmak  
 Hafife almak  
 Etekleri zil çalmak

Yukarıdaki deyimlerden hangileri "sevinmek" ile ilgilidir?

- A)                        B)    
C)                        D)  

- 6) I – Ateş yakmak için kuru **dal** topladık.  
II – Spor **dallarından** en çok yüzmeyi seviyorum.  
III- Melih havuzun en derin yerine **daldı**.  
IV- Öğretmenimiz sağlık alanındaki meslek **dallarını** tanıttı.

Yukarıdaki cümlelerin hangilerinde "dal" kelimesi aynı anlamda kullanılmıştır?

- A) I - II                                      B) II - III  
C) III - IV                                  D) II - IV

- 7) Sürekli harcama, en büyük birikimleri bile eritir.

Yukarıdaki anlama gelen atasözü aşağıdakilerden hangisidir ?

- A) Damlaya damlaya göl olur  
B) Her çok azdan olur  
C) Komşu komşunun külüne muhtaçtır  
D) Hazıra dağlar dayanmaz

8)

$$\begin{matrix} \color{green}\blacktriangle \\ \dots\dots \end{matrix} + \begin{matrix} \color{red}\blacktriangle \\ \dots\dots \end{matrix} = 3 \text{ L } 270 \text{ mL}$$

Yukarıdaki eşitlikte  $\color{green}\blacktriangle$  ve  $\color{red}\blacktriangle$  yerine aşağıdakilerden hangisi **yazılamaz**?

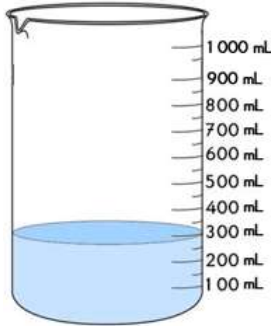
- A) 2000 mL + 1270 mL  
B) 3000 mL + 27 mL  
C) 3000 mL + 270 mL  
D) 2270 mL + 1000 mL

- 9)  $\color{blue}\blacklozenge$  Süt                       $\odot$  Aşı  
 $\square$  Şurup                       $\triangle$  Benzin

Yukarıda verilenlerin hangilerinin ölçümlerinde **mililitre** kullanılır?

- A)  $\square$   $\odot$                       B)  $\odot$   $\triangle$   
C)  $\color{blue}\blacklozenge$   $\square$                       D)  $\square$   $\triangle$

- 10) Yandaki dereceli kaptaki su miktarını gözlemleyiniz. 1 litre su olması için ne kadar daha su koymak gerekir?



- A) 70 mL  
B) 600 mL  
C) 800 mL  
D) 700 mL

- 11) I  $\triangleright$  6008 mL = 6 L 8 mL  
II  $\triangleright$  4730 mL = 7 L 73 mL  
III  $\triangleright$  20500 mL = 20 L 500 mL

Yukarıdaki dönüşümlerle ilgili aşağıdakilerden hangisi doğrudur?

- A) Üçü de doğru                      B) II ve III doğru  
C) I ve III doğru                      D) I ve II doğru

- 12) Taner : 2000 mL  
Yaren : 200 mL  
Mert : 20 mL  
Gaye : 2 mL

Öğrenciler normal bir su bardağının alabileceği su miktarını yukarıdaki tahmin etmişler. Bu hangisinin tahmini doğru olabilir?

- A) Yaren                      B) Gaye  
C) Mert                      D) Taner

- 13) Yandaki damacana 20 litre su almaktadır. Çizgi ile işaretli olan yere kadar su dolduruluyor. Buna göre damacanaadaki su miktarı tahmin edildiğinde en doğru tahmin hangisi olabilir?



- A) 4 L                      B) 13 L                      C) 8 L                      D) 16L


- 14) Yandaki su kabı 250 mL su almaktadır. 4 litre su alan bir leğeni doldurmak için bu kapla kaç defa su koymak gerekir?



- A) 20                      B) 12                      C) 14                      D) 16

- 15) "judo" aşağıdaki ülkelerden hangisinin geleneksel savunma sporudur?

- A) Türkiye                      B) Japonya  
C) Brezilya                      D) Almanya

- 16) ➤Gulaş adında dünyaca ünlü yemekleri vardır. Dana eti ve soğanla yapılan bir çeşit çorbadır.  
➤Bir Avrupa ülkesidir.
- Yukarıda sözü edilen ülke aşağıdakilerden hangisidir?
- A) Macaristan                      B) İtalya  
C) İngiltere                         D) Hindistan
- 17) Başkenti Kahire olan bu ülke Afrika kıtasındadır. Nil Nehri önemli akarsuyudur. Tarihi geçmişi ve piramitleri ile tanınır.
- 
- Yukarıda sözü edilen ülke aşağıdakilerden hangisidir?
- A) Suriye                              B) Ürdün  
C) Cezayir                            D) Mısır
- 18) Dünyanın en fazla nüfusa sahip ülkesidir. Asya kıtasındadır. Sanayisi çok gelişmiştir. Koronavirüs hastalığı ilk olarak bu ülkede görülmüştür.
- Yukarıda sözü edilen ülke aşağıdakilerden hangisidir?
- A) Hindistan                         B) Rusya  
C) Çin                                    D) İran
- 19) ➤ Asya kıtasında olup başkenti Riyad'dır.  
➤ Müslümanlar için kutsal olan Kabe bu ülkenin Mekke şehrinde.
- Yukarıdaki bilgiler aşağıdaki ülkelerden hangisine aittir?
- A) Katar                                B) Suudi Arabistan  
C) Cezayir                            D) Kuveyt
- 20) Aşağıdakilerden ülkelerden hangisi Avrupa kıtasında **değildir**?
- A) Gürcistan                         B) Macaristan  
C) Hollanda                         D) Fransa

## CEVAP ANAHTARI

TÜRKÇE	MATEMATİK	SOSYAL BİL.
1) B	8) B	15) B
2) C	9) A	16) A
3) D	10) D	17) D
4) C	11) C	18) C
5) A	12) A	19) B
6) B	13) C	20) A
7) D	14) D	