

.....

Mevsimlerin en güzeli,
Güneşiyle hep neşeli,
Değerini bilmeli,
Geldi işte yaz mevsimi.



Ağaçlarda meyve biter,
Dallarında kuşlar öter,
Çocuklar bayram eder,
Geldi işte yaz mevsimi.

Mevsimler onu kıskanır,
Denizi aklımı alır,
Tadı damağımda kalır,
Geldi işte yaz mevsimi.



Hasan YILDIRIM

(1-4. soruları metne göre cevaplayınız.)

1) Metne göre mevsimlerin en güzeli hangisidir?

A) İlkbahar B) Yaz C) Kış

2) Metne göre hangisi yaz mevsiminin özelliklerinden biri değildir?

A) Ağaçlarda meyve bitmesi
B) Çocukların onu kıskanması
C) Güneşiyle neşeli olması

3) Metin ile ilgili verilen ifadelerden hangisi yanlıştır?

A) Metnin türü şiiirdir.
B) Üç dörütlükten oluşmuştur.
C) Başlığı "Mevsimler" olabilir.

4) Melisa, evlerinin bahçesindeki ağacın yanında farklı mevsimlerde fotoğraf çekilmiştir.

Buna göre Melisa, metne eklemek için hangi fotoğrafı seçebilir?

A)

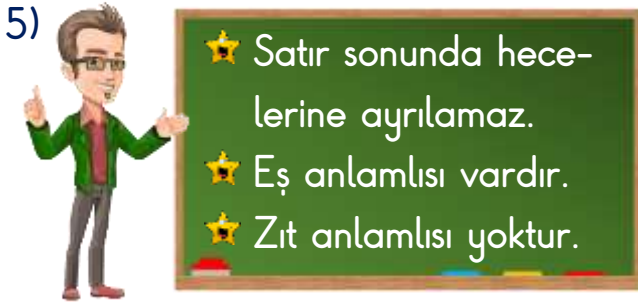


B)

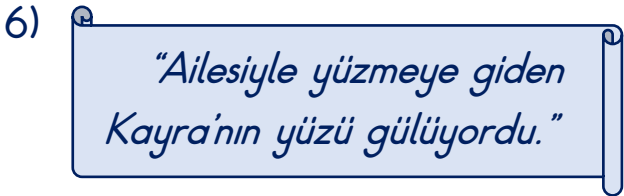


C)





Hasan Öğretmen'in özelliklerini yazdığı sözcüğü hangi öğrenci bulmuştur?



Buna göre "yüz" sözcüğü hangi cümlede yukarıdakilerden farklı bir anlamda kullanılmıştır?

- A) Çikolatadan yüzüm alerji oldu.
B) Dedem tam yüz yaşına girdi.
C) Okulda yüzme kursu açılacak.



Yukarıdaki cümlenin anlamlı ve kurallı bir cümle olması için hangi iki sözcük yer değiştirmelidir?

- A)  B)  C) 

- 8) Aşağıdaki cümlelerden hangisinde herhangi bir yazım yanlışı yoktur?
- A) (04,06,2013) tarihinde doğdum.
B) Ders başladı mı bilmiyorum.
C) Akşama kadar Yağmur yağdı.

9)

| Ad | Özel Ad | Tür Adı | Tekil Ad | Çoğul Ad | Topluluk Adı |
|--------|---------|---------|----------|----------|--------------|
| Defter | 1 | 2 | 3 | 4 | 5 |
| Sürü | 6 | 7 | 8 | 9 | 10 |

Yukarıdaki tabloda hangi kutucuklar işaretlenmelidir?

- A) 1 - 3 - 7 - 9
B) 2 - 3 - 9 - 10
C) 2 - 3 - 7 - 10

- 10) ()Nereye gidiyorsun ()
()Kantinden tost alacağım ()

Yukarıdaki paragrafta () ile belirtilen yerlere sırası ile hangi noktalama işaretleri gelmelidir?

- A) (→)(?)(→)(.) B) (→)(?)(:)(.)
C) (→)(.)(→)(?)

11)



Üç basamaklı, rakamları farklı, en büyük çift sayıyı en yakın onluğa yuvarladım.



Üç basamaklı, rakamları aynı, en küçük çift sayıyı en yakın yüzlüğe yuvarladım.

Tuncay ile Elifin buldukları sayıların farkı kaçtır?

- A) 690 B) 790 C) 890


12) Yaz tatilinde 699 liralık bir bisikleti almak isteyen Fatih'in kumbarasında 238 lira vardır.



Annesinden 150, babasından 125 lira alan Fatih'in, bisikleti alabilmek için kaç liraya ihtiyacı vardır?

- A) 186 TL B) 245 TL C) 357 TL

13) Grafik: Geziye Katılan Öğrenci Sayıları



Yukarıdaki nesne grafiğine göre en fazla katılım sağlayan sınıftan 25 öğrenci geziye katılmıştır.

Buna göre aşağıdaki ifadelerden hangisi yanlıştır?

- A) 3/A sınıfından 4 öğrenci geziye katılmıştır.
 B) Geziye en az katılım 3/C sınıfından olmuştur.
 C) Geziye toplam 70 öğrenci katılmıştır.

14) Öğretmenimiz sınıfa getirdiği kalemeleri herkese 12'şer tane dağıtınca geriye 7 kalem artmıştır.

Sınıf mevcudumuz 32 olduğuna göre öğretmenimiz sınıfa kaç kalem getirmiştir?

- A) 236 B) 384 C) 391

- 15) Melek, 80 sayfalık hikâye kitabının $\frac{1}{4}$ 'ini hafta sonu okudu.



Kalan sayfaları hafta içi 5 günde eşit şekilde okuyarak bitiren Melek, hafta içi her gün kaç sayfa kitap okumuştur?

- A) 10 B) 12 C) 15

- 16) Aşağıdaki tabloda Elif'in bir günde yaptığı etkinliklerin başlama ve bitiş saatleri verilmiştir.

| Etkinlik | Başlama | Bitiş |
|----------|---------|-------|
| Okuma | 12.45 | 14.10 |
| Oyun | 14.30 | 15.15 |
| Film | 15.50 | 17.20 |

Buna göre Elif'in etkinliklere ayırdığı sürelerin en çoktan en aza doğru sıralanışı hangisidir?

- A) Okuma - Oyun - Film
B) Film - Okuma - Oyun
C) Oyun - Film - Okuma

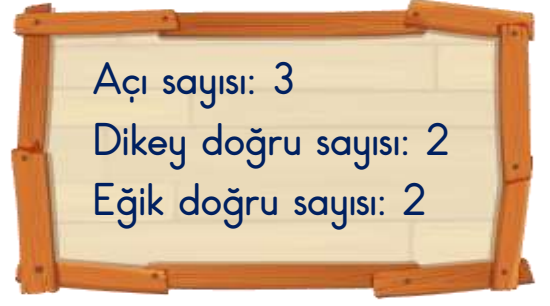
- 17) Şerife, 5 kg muzun 40 lira olduğu bir manavdan 3 kg muz aldı.



Satıcıya 30 lira veren Şerife, kaç lira para üstü almalıdır?

- A) 6 ₺ B) 12 ₺ C) 24 ₺

- 18)



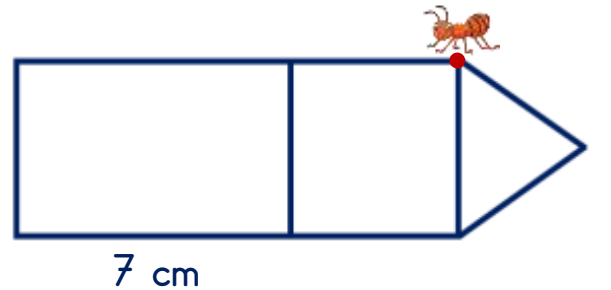
Yukarıda özellikleri verilen harf hangisidir?

- A) F B) M C) N

- 19) Aşağıdaki şekillerden hangisine diğerlerinden daha fazla simetri doğrusu çizilebilir?



- 20) Aşağıdaki görselde çevre uzunluğu 26 cm olan bir dikdörtgen, bir kare ve tüm kenarları eşit uzunlukta olan bir üçgen vardır.



Şekillerin çevresini bir tur dolaşip bulunduğu noktaya tekrar gelen karınca, kaç cm yürümüştür?

- A) 22 cm B) 33 cm C) 44 cm

21)



Okuldan gelince mut-
fakta bir şeyler yapan
annemin yanına gidip:
—

Yukarıdaki konuşmanın devamında
Ahmet hangisini söylerse işitme du-
yusunu kullanarak konuşmuş olur?

- A) Burnuma mis gibi kokular geldi.
- B) Mutfaktaki tıktıyı merak ettim.
- C) Pasta çok güzel gözüküyor.

22) Nihat, köpeği
Çomar ile park-
ta gezintiye çık-
mıştır.



Köpeğin ipine uygulanan kuvvet-
ler ile ilgili hangi ifade yanlıştır?

- A) Çomar, öne doğru gitmek için
ipe çekme kuvveti uygular.
- B) Nihat, Çomar'ın öne doğru git-
mesi için ipe itme kuvveti uygu-
lar.
- C) Nihat, Çomar'ı durdurmak için
ipe çekme kuvveti uygular.

23)

| ÖZELLİK MADDE | | | | | |
|------------------|---|--|---|---|---|
| | ✓ | | ✓ | ✓ | ✓ |
| | ✓ | | | | ✓ |

Yukarıdaki tabloda özellikleri işa-
retlenmiş olan maddeler hangi se-
çenekte verilmiştir?

- A) Kuş Taş
- B) Elma Odun
- C) Demir Şeker

24)

- El feneri
- Ay
- Ateş böceği
- Ayna

Yukarıda verilen eşleştirmeler ile
ilgili hangi ifade doğrudur?

- A) ve yapay ışık kaynağıdır.
- B) ve doğal ışık kaynağıdır.
- C) ve doğal veya yapay ışık
kaynağı değildir.

25) Aşağıdaki hayvanlar, ses şiddeti en fazla olandan en az olana doğru sıralanacaktır.



Buna göre baştan 3. sırada hangi hayvan yer alır?



26) "Çevremizdeki varlıklar, canlılar ve cansızlar olarak iki gruba ayrılırlar. Canlı varlıklar vedır."

Yukarıdaki paragrafta boş bırakılan yerlere hangileri yazılabilir?

- A) bitkiler - hayvanlar - otlar
B) insanlar - bitkiler - hayvanlar
C) kuşlar - balıklar - böcekler



Yukarıdaki maddelerden kaç tanesi toprağa veya suya atıldığı zaman doğaya ve canlılara kalıcı zararlar verir?

- A) 3 B) 4 C) 5

28) Hafta sonu annemle birlikte evde temizlik yaptık.

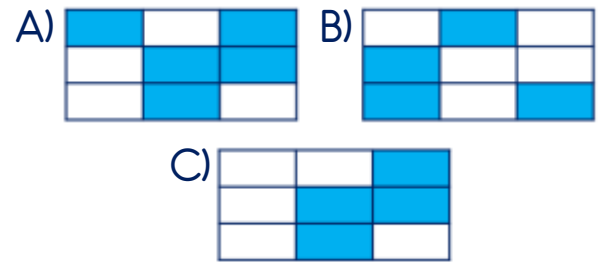
Verdiği bilgiye göre Melisalar, hafta sonu yaptıkları iş için hangi araca ihtiyaç duymamışlardır?

- A) Elektrik süpürgesi
B) Televizyon
C) Çamaşır makinesi

29)

| | | |
|-------|---------|-----------------|
| Kablo | Anahtar | Batarya |
| Motor | Akü | Şehir Elektrigi |
| Priz | Pil | Fiş |

Yukarıdaki tabloda elektrik kaynakları boyandığında tablonun görüntüsü nasıl olur?



30) Biriktirdiğimiz atık pilleri aşağıda logosu yer alan hangi kuruma gönderebiliriz?



31)



Marketten çikolata alırken;
 1-Son kullanma tarihine
 2-Reklamlarda çıkmasına
 3-İçindekilere
 4-Paketinin güzelliğine
 dikkat ederim.

Zeynep'in konuşmasındaki hangi ifadeler doğrudur?

A) 1-2 B) 1-3 C) 2-4

32) Aşağıdaki trafik levhaları ile anlamlarını eşleştiren birisi, 24 puan almıştır.



Buna göre trafik levhalarının hepsini doğru eşleştiren Kerem kaç puan alır?

A) 32 B) 48 C) 96

33) Aşağıda deprem öncesi, deprem esnası ve deprem sonrasında yapılması gerekenler verilmiştir.

- ▲ Çök-kapan-tutun hareketi
- Güvenli yerde beklemek
- Eşyaları duvara sabitlemek
- ◆ Deprem çantasını almak

Yukarıda verilenler hangi seçenekte oluş sırasına göre sıralanmıştır?

- A) ● - ▲ - ◆ - ■
- B) ▲ - ◆ - ● - ■
- C) ● - ■ - ▲ - ◆

34)



Görevlerimden bazıları;
 1-Çarşı ve pazarı denetlemek
 2-Nikâh işlemlerini yapmak
 3-.....

Yukarıdaki konuşmada 3. cümle hangisi olabilir?

- A) Askerlik işlemlerini takip etmek
- B) İkametgâh belgesi düzenlemek
- C) İtfaiye teşkilatını kurmak

35) Aşağıdaki olaylardan hangisinin yıl dönümünü millî bayram olarak kutlarız?

- A) Soyadı Kanunu'nun kabulü
- B) Atatürk'ün İzmir'e gelişi
- C) TBMM'nin açılması

36) *"Cumhuriyetle birlikte seçme ve seçilme hakkı, eğitimde eşitlik, yeni harflerin kabulü, Soyadı Kanunu gibi birçok kazanım elde edilmiştir."*


Bu kazanımlar Atatürk'ün hangi kişilik özelliğini göstermektedir?

- A) Çocuk sevgisi
- B) Yeniliklere açık olması
- C) Sanata önem vermesi

37)

| | |
|-----------------|----------------|
| Aziz Sancar ● | ● Pilot |
| Sabiha Gökçen ● | ● Arkeolog |
| Jale İnan ● | ● Bilim İnsanı |

Ülkemize hizmet etmiş kişilerle hizmet ettikleri alanlar hangi seçenekte doğru eşleştirilmiştir?



38)

| | | | |
|---------|----|-------|------|
| Hayvan | At | Hindi | İnek |
| Et | 1 | 2 | 3 |
| Süt | 4 | 5 | 6 |
| Yumurta | 7 | 8 | 9 |
| Deri | 10 | 11 | 12 |
| Güç | 13 | 14 | 15 |

Yukarıdaki tabloda işaretlenmesi gereken kutuların içindeki sayıların toplamı kaçtır?

- A) 42
- B) 44
- C) 48

39) Denizde yönünü kaybeden Kaptan Celil, hangi yöntemi kullanarak yönünü kolayca bulabilir?



- A) Ağaç gövdeleri
- B) Karınca yuvaları
- C) Pusula

40) Nesli tükenmek üzeredir.
 Bir bitki türü değildir.
 Şanlıurfa ilinin Birecik ilçesinde koruma altına alınmıştır.

Yukarıda özellikleri verilen canlı aşağıdakilerden hangisidir?

- A) Kardelen
- B) Kızıl akbaba
- C) Kelaynak

Cevap Anahtarı

1-B 2-B 3-C 4-C 5-A 6-B 7-C 8-B 9-C 10-A 11-B 12-A 13-A 14-C 15-B 16-B 17-A
18-B 19-B 20-C 21-B 22-B 23-B 24-C 25-A 26-B 27-A 28-B 29-C 30-A 31-B
32-B 33-A 34-C 35-C 36-B 37-A 38-B 39-C 40-C