

## TOPKAPI SARAYI



Bahar gelmişti. Havalarda yavaş yavaş ısınmaya başlamış, derslerin de sonlarına yaklaşmıştık. Bir gün öğretmenimiz bize müjde verdi. İki gün sonra sınıfça Topkapı Sarayı'na geziye gidecektik. Hepimiz havalara uçtuk. İki gün çabucak geçti. Hepimiz bahçede toplandık. Öğretmenimiz gezide nelere dikkat etmemiz gerektiğini anlattı. Otobüs Topkapı Sarayı'na yaklaştığında hepimiz sevinç çığlıkları attık. Defalarca gezdiği için rehberliğimizi öğretmenimiz yapacaktı.

Hayranlığımız daha kapısındaiken başladı. "Yüzyıllar önce nasıl yapabilmişlerdi bu koca sarayı?" diye düşündüm. Akşama kadar bütün bölümlerini tek tek dolaştık. Saray, Fatih Sultan Mehmet tarafından yaptırılmış. Padişahlar aileleri ile birlikte bu sarayda yaşıyorlarmış. Padişahlık dönemi sona erdikten sonra saray, o dönemden kalan eşyaların sergilendiği müze olarak kullanılmaya başlamış.

Dönme vakti gelmişti. Hem pek çok bilgi edinmiş, hem de çok eğlenmiştik. Öğretmenimize, bizi getirdiği için teşekkür ettik. Öğretmenimiz de sorun yaşatmadığımız için tekrar gezi düzenleyeceğine söz verdi.

**Not:** İlk 3 soruyu metne göre cevaplayınız.

1) Metindeki olay hangi mevsimde geçmektedir?

- A) Yaz      B) İlkbahar      C) Sonbahar

2) Çocuklara gezide kim rehberlik yapmıştır?

- A) Müze müdürü  
B) Gezi rehberi  
C) Öğretmenleri

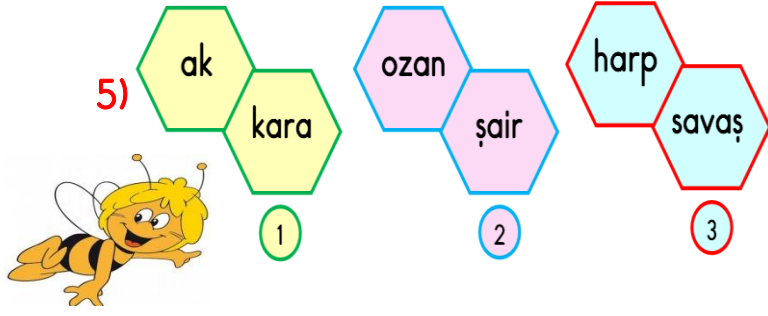
3) Metin ile ilgili aşağıdaki bilgilerden hangisi yanlıştır?

- A) Padişahlık dönemi sona erdikten sonra saray otel olarak kullanılmıştır.  
B) Topkapı Sarayı, Fatih Sultan Mehmet tarafından yaptırılmış.  
C) Padişahlar aileleri ile birlikte bu sarayda yaşıyorlarmış.

KELİME	ZİT ANLAMLIISI
kuru	
usta	
batı	

Yukarıda verilen kelimelerin zıt anlamlıları alfabetik olarak sıralanırsa nasıl bir görüntü oluşur?

- A)   
B)   
C)



5) Arı Maya, bal peteklerini eş anlamlı sözcüklerle oluşturmuştur. Buna göre yukarıdaki bal peteklerinden hangisi Arı Maya'ya ait değildir?

- A) 1 B) 2 C) 3

- 6) Babam banyoda tıraş oluyor.  
 Furkan 2.inci sınıfta okuyor.  
 Antalyalı komşularımız taşınıyor.

Yukarıdaki cümlelerin hangisinde yazım yanlışı vardır?

- A) B) C)

7)



Ozan'ın yukarıda özelliklerini verdiği cümle aşağıdakilerden hangisidir?

- A) Mehmet yaz tatilini çok seviyor.  
 B) Tren ile uçak ulaşım araçlarıdır.  
 C) Cumartesi günü parkta spor yapıyoruz.

8)



Eyvah( ) Ayşe( )nin kimliğini evde mi unuttun( )

Yukarıdaki cümlede parantezlerin ( ) içine sırasıyla hangi noktalama işaretleri gelmelidir?

- A) ( , ) ( ' ) ( . ) B) ( ! ) ( ' ) ( . )  
 C) ( ! ) ( ' ) ( ? )

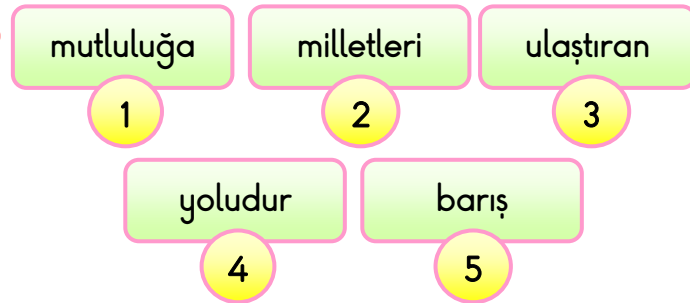
9)

Adlar	Özel	Cins	Tekil	Çoğul
Antalya	✓		✓	
Çiçekler		✓		✓
?	✓			✓

Yukarıdaki tabloda adlar, varlıkların verilmesine ve sayısına göre belirtilmiştir. Tabloda soru işareti " ? " ile belirtilen yere hangisi yazılabilir?

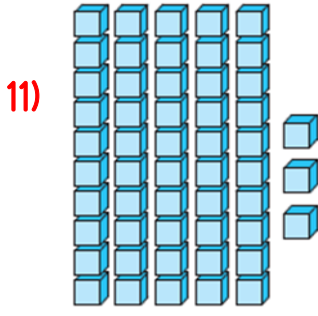
- A) Türkler B) İstanbul  
 C) Dağlar

10)



Yukarıdaki kelimelerle kurallı ve anlamlı bir cümle oluşturulursa sıralama nasıl olur?

- A) 2-1-3-5-4 B) 2-3-4-1-5  
 C) 2-1-4-5-3



Yandaki taban bloklarıyla modellenen sayının rakamlarının yerleri değiştirilerek yeni bir sayı elde ediliyor.

Elde edilen yeni sayı için aşağıdakilerden hangisi doğrudur?




- A) Onlar basamağındaki rakamın basamak değeri 20 artmıştır.
- B) Birler basamağındaki rakamın basamak değeri 2 artmıştır.
- C) Sayı, 3 birlik 5 onluktan oluşmaktadır.

12)  $2 \text{ deste} + 1 \text{ düzine} = \star$

$2 \text{ düzine} - 2 \text{ deste} = \heptagon$

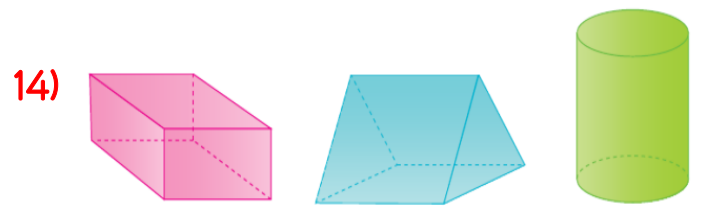
Yukarıda verilen işlemlerden elde edilen sonuçlara göre " $\star \div \heptagon = ?$ " işleminin sonucu kaçtır?

- A) 6
- B) 7
- C) 8



13)   

Yukarıda verilen işlem sonuçlarını en yakın onluğa yuvarladığımızda hangi sayıya ulaşamayız?


- A) 30
- B) 40
- C) 50



Yukarıdaki geometrik cisimleri kullanarak aşağıda verilen hangi geometrik şekli çizemeyiz?



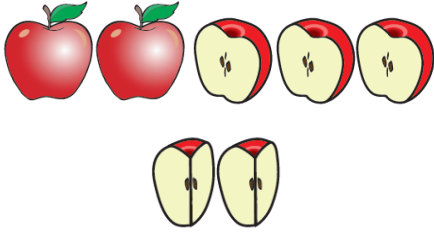
15) 
$$\begin{array}{r} 12 - 4 = 8 \\ 8 - 4 = 4 \\ 4 - 4 = 0 \end{array} \rightarrow \begin{array}{r} \triangle \\ \hline \square \\ \triangle \\ \circ \end{array}$$



Emre, yukarıdaki ardışık çıkarma işlemine göre bölme işlemi elemanlarını yazacaktır. Buna göre bölme işleminin hangi elemanını yanlış yazmıştır?

- A) Bölünen  $\leftrightarrow$   $\triangle = 12$
- B) Bölüm  $\leftrightarrow$   $\circ = 4$
- C) Bölün  $\leftrightarrow$   $\square = 4$

16)



Aynur yukarıda verilen elmaların tamamını, her bir arkadaşına çeyrek elma vererek dağıtmıştır. Buna göre Aynur'un kaç arkadaşı vardır?

A) 13

B) 15

C) 16

17)

ÜRÜN	FİYATI

Marketten 1 balık, 2 kutu süt, 3 ekmek alan bir müşteri, kaç TL para ödemelidir?

A) 36 TL

B) 37 TL

C) 40 TL

18)



Ahmet Bey, terazide ağırlığı verilen patatesin tamamını 1 kilogramını 4 TL'den satın almıştır. Satıcıya 50 TL veren Ahmet Bey kaç TL para üstü alır?

A) 18 TL

B) 22 TL

C) 32 TL

19)



Köyümüze tatile gitmem için kalan zaman, 1 aydan 8 gün eksiktir. (1 ay 30 gündür)



Antalya'ya tatile gitmem için kalan zaman 2 haftadan 6 gün fazladır.



Teyzelerle tatile gitmem için kalan zaman 3 haftadan 2 gün eksiktir.

Yukarıda verilen ifadelere göre hangi öğrenci **daha önce** tatile gidecektir?

A)



B)



C)



20)



Erdem, çalışma masasının uzunluğunu 6 karış, 8 parmak uzunluğunda ölçmüştür. Erdem'in 1 karışı 10 cm, 1 parmağının uzunluğu ise 2 cm'dir.

Erdem'in çalışma masasının uzunluğu kaç santimetredir?

A) 68 cm

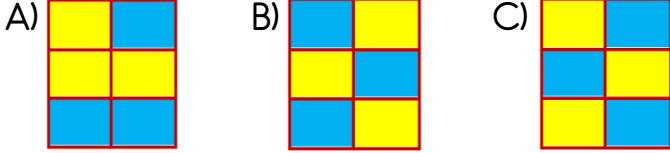
B) 76 cm

C) 78 cm

21)

Göz rengimiz	İlgi alanlarımız
Becerilerimiz	Boy uzunluğu
Kilomuz	Duygusal yapımız

Tabloda verilen fiziksel özellikler sarı, kişisel özellikler mavi renge boyanırsa nasıl bir görüntü oluşur?



22)



Yemek yerken peçete kullanmalıyız. Ağızımızda yemek varken konuşmamalıyız.

Ali'nin ifadesi aşağıdakilerden hangisi ile ilgilidir?

- A) Yemekte görgü kuralları  
B) Beslenmenin önemi  
C) Sağlıklı ve dengeli beslenme

23) Aşağıdakilerden hangisi bağımsızlık ve özgürlük sembollerimizden birisi **değildir**?



Bayrağımız



İstiklâl Marşı



Halk oyunlarımız

24)



1



2



3

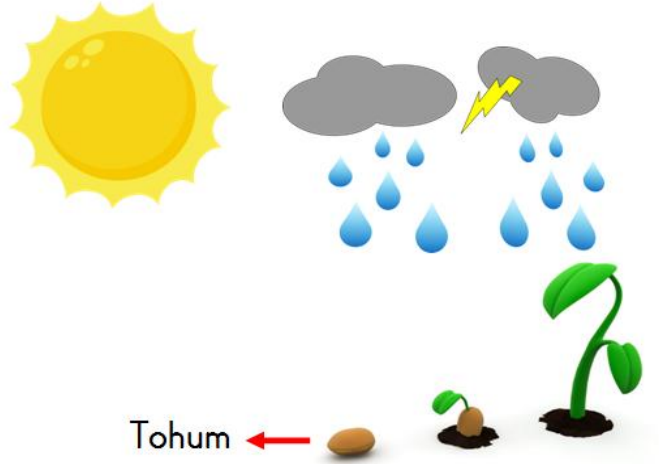


4

İlkokul 2. sınıfta okuyan bir öğrencinin yukarıdaki teknolojik aletlerden hangilerini tek başına kullanması **tehlikelidir**?

- A) 1-2 B) 2-3 C) 3-4

25)



Yukarıdaki görsele göre hangi ifade **doğrudur**?

- A) Tüm canlıların yaşam şartları aynıdır.  
B) Bitkilerin ilgi ve bakıma ihtiyaçları yoktur.  
C) Bitkiler gelişmek için suya, ısı ve ışığa, toprağa gereksinim duyar.

26)



Doğa olaylarının, bazı doğal unsurlar üzerinde olumsuz etkileri olabilir.

Aşağıdaki durumlardan hangisi doğa olayının, doğal unsurlar üzerindeki **olumsuz** bir sonucudur?

- A) Yağışın çok fazla olduğu yerlerde ormanlar fazladır.
- B) Yağmur suyu sellere neden olabilir.
- C) Kar yağışı toprağın beslenmesi açısından yararlıdır.

27)



Yukarıda verilen resimde Efe'nin yüzü güneşin doğduğu yönü göstermektedir. Bu bilgiye göre Efe'nin **sol kolu** hangi yönü göstermektedir?

- A) Kuzey
- B) Batı
- C) Güney

28)



Aşağıdakilerden hangisi depremden önce alınabilecek önlemlerden birisi **değildir**?

- A) Artçı sarsıntılar bitene kadar hasarlı binalara yaklaşmamalıyız.
- B) Binadan çıkış için kullanabileceğimiz güvenli yolu öğrenmeliyiz.
- C) Evimizde acil durum çantası hazırlayıp kolay ulaşabileceğimiz bir yere koymalıyız.

29)



Dünya'nın Güneş etrafındaki dolanımı ile ilgili hangi bilgi **doğrudur**?

- A) Dünya, Güneş'in etrafında dolanırken hep aynı yüzü Güneş'i görür.
- B) Bu dolanım sonucu mevsimler meydana gelir.
- C) Dünya, Güneş etrafında dolanırken, kendi etrafında dönmez.

30)



İri taneli yağış, tarım arazilerine zarar verdi.



Uçan çatılar çevreye zarar verdi.



Görüşü azalan sürücüler kaza yaptı.

Öğrenciler hangi hava olayının zarar verici etkilerinden söz etmiştir?



A) Dolu



Rüzgâr



Sis

B) Rüzgâr

Sis

Dolu

C) Dolu

Sis

Rüzgâr

## Cevap Anahtarı

1)B 2)C 3)A 4)C 5)A 6)B 7)B 8)C 9)A 10)A  
11)B 12)C 13)A 14)A 15)B 16)C 17)C 18)B 19)C 20)B  
21)C 22)A 23)C 24)B 25)C 26)B 27)A 28)A 29)B 30)A