



MATEMATİK ÇALIŞMA SORULARI



1-) Baştan 5. olan varlığın altındaki kutucuğu işaretleyiniz.

2-) Aşağıdaki toplama işlemlerinde verilmeyen toplananları bulunuz.

$$\begin{array}{r} \square \\ + 8 \\ \hline 16 \end{array}$$

$$\begin{array}{r} 12 \\ + \square \\ \hline 19 \end{array}$$

$$\begin{array}{r} \square \\ + 7 \\ \hline 14 \end{array}$$



$$\square + 9 = 16$$

$$17 + \square = 12$$


$$4 + \square = 11$$

$$\square + 12 = 20$$

3-) Aşağıdaki ritmik saymalarda boş yerlere gelebilecek sayılarını yazınız.



4-) Verilen şekillerdeki yarım ve bütün sayılarını yazınız.



..... yarım kivi
..... bütün kividir.



..... yarım armut
..... bütün armuttur.



..... yarım nar
..... bütün nardır.



..... yarım domates
..... bütün domatestir

Mart 2020						
pt	sa	ça	pe	cu	ct	pz
						1
2	3	4	5	6	7	8
9	10	11	12	13	14	15
16	17	18	19	20	21	22
23	24	25	26	27	28	29
30	31					

5-) Aşağıdaki soruları cevaplayınız.

- Mart ayının ilk ve son günü hangi gündür?
- 27 Mart hangi gündür?
- Mart ayında kaç tane Salı günü vardır?

6-) Aşağıda verilen saatleri akrep ve yelkovan kullanarak saat modelinde çiziniz.



04.30

Okunuşu:

MATEMATİK DEĞERLENDİRME TESTİ



1-) Kamil'in kaç TL parası vardır?

- A-) 15 B-) 16 C-) 17


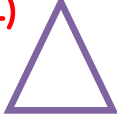



5-) Yukarıdaki resimde kaç bütün ekmek vardır?

- A) 8 B-) 4 C-) 6

Birbirine eşit 2 uzun kenarı ve birbirine eşit 2 kısa kenarı vardır. 4 köşesi vardır.

2-) Açıklaması verilen geometrik şekil aşağıdakilerden hangisidir?

- A)  B-)  C-) 



6-) Hayri sabah 8 erik akşam ise sabah yediği erik sayısından 3 fazla erik yemiştir. Hayri sabah ve akşam toplam kaç erik yemiştir?

- A) 8 B) 18 C) 19

3-) Aşağıdaki günlerden hangisi hafta sonu değildir?

- A-) Pazar
B-) Pazartesi
C-) Cumartesi

OCAK



Pazartesi	Salı	Çarşamba	Perşembe	Cuma	Cumartesi	Pazar
						1
2	3	4	5	6	7	8
9	10	11	12	13	14	15
16	17	18	19	20	21	22
23	24	25	26	27	28	29
30	31					

7-) Ocak ayının ilk günü hangi gündür?

- A-) Pazartesi B-) Pazar
C-) Salı

8-) Ocak ayı kaç gündür?

- A-) 31 B-) 30 C-) 28



4-) Yukarıdaki örüntüyü devam ettirsek sıradaki meyve aşağıdakilerden hangisi olabilir?

- A-)  B-)  C-) 

İskender TAŞ