



EŞ VE KARŞIT ANLAMLI SÖZCÜKLER

* Aşağıda verilen eş anlamlı kelimeleri eşleştirerek aşağıya yazalım.

düş

baş

anı

kirlî

güç

cevap

misafir

rüya

yurt

muallim

pis

mekteþ

konuk

öğretmen

yanıt

vatan

kuvvet

vatan

hatıra

okul

..... - / - / -
 - / - / -
 - / - / -
 -



* Aşağıda verilen zıt anlamlı kelimeleri eşleştirerek aşağıya yazalım.

yüksek

sağlam

zayıf

bayat

hızlı

boş

kuru

önce

uzak

korkak

şişman

taze

yavaş

cesur

çürük

yakın

yaş

sonra

alçak

dolu

..... - / - / -
 - / - / -
 - / - / -
 -



OLUMLU VE OLUMSUZ CÜMLE

* Aşağıdaki cümlelerde olumsuz cümleyi olumlu hale , olumlu cümleyi olumsuz hale dönüştürelim.

Sinem kaybettiği kalemi bulamamış.
Sinem kaybettiği kalemi bulmuş.

Babam pazardan karpuz almamış.
.....

Parktan gelince ellerimi yıkamadım.
.....

Fatih ve Ozan havuzda yüzmedi.
.....

Defne kitaptaki problemleri çözemedi.
.....

Ablam bahçedeki çiçekleri suladı.
.....

Annem balkondaki çamaşırları topladı.
.....

Serhat anlattığım fıkraya güldü.
.....

TÜRKÇE

1. Etkinlik: Aşağıdaki cümlelerdeki olayları oluş sırasına göre numaralandırılarak sıralayalım.

...	Saksıya biraz toprak koyduk.
...	Saksıya biraz su döktüm.
...	Babam çiçek tohumu aldı.
...	Çiçek tohumunu saksıya ektik.
...	Küçük bir saksı buldum.



...	Fırından üç tane ekmek aldı.
...	Babası , Kemal'e para verdi.
...	Aldığı ekmekleri mutfağa bıraktı.
...	Evde ekmek bitmişti.
...	Kemal karşıdaki fırına gitti.



...	İki takım kurdular.
...	Çetin yeni bir top almıştı.
...	Maçı Çetin'in takım kazandı.
...	Arkadaşlarıyla okul bahçesinde buluştular.
...	Maçta Çetin iki gol attı.



...	Doğruca parka gitti.
...	Suna hemen kahvaltısını yaptı.
...	Arkadaşlarıyla kartopu oynadı.
...	Gece kar yağmıştı.
...	Kabanını ve eldivenini giyip dışarı çıktı.

...	Rana kümese girdi.
...	Dedesıyla kümese gitti.
...	Yumurtaları sepete koydu.
...	Dedesi kümesin kapısını açtı.
...	Rana mutfaktan sepeti aldı.



...	Doktor reçete yazdı.
...	Annesi sağlık ocağına götürdü.
...	Annesi ilaçları aldı.
...	Ozan çok öksürüyordu.
...	Doktor Ozan'ı muayene etti.

...	Kitabını çantasına koydu.
...	Kitaptaki hikayeyi okudu.
...	Ela'nın ödevi vardı.
...	Hikayenin sorularını cevapladı.
...	Çantasından kitabını çıkardı.

...	Annem yemeği ocakta ısıttı.
...	Elimi yıkadım.
...	Çok acıkmıştım.
...	Bir tabak yemek yedim.
...	Anneme acıktığımı söyledim.



DİLEK VE UÇURTMASI

Zamanın birinde Dilek adında küçük bir kız varmış. Dilek ve ailesinin evi ormanın çok yakınındaymış. Ailecek yürüyüşe çıktıklarında bazen yıldı atlarını, bazen geyikleri görüyorlarmış.

Günlerden bir gün Dilek bahçeye çıkmış ve oyun oynamaya başlamış. Oyun oynamaktan sıkılınca aklına babasının geçen gün aldığı uçurtma gelmiş. Hemen eve girmiş uçurtmayı almış ve başlamış uçurmaya. Uçurtma havalanmış, havalanmış bir süre sonra ormanın içine düşmüş. Dilek koşarak ormanın içine girmiş ve uçurtmasını aramaya başlamış. Dilek biraz dolandıktan sonra uçurtmasının ağacın dallarında asılı kaldığını görmüş. Eline bir sopa almış ama yine de uçurtmaya erişememiş. Uçurtmayı alamayınca ağacın altında oturup ağlamaya başlamış. Ağlama sesini duyan geyiklerden biri sese doğru gitmiş ve küçük kıza ağacın altında ağlarken bulmuş. Cesaretini toplayıp kızın yanına gitmiş. Dilek geyiği görünce çığlık atmış bunun üzerine geyik konuşmaya başlamış "Merhaba küçük kız, lütfen benden korkma, sana asla zarar vermem. Sadece ağlama sesini duydum o yüzden geldim." demiş. Dilek o an geyiğin zararsız olduğunu anlamış ve uçurtmasının ağaca takıldığını söylemiş. Geyik "Çok üzüldüm ama sana yardımcı olabilirim, biraz bekle olur mu?" demiş ve Dilek de kafasını sallayarak beklemeye başlamış.

Geyik çok yüksek bir sesle bağırmış ve bir kaç dakika sonra bir kuş uçarak geyiğin boynuzuna konmuş. Geyik olanları kuşa anlatmış ve kuş hemen ağacın dalına uçmuş uçurtmayı dallardan kurtararak Dilek'e getirmiş. Dilek uçurtmasına kavuştuğu için çok mutlu olmuş. Kuşa ve geyiğe çok teşekkür etmiş. Kuş ve geyik kıza sarılarak vedalaşmışlar. O günden sonra Dilek, geyik ve kuş çok yakın arkadaş olmuşlar.



Aşağıdaki soruları metne uygun bir şekilde cevaplayınız.

1. Dileklerin evi neredeymiş?

.....

2. Ailecek yürüyüşe çıktıklarında ormanda ne görüyorlarmış?

.....

3. Dilek oyun oynamaktan sıkılınca ne yapmış?

.....

4. Dilek uçurtmayı alamayınca ne yapmış?

.....

5. Dilek geyiği görünce ne yapmış?


.....

6. Dilek'e uçurtmayı kim getirmiş?

.....

DÜNYA'NIN ŞEKLİ VE HAREKETLERİ

1. Etkinlik: Dünya'nın şekline benzer olanları işaretleyelim.



2. Etkinlik: Verilen resimlerle olayları ve sonuçlarını ok işaretiyle eşleyelim.



Dünya Güneş çevresinde dolanır.

Gece ve gündüz oluşur ve sırayla birbirini takip eder.



Dünya kendi etrafında döner.

Mevsimler oluşur ve sırayla birbirini takip eder.


3. Etkinlik: Doğru ifadelerin yıldızlarını maviye, yanlış ifadelerin yıldızlarını kırmızıya boyayalım.

- ☆ Dünya Ay'ın etrafında dolanır.
- ☆ Dünya etrafında dönüşünü 24 saatte tamamlar.
- ☆ Bir yılda dört mevsim vardır.
- ☆ Dünya Güneş etrafında dolanışını 1 ayda tamamlar.
- ☆ Dünya'nın kendi etrafında dönmesiyle gece ve gündüz oluşur.
- ☆ Yaz mevsiminde Güneş'in zararlı etkilerinden korunmalıyız.
- ☆ Ağaçlar sonbahar mevsiminde çiçek açar.
- ☆ En soğuk mevsim kış mevsimidir.
- ☆ Güneş Dünya'nın etrafında dolanır.



TARTMA

1. Etkinlik: Aşağıda verilen ağırlık (kütle) ölçüm sonuçlarını yazınız.



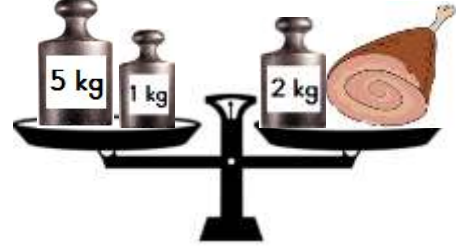
Armudun ağırlığı kilogramdır.



Muzun ağırlığı kilogramdır.



Şekerin ağırlığı kilogramdır.



Etin ağırlığı kilogramdır.



Balığın ağırlığı kilogramdır.



Soğanın ağırlığı kilogramdır.



Domatesin ağırlığı kilogramdır.



Çileğin ağırlığı kilogramdır.




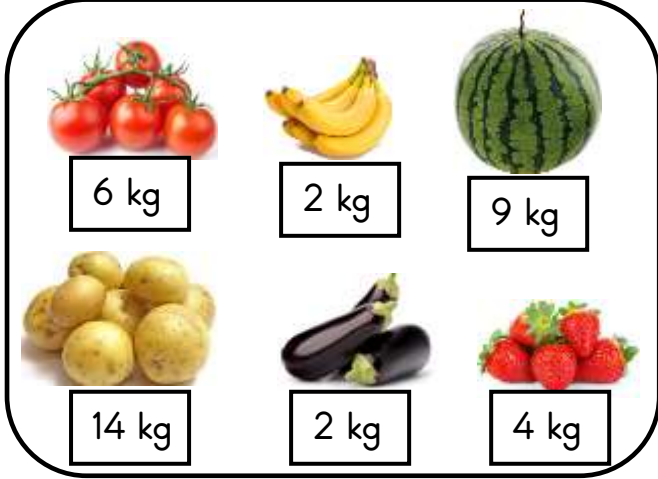
Karpuzun ağırlığı kilogramdır.



Pirincin ağırlığı kilogramdır.

TARTMA

1. Etkinlik: Hülya ve Okan kendi babalarıyla birlikte pazardan aşağıdaki sebze ve meyveleri almışlar. Aşağıda verilen ifadelerde noktalı yerleri uygun şekilde doldurunuz . (ağırdır , hafiftir , eşittir)



- * Okan'ın aldığı karpuz , Hülya'nın aldığı karpuzdan
- * Hülya'nın aldığı patates , Okan'ın aldığı patatesten
- * İkisinin de aldığı muzun ağırlığı
- * Hülya'nın aldığı patlıcan , Okan'ın aldığı patlıcandan
- * Okan'ın aldığı domates , Hülya'nın aldığı domatesten
- * Okan'ın aldığı çilek , Hülya'nın aldığı çilekten
- * İkisinin de aldığı domates ve çileğin toplam ağırlığı
- * Hülya'nın aldığı patates ve patlıcanın toplamı , Okan'ın aldığı patates ve patlıcanın toplamından
- * Okan'ın aldığı çilek ve muzun toplamı , Hülya'nın aldığı çilek ve muzun toplamından
- * Okan'ın aldığı karpuz ve patatesin toplamı , Hülya'nın aldığı karpuz ve patatesin toplamından
- * Hülya'nın aldığı çilek ve patlıcanın toplamı , Okan'ın aldığı çilek ve patlıcanın toplamından

TARTMA

1. Etkinlik: Aşağıda hayvanların ağırlıkları verilmiştir. Verilenlere göre doğru seçeneği boyayınız.



45 kg



39 kg



48 kg



4 kg



6 kg



64 kg



57 kg



13 kg

* En ağır hayvan

koç

eşek

* En hafif hayvan

kedi

horoz

* Hindi horozdan

ağırdır

hafiftir

* Keçi koyundan

ağırdır

hafiftir

* Koç köpekten

ağırdır

hafiftir

* Horoz kediden

ağırdır

hafiftir

* Koç eşekten

ağırdır

hafiftir

* Kedi horozdan

ağırdır

hafiftir

* Keçi hindiden

ağırdır

hafiftir

* Eşek koçtan

ağırdır

hafiftir



TARTMA İLE İLGİLİ PROBLEMLER

1. Babam pazardan 4 kg domates , 2 kg patlıcan ve 3 kg salatalık aldı. Babamların aldıkları toplam kaç kg'dır ?

Çözüm:



2. Tolga 28 kg ağırlığındadır. Can ise Tolga'dan 14 kg daha ağırdır. Canın ağırlığı kaç kg'dır?

Çözüm:



3. Bir manav sabah dükkana 60 kg muz getirmiş. Muzun 28 kg'ını satmış. Geriye kaç kg muz kalmıştır ?

Çözüm:



4. Babamın taşıdığı büyük kutu 42 kg ağırlığındadır. Küçük kutu ise 17 kg daha hafiftir. Küçük kutu kaç kg ağırlığındadır?

Çözüm:



5. Annem çilek reçeli yapmak için bir kilosu 8 lira olan çilekten 4 kg almış. Annem kaç lira ödemiştir ?

Çözüm:



6. Amcam her birinin ağırlığı 7 kg olan 3 tane karpuz almış. Karpuzların toplam ağırlığı kaç kg'dır?

Çözüm:



7. Evimizde bir tanesinin ağırlığı 20 kg olan 2 torba un vardı. Annem onun 23 kilogramını kullanmış. Geriye kaç kilogram un kalmıştır?

Çözüm:



8. Bir bakkal 24 kg toz şekeri 3 kg'lık poşetlere koymuş. Bakkal kaç tane poşet kullanmıştır ?

Çözüm:



TARTMA İLE İLGİLİ PROBLEMLER

1. Evimizde 14 kg toz şeker vardı. Annem reçel yaparken toz şekerin yarısını kullandı. Annem kaç kg şeker kullandı ?

Çözüm:



2. Pazarcı 74 kg eriğin önce 17 , sonra 29 kg'ını satmış. Geriye kaç kg erik kalmıştır ?

Çözüm:



3. Beyza ile Sevgi'nin ağırlıkları toplamı 63 kg'dır. Beyza 35 kg olduğuna göre Sevgi kaç kg'dır ?

Çözüm:



4. Bir bakkal 28 kg unu 4 kg'lık poşetlere koymuş. Bakkal kaç tane poşet kullanmıştır ?

Çözüm:



5. Bir pastanede tatlı yapmak için her gün 5 kg şeker kullanılıyor. Bir haftada kaç kg şeker kullanılır ?

Çözüm:



6. Her birinde 18 kg domates olan 3 kasa domates vardı. Domatesin 38 kg'ı satıldı. Kaç kg domates kalmıştır ?

Çözüm:



7. Sinem ve 3 arkadaşı bahçede elma toplamışlar. Her biri 6 kg elma topladıklarına göre kaç kg elma toplamışlardır ?

Çözüm:



8. Babam 82 kg ağırlığındadır. Ben ise babamdan 47 kg daha hafif olduğuma göre benim ağırlığım kaç kg'dır ?

Çözüm:



TARTMA İLE İLGİLİ PROBLEMLER

1. Amcam manavdan 6 kg domates, 4 kg salatalık ve 3 kg biber almış. Amcam manavdan toplam kaç kg sebze almış ?

Çözüm:



2. Bakkal 40 kg zeytinin önce 13 kg'ını sonra 16 kg'ını satmış. Geriye kaç kg zeytin kalmıştır ?

Çözüm:



3. Dedem her birin 4 kg çilekler olan kasalardan 6 kasa almış. Dedem kaç kg çilek almıştır ?

Çözüm:



4. Bir kasap 90 kg etin 28 kg'ını dün, 35 kg'ını bugün satmış. Geriye kaç kg et kalmıştır ?

Çözüm:



5. 12 kilogram pirince ihtiyacı olan bir aşçı, paketi 2 kilogram olan pirinçlerden kaç paket almalıdır ?

Çözüm:



6. Erdem kilosu 7 lira olan kayısıdan 2 kg almış. Satıcıya 20 lira vermiş. Erdem kaç lira para üstü alır ?

Çözüm:



7. İrem 26 kilogram ağırlığındadır. Ablası ise İrem'den 17 kilogram ağırdır. İki toplam kaç kilogram ağırlığındadır ?

Çözüm:



8. Büyük kutu 23 kg ağırlığındadır. Küçük kutu ise büyük kutudan 8 kg daha hafiftir. İki kutunun toplam ağırlığı kaç kg'dır ?

Çözüm:



TARTMA İLE İLGİLİ PROBLEMLER

1. Topladığımız elmaların 5 tanesi 1 kg gelmektedir. 30 tane elma topladık. Kaç kg elma toplamış olduk ?

Çözüm:



2. Evimizde 14 kilogram ceviz vardı. Cevizlerin yarısını yemişiz. Kaç kilogram ceviz yemişiz ?

Çözüm:



3. Pastanede her biri 10 kg ağırlığında toz şeker vardı. Şekerin 18 kg'ını kullanılmış. Kaç kg toz şeker kalmıştır. ?

Çözüm:



4. El arabasına her birinin ağırlığı 14 kg olan 3 kutu koyduk. El arabasında toplam kaç kg yük olmuştur ?

Çözüm:



5. 4 tane armut 1 kg'dır. Arkadaşlarımla 6 kg armut topladık . 4 tane armut 1 kg'dır. Armutlardan 8 tanesini yedik. Kaç tane armut kalmıştır ?

Çözüm:



6. Erem 27 , Burçin 25 kg ağırlığındadır. İkisini toplam ağırlığı 60 kg'dan kaç kg azdır ?

Çözüm:



7. İki kutunun toplam ağırlığı 53 kg'dır. Kutuların biri 35 kg olduğuna göre diğer kutu kaç kg'dır ?

Çözüm:



8. Her gün 5 kg zeytin satan bir bakkal 8 günde kaç kg zeytin satar ?

Çözüm:



TARTMA İLE İLGİLİ PROBLEMLER



7 lira



26 lira



45 lira



17 lira



6 lira



4 lira



26 lira



9 lira



3 lira



10 lira



12 lira



20 lira

Yukarıda markette satılan gıdaların 1 kilogramının satış fiyatları verilmiştir. Buna göre soruları cevaplayalım.

1. 3 kg kiraz liradır.

2. 4 kg pirinç liradır.

3. Fiyatı en ucuz ürün

4. Fiyatı en pahalı ürün

5. 7 kg elma liradır.

6. 2 kg peynir liradır.

7. 3 kg un liradır.

8. 5 kg şeftali liradır.

9. 3 kg zeytin liradır.

10. 2 kg çekirdek liradır.

11. 2 kg et liradır.

12. 6 kg domates liradır.

13. 2 kg balık liradır .

14. 3 kg muz liradır.

15. 1 kg elma , 1 kg zeytin toplam liradır.

16. 1 kg et , 1 kg pirinç toplam liradır.

17. 1 kg kiraz, 1 kg çekirdek toplam liradır.

18. 1 kg balık , 1 kg domates toplam liradır.

TARTMA

1. Etkinlik: Aşağıda verilen ölçüm sonuçlarına göre problemleri yapınız.




1. Şeker kaç kilogramdır?

Cözüm :



2. Bulgur kaç kilogramdır?

Cözüm :




3. Bulgur tuzdan kaç kilogram fazladır?

Cözüm :



4. Nohut kaç kilogramdır ?

Cözüm :




5. Şeker ve nohudun toplam ağırlığı kaç kilogramdır ?

Cözüm :




6. Pirinç kaç kilogramdır ?

Cözüm :



7. Nohut pirinçten kaç kilogram fazladır?

Cözüm :



8. Pirinç ve tuz toplam kaç kilogramdır?

Cözüm :



9. En ağır ile en hafif arasında kaç kilogram fark vardır ?

Cözüm :



10. Bulgur ve pirinç toplam kaç kilogramdır ?

Cözüm :

