



Aşağıdaki metni anlayana kadar okuyalım.

TATİL ZAMANI

Sevgili öğrenciler,

Bir eğitim öğretim yılının daha sonuna geldik. Bu yıl birinci sınıflar okuma yazmayı öğrendiler. Diğer derslerde de birçok bilgiyi edindiler. İkinci, üçüncü ve dördüncü sınıflar ise geçmiş yıllarda öğrendikleri bilgilerin üzerine yeni bilgiler eklediler. Ayrıca dördüncü sınıflar mezun oldular. Bundan sonraki eğitimlerine ortaokullarda devam edecekler. Mebders Ailesi olarak dördüncü sınıfı bitiren öğrencilerimize bundan sonraki eğitim hayatlarında başarılar dileriz.

Birbirinden güzel etkinlikler yaptığımız, oyunlar oynadığımız, dolu dolu bir yılın ardından hepimiz tatili hak ettik. Önümüzdeki yılın bu yıldan daha güzel olması, derslerde daha başarılı olmamız için tatilde bol bol dinlenelim, oyunlar oynayalım, ailemizle vakit geçirelim.

Eylül ayından itibaren yine birbirinden güzel etkinliklerle sizlerin yanında olacağız. Sizlerin eğitimi için hiçbir fedakârlıktan kaçınmayan ailelerinize ve öğretmenlerimize selamlarımızı iletin. Hepinize iyi tatiller...

MebDers Ailesi



Aşağıdaki soruları metne göre cevaplayalım.



Bu yıl birinci sınıflar neler öğrenmişler?

.....



Dördüncü sınıflar hangi okullara devam edeceklermiş?

.....



Tatilde neler yapmamız isteniyor?

.....

İyi
tatiller
çocuklar



MebDers .Com



5NİK Soruları-3

★ Aşağıdaki metinleri okuyarak soruları cevaplayalım.

Hoca'nın Yüğü

Nasreddin hoca sabah erkenden yola çıkmış. Alışveriş yapmak için pazara gidiyormuş. Pazar yerine varıp biraz dolaşmış. Fiyatları incelemiş. Sonra şeker, un ve yağ alıp heybesine koymuş. Heybesini sırtlayıp evin yolunu tutmuş. Sırtındaki heybe yüzünden yorgun düşen Hoca'yı komşusu görmüş. Heybesini alıp evine kadar Hoca'ya yardım etmiş.

👉 Hoca **ne zaman** yola çıkmış?

👉 Hoca **nereye** gidiyormuş?

👉 Hoca pazara **niçin** gidiyormuş?

👉 Hoca pazardan **ne** almış?

👉 Hoca'ya **kim** yardım etmiş?

👉 Komşusu **nasıl** yardım etmiş?

Kerem'in Rüyası

Kerem rüyasında bir uzay aracı görmüş. Uzay aracına binip Mars'a gitmiş. Mars'ın yüzeyi çok pürüzlüymüş. Kerem incelemek için yerden bir taş almış. Tam uzay aracına binecekken annesinin sesini duymuş:

– Kerem! Hadi kalk yavrum, sabah oldu.

Gözlerini açınca her şeyin rüya olduğunu anlamış.

👉 Keren rüyasında **ne** görmüş?

👉 Uzay aracı ile **nereye** gitmiş?

👉 Mars'ın yüzeyi **nasıl** olmuş?

👉 Kerem yerden **niçin** taş almış?

👉 Kerem **kimin** sesini duymuş?

👉 Rühayı **ne zaman** anlamış?



KÜTLE ÖLÇME PROBLEMLERİ-1



Uzunluk ölçme ile ilgili verilen problemleri çözelim.

Nehir'in ağırlığı 27 kg, Melisa'nın ağırlığı 23 kg ve Ceylin'in ağırlığı 25 kg'dır. Üç arkadaşın toplam ağırlığı ne kadardır?

Nihat'ın ağırlığı 32 kg'dır. Kayra'nın ağırlığı ise Nihat'ın ağırlığından 7 kg daha fazladır. İkisinin ağırlıkları toplamı ne kadardır?

Elifin ağırlığı, Melek'in ağırlığından 5 kg daha azdır. Elif 28 kg olduğuna göre ikisinin ağırlıkları toplamı ne kadardır?

Babam pazardan her biri 7 kg olan 5 tane karpuz aldı. Babam toplam kaç kg karpuz almıştır?

Bir manav hafta içi her gün 8, hafta sonu her gün 6 kg elma satmıştır. Bu manav bir haftada kaç kg elma satmıştır?

Kilosu 7 lira olan muzdan 4 kg alan Miraç satıcıya 30 lira vermiştir. Miraç kaç lira para üstü almalıdır?

Bir bakkal çuvaldaki 24 kg şekeri 3'er kg'lık poşetlere eşit şekilde dolduracaktır. Bakkalın kaç poşete ihtiyacı vardır?

Annem 3 kg'lık bir kavunu 15 liraya aldı. Buna göre kavunun kilosunu kaç liradır?



KÜTLE ÖLÇME PROBLEMLERİ-2



Uzunluk ölçme ile ilgili verilen problemleri çözelim.

Ahmet amca tarlasından topladığı 65 kg domatesi kasalara koydu. Yolda 17 kg domates ezildi. Geriye sağlam kaç kg domates kalmıştır?

Kilosu 4 lira olan elmadan 5 kg, kilosu 6 lira olan üzümünden 3 kg alan Hayal, satıcıya kaç lira ödemelidir?

İlayda bahçeden her gün 2 kg erik toplamaktadır. İlayda bir haftada kaç kg erik toplar?

Benim ağırlığım babamın ağırlığından 45 kg daha azdır. Babam 75 kg olduğuna göre benim ağırlığım kaç k'dır?

Bir manav 75 kg patatesin öğleden önce 27, öğleden sonra 35 kg'ını satmıştır. Geriye satılmayan kaç kg patates kalmıştır?

Bahçemizden 36 kg elma, 18 kg armut ve 29 kg üzüm topladık. Buna göre toplam kaç kg meyve topladık?

Anasınıfında 19 kg gelen Gülçin'in ağırlığı 1 sınıfta 7, 2. sınıfta 8 kg daha artmıştır. Gülçin'in 2. sınıftaki ağırlığı ne kadardır?

Her gün 3 kg yem yiyen tavuklarımız 18 kg'lık yemi kaç günde bitirirler?







DÜNYA'NIN HAREKETLERİ-İ



Dünya'nın hareketlerini yazalım.



Mevsimlere ait ayların isimlerini yazalım.



Aşağıdaki ifadelerden **doğru** olanların kutusunu **yeşile**, **yanlış** olanların kutusunu **kırmızıya** boyayalım.

- Dünya'nın iki türlü hareketi vardır.
- Güneş, Dünya etrafında dolanır.
- Dünya kendi etrafında dönünce gece ve gündüz oluşur.
- Dünya'nın Güneş etrafında dolanması 1 yılda tamamlanır.
- Dünya'nın ay etrafında dolanması ile mevsimler oluşur.
- Bir yılda dört mevsim, bir mevsimde dört ay vardır.
- Bir hafta 7 gün, bir ay 30 haftadır.
- Dünya haftada kendi etrafında 7 kez döner.



DÜNYA'NIN HAREKETLERİ-2

★ Mevsimler ile ilgili gözlemlerimizi konuşma balonlarına yazalım.



İlkbahar:



Yaz:



Sonbahar:



Kış:



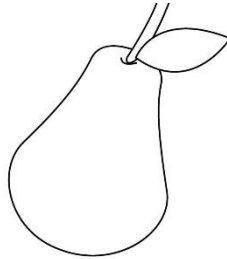
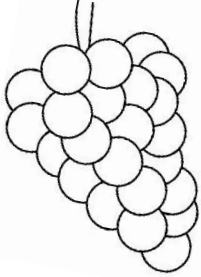



EĞLENCE ZAMANI



Yaz mevsimindeki ayların isimlerini yazalım.



Yaz mevsiminde yetişen meyve ve sebzeleri boyayalım.



Aşağıdaki boyamayı yapalım.

