



Aşağıdaki metni anlayana kadar okuyalım.

TATİL ZAMANI

Sevgili öğrenciler,

Bir eğitim öğretim yılının daha sonuna geldik. Bu yıl birinci sınıflar okuma yazmayı öğrendiler. Diğer derslerde de birçok bilgiyi edindiler. İkinci, üçüncü ve dördüncü sınıflar ise geçmiş yıllarda öğrendikleri bilgilerin üzerine yeni bilgiler eklediler. Ayrıca dördüncü sınıflar mezun oldular. Bundan sonraki eğitimlerine ortaokullarda devam edecekler. Mebders Ailesi olarak dördüncü sınıfı bitiren öğrencilerimize bundan sonraki eğitim hayatlarında başarılar dileriz.

Birbirinden güzel etkinlikler yaptığımız, oyunlar oynadığımız, dolu dolu bir yılın ardından hepimiz tatili hak ettik. Önümüzdeki yılın bu yıldan daha güzel olması, derslerde daha başarılı olmamız için tatilde bol bol dinlenelim, oyunlar oynayalım, ailemizle vakit geçirelim.

Eylül ayından itibaren yine birbirinden güzel etkinliklerle sizlerin yanında olacağız. Sizlerin eğitimi için hiçbir fedakârlıktan kaçınmayan ailelerinize ve öğretmenlerimize selamlarımızı iletin. Hepinize iyi tatiller...

MebDers Ailesi



Aşağıdaki soruları metne göre cevaplayalım.



1 Bu yıl birinci sınıflar neler öğrenmişler?

.....



2 Dördüncü sınıflar hangi okullara devam edeceklermiş?

.....



3 Tatilde neler yapmamız isteniyor?

.....



FORM DOLDURALIM

★ Aşağıdaki formları dolduralım.



Kepez Mevlana İlkokulu Kütüphane Üye Kayıt Formu



Öğrencinin		Velisinin	
Adı		Adı	
Soyadı		Soyadı	
Sınıfı		Telefon	
Okul No		Adres	



Kepez Mevlana İlkokulu Çocuk Kulübü Başvuru Formu



Öğrencinin		Katılmak İstedığı Kulüp	
Adı			Zekâ Oyunları Kulübü
Soyadı			İzcilik Kulübü
Sınıfı			Çocuk Oyunları Kulübü
Okul No			Drama Kulübü



Kepez Mevlana İlkokulu Gezi İzin Formu



Aşağıda bilgileri yazılı olan öğrencimin 25 Mayıs 2022 tarihinde yapılacak olan Dinopark gezisine katılmasına izin veriyorum.





Öğrencinin		Velisinin	
Adı - Soyadı		Adı - Soyadı	
Sınıfı - No		Telefon	



SIVILARI ÖLÇELİM-İ



Aşağıdakilerden litre ile ölçülebilenleri işaretleyelim.



Aşağıda litreleri verilen sıvıların kaç yarım litre ettiklerini örnekteki gibi altlarına yazalım.



1 L = 2 yarım litre



2 L = yarım litre



5 L = yarım litre



8 L = yarım litre



15 L = yarım litre

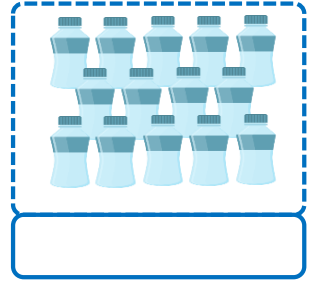
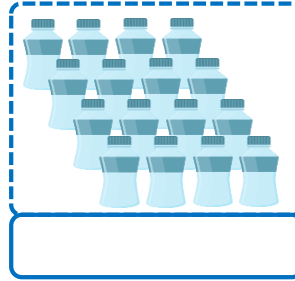
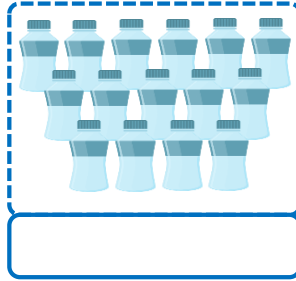
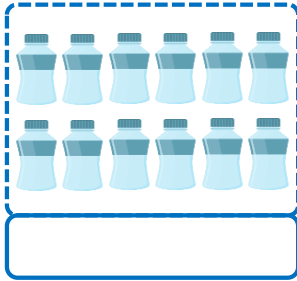
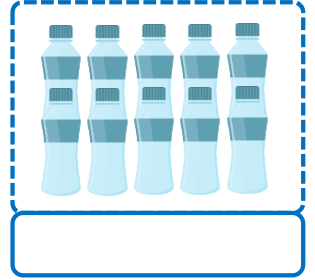
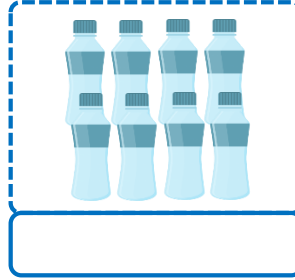
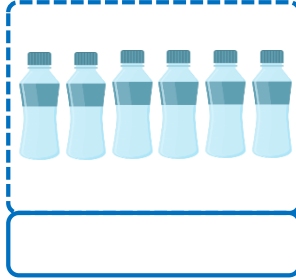
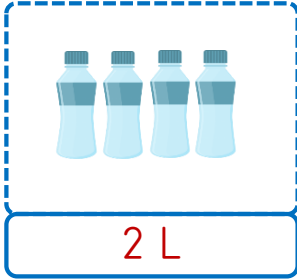


20 L = yarım litre



SIVILARI ÖLÇELİM-2

★ Aşağıdaki şişelerin her birinde yarım litre su vardır. Buna göre kutucuklardaki su miktarlarını örnekteki gibi yazalım.



★ Aşağıda verilen ölçü dönüşümlerini örnekteki gibi yapalım.

$$3 \text{ L} = 6 \text{ yarım L}$$

$$5 \text{ L} = \dots \text{ yarım L}$$

$$8 \text{ L} = \dots \text{ yarım L}$$

$$12 \text{ L} = \dots \text{ yarım L}$$

$$15 \text{ L} = \dots \text{ yarım L}$$

$$24 \text{ L} = \dots \text{ yarım L}$$

$$4 \text{ yarım L} = 2 \text{ L}$$

$$10 \text{ yarım L} = \dots \text{ L}$$

$$14 \text{ yarım L} = \dots \text{ L}$$

$$20 \text{ yarım L} = \dots \text{ L}$$

$$32 \text{ yarım L} = \dots \text{ L}$$

$$50 \text{ yarım L} = \dots \text{ L}$$

★ Aşağıdaki işlemleri örnekteki gibi yapalım.

$$3 \text{ L} + 2 \text{ yarım L} = 4 \text{ L}$$

$$4 \text{ yarım L} + 5 \text{ L} = \dots \text{ L}$$

$$5 \text{ L} + 8 \text{ yarım L} = \dots \text{ L}$$

$$8 \text{ L} + 20 \text{ yarım L} = \dots \text{ L}$$

$$15 \text{ L} + 30 \text{ yarım L} = \dots \text{ L}$$

$$10 \text{ yarım L} + 35 \text{ L} = \dots \text{ L}$$



SIVI ÖLÇME PROBLEMLERİ



Uzunluk ölçü birimleriyle ilgili verilen problemleri çözelim.

Bir bakkal her biri 5 L olan sıvı yağlardan 18 tane almıştır. Bu bakkal toplam kaç litre sıvı yağ almıştır?

5 litresi 80 lira olan sıvı yağın 2 litresi kaç liradır?

Litresi 8 lira olan süttten 12 L alan annem, satıcıya 100 lira verdi. Satıcı anneme kaç lira para üstü vermelidir?

Her gün 8 L su içen bir inek iki haftada kaç litre su içer?

4 L süt ile 1 kg peynir yapılmaktadır. Buna göre 20 L süt ile kaç kg peynir yapılır?

Bir koli içinde yarım litrelik 24 tane meyve suyu bulunmaktadır. Buna göre 3 kolide toplam kaç L meyve suyu vardır?

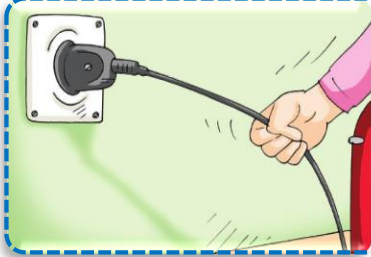
Evimizde her hafta 20 litrelik bir damacana su tüketilmektedir. Buna göre evimizde 3 ayda kaç litre su tüketilmektedir?

Yarım litrelik su 2 liradır. Buna göre 10 liraya kaç litre su alınabilir?



ELEKTRİĞİ GÜVENLİ KULLANALIM-3

★ Aşağıda verilen görsellere göre elektriğin güvenli kullanımı ile ilgili cümleler yazalım.



.....

.....

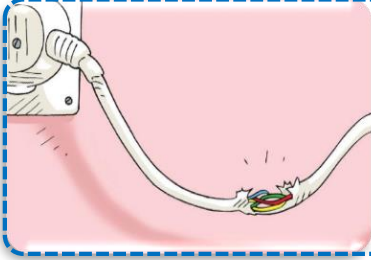
.....



.....

.....

.....



.....

.....

.....



.....

.....

.....



.....

.....

.....



DÖNÜŞÜYORUM

★ Cümlelerdeki noktalı yerlere uygun kelimeleri yazalım.

piller

fabrikada

dönüşüm

atıklar

yağlar

Geri sayesinde kaynakları tasarruflu kullanmış oluruz.

Lavabolara dökülen atık su kirliliğine sebep olur.

Toprağa atılan toprak kirliliğine sebep olur.

Geri dönüşüm sayesinde yeniden kullanılabilir hale gelir.

Atıklar işlenerek yeni ürünler için ham madde olurlar.

★ Aşağıdaki atıkları ok çizerek uygun geri dönüşüm kutusu ile eşleştirelim.



★ Günlük hayatta evimizde biriken atıklar ne yapılıyor. Gözlemleyerek aşağıya yazalım.

.....

.....

.....

.....



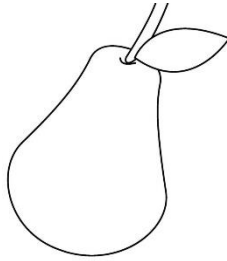
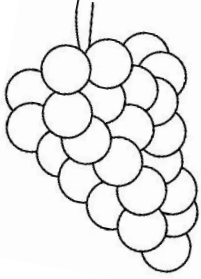



EĞLENCE ZAMANI



Yaz mevsimindeki ayların isimlerini yazalım.



Yaz mevsiminde yetişen meyve ve sebzeleri boyayalım.



Aşağıdaki boyamayı yapalım.

