



Aşağıdaki metni anlayana kadar okuyalım.

TATİL ZAMANI

Sevgili öğrenciler,

Bir eğitim öğretim yılının daha sonuna geldik. Bu yıl birinci sınıflar okuma yazmayı öğrendiler. Diğer derslerde de birçok bilgiyi edindiler. İkinci, üçüncü ve dördüncü sınıflar ise geçmiş yıllarda öğrendikleri bilgilerin üzerine yeni bilgiler eklediler. Ayrıca dördüncü sınıflar mezun oldular. Bundan sonraki eğitimlerine ortaokullarda devam edecekler. Mebders Ailesi olarak dördüncü sınıfı bitiren öğrencilerimize bundan sonraki eğitim hayatlarında başarılar dileriz.

Birbirinden güzel etkinlikler yaptığımız, oyunlar oynadığımız, dolu dolu bir yılın ardından hepimiz tatili hak ettik. Önümüzdeki yılın bu yıldan daha güzel olması, derslerde daha başarılı olmamız için tatilde bol bol dinlenelim, oyunlar oynayalım, ailemizle vakit geçirelim.

Eylül ayından itibaren yine birbirinden güzel etkinliklerle sizlerin yanında olacağız. Sizlerin eğitimi için hiçbir fedakârlıktan kaçınmayan ailelerinize ve öğretmenlerimize selamlarımızı iletin. Hepinize iyi tatiller...

MebDers Ailesi



Aşağıdaki soruları metne göre cevaplayalım.



Bu yıl birinci sınıflar neler öğrenmişler?

.....



Dördüncü sınıflar hangi okullara devam edeceklermiş?

.....



Tatilde neler yapmamız isteniyor?

.....

İyi
tatiller
çocuklar



Meb Ders .Com





4. SINIF HAFTA SONU ETKİNLİKLERİ 37.Hafta (13-17 Haziran)



FORM DOLDURALIM

★ Aşağıdaki formları dolduralım.



Kepez Mevlana İlkokulu Kütüphane Üye Kayıt Formu



Öğrencinin	
Adı	
Soyadı	
Sınıfı	
Okul No	

Velisinin	
Adı	
Soyadı	
Telefon	
Adres	



Kepez Mevlana İlkokulu Çocuk Kulübü Başvuru Formu



Öğrencinin	
Adı	
Soyadı	
Sınıfı	
Okul No	

Katılmak İstedığı Kulüp	
	Zekâ Oyunları Kulübü
	İzcilik Kulübü
	Çocuk Oyunları Kulübü
	Drama Kulübü



Kepez Mevlana İlkokulu Gezi İzin Formu



Aşağıda bilgileri yazılı olan öğrencimin 25 Mayıs 2022 tarihinde yapılacak olan Dinopark gezisine katılmasına izin veriyorum.

Öğrencinin	
Adı - Soyadı	
Sınıfı - No	

Velisinin	
Adı - Soyadı	
Telefon	



SIVI ÖLÇME PROBLEMLERİ-1



Uzunluk ölçü birimleriyle ilgili verilen problemleri çözelim.

180 mL'lik şurup 15 mL'lik bir kaşık ile kaç kez içilir?

Her gün 1 L 200 mL su içen Arda, bir haftada ne kadar su içmektedir?

Bir sütçü her gün 25 L süt satmaktadır. Sütün litresi 7 lira olduğuna göre bu sütçü 1 haftada kaç liralık süt satar?

Bir musluktan dakikada 25 L su akmaktadır. Buna göre bu musluktan 75 L'lik 5 varil kaç dakikada dolar?

1 L su 6 bardağa eşit şekilde doldurulunca 100 mL su artmaktadır. Buna göre bardakların her biri ne kadar su almaktadır?

İçinde 750 L su olan bir havuzdan her gün 3 L su buharlaşmakta, 5 L su ise havuzdaki çatlaktan sızmaktadır. Buna göre 2 ay sonra havuzda ne kadar su kalır?

4 kg üzüm ile 1 L pekmez yapılmaktadır. Üzümün kilosu 7 lira olduğuna göre 10 L pekmez için kaç liralık üzüm gereklidir?

Bir motosiklet bir depo benzin ile 600 km yol gitmektedir. Bu motosikletin deposu 15 L olduğuna göre 1 L benzin ile kaç km yol gitmektedir?



SIVI ÖLÇME PROBLEMLERİ-2



Uzunluk ölçü birimleriyle ilgili verilen problemleri çözelim.

Bir bardak ayran 120 mL olduğuna göre soframızdaki 5 bardak ayran kaç mL'dir?

Hafta içi her gün kantinden 250 mL'lik bir meyve suyu alan İlayda, bir ayda kaç litre meyve suyu almaktadır?

Kerem her öğün 200 mL'lik bir bardak su içmektedir. Buna göre Kerem bir haftada ne kadar su içmektedir?

2 litrelik sürahideki limonata 250 mL'lik bardaklara doldurulacaktır. Bunun için kaç bardak gereklidir?

Bir bakkal 20 litrelik sütü yarım 250 mL'lik şişelere dolduracaktır. Bunun için kaç şişe gereklidir?

Bir inek her gün 3 L 500 mL süt vermektedir. Bu inek 2 haftada kaç litre süt verir?

Bir araç her 100 km'de 4 litre benzin yakmaktadır. 40 litrelik depoyu dolduran şoför, bu kaç km yol gider?

3 kg portakaldan 1 L portakal suyu çıkmaktadır. 1 kg portakal ise 5 liradır. Buna göre 5 L portakal suyu kaç liraya mal olmaktadır?



BASİT ELEKTRİK DEVRELERİ



Aşağıdaki soruları cevaplayalım.

Elektrik kaynakları nelerdir?

Devre nedir?

Basit elektrik devresinin elemanları nelerdir?

Kapalı ve açık devre ne demektir?

Elektrik devresinin çalışmama nedenleri nelerdir?

Elektrik devreleri nerelerde kullanılır?



DÜNYA FARKLILIKLARLA GÜZEL-İ

 Aşağıdaki tabloda ülkelerle ilgili istenen bilgileri araştırarak yazalım.

Ülke	Yemek	Kıyafet	Spor	Önemli Günler	Mimari Yapılar
Azerbaycan					
KKTC					
Kırgızistan					
Mısır					
Kazakistan					
Suriye					
Özbekistan					



DÜNYA FARKLILIKLARLA GÜZEL-2

 Aşağıdaki tabloda ülkelerle ilgili istenen bilgileri araştırarak yazalım.

Ülke	Yemek	Kıyafet	Spor	Önemli Günler	Mimari Yapılar
Fransa					
Çin					
İtalya					
Kanada					
Japonya					
Brezilya					
Meksika					




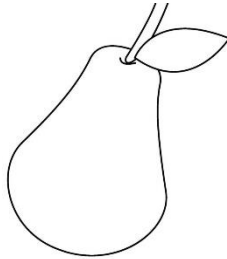
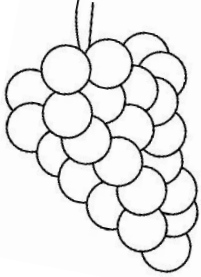



EĞLENCE ZAMANI



Yaz mevsimindeki ayların isimlerini yazalım.



Yaz mevsiminde yetişen meyve ve sebzeleri boyayalım.



Aşağıdaki boyamayı yapalım.

