



KIRAZ AĞACI

Evimizin bahçesinde bir kiraz ağacı vardı. Baharda bembeyaz, kokulu çiçekler açardı. Sonra da kırmızı lezzetli meyveler verirdi. Bilseniz ne kadar güzeldi. Kiraz ağacı hiç de yalnız kalmazdı. Yeşil sevimli evinin kapısı tüm konuklara açıktı. Kiraz ağacının evi üç katlıydı. Pek çok odası vardı.

Birinci katta köstebekler, solucanlar otururdu. Bunlar çok çalışkan hayvanlardı. Gece gündüz çalışırlardı. İkinci katta karıncalar yaşardı. Kış için hazırlık yaparlardı. Bir aşağı bir yukarı çıkıp dururlardı. En üst kat, katların en güzeliydi. Bu kat kiraz ağacının beyaz çiçeklerine çok yakındı. Rüzgâr esince çiçekler hafif hafif sallanır, etrafa mis kokular yayarlardı.

Not: İlk 3 soruyu şiire göre cevaplayınız.

1) Kiraz ağacının evi kaç katlıdır?

- A) İki
B) Üç
C) Dört


2) Aşağıdaki hayvanlardan hangisi kiraz ağacının birinci katında **oturmamaktadır**?

- A) Karıncalar
B) Solucanlar
C) Köstebekler

3) Kiraz ağacının **en üst katında** rüzgâr esince ne olmaktadır?

- A) Çiçekler, yavaş yavaş dökülür.
B) Çiçekler, lezzetli meyveler verir.
C) Çiçekler, sallanarak mis kokular yayar.

4) Aşağıdaki varlıkların hangisinin adı, satır sonuna sığmadığında **bölünebilir**?



5)



Yukarıdaki sözcüklerle oluşturulacak kurallı ve anlamlı **cümlenin sonuna** hangi noktalama işareti gelmelidir?

- A) Nokta
B) Ünlem işareti
C) Soru işareti

Okulun son günüdür. Çok

- 6) heyecanlıydım. Acaba karnem nasıldı?
Öğretmenimiz karnemizi dağıttı.
Karnemi gören herkes beni tebrik etti.

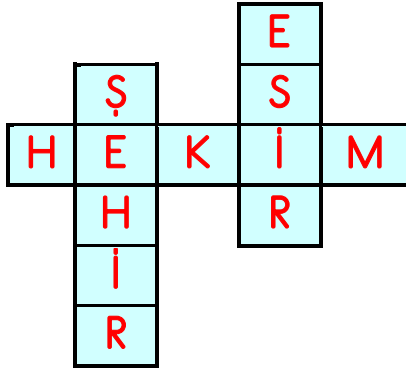
Yukarıdaki metnin konusu nedir?

- A) Okul Sevgisi B) Eğitimin Önemi
C) Karne Heyecanı

- 7) Aşağıdaki cümlelerin hangisinde yazım yanlışı yoktur?

- A) Sarıkızın sütü azalmış.
B) Babam banyoda tıraş oldu.
C) Bu mahalleye yenimi taşınmış?

8)



Bulmacada hangi sözcüğün eş anlamlısı yoktur?

- A) Baytar B) Kent C) Tutsak

9)



Mustafa, aldığı kavun için satıcıya 30 TL ödedi. Buna göre 1 kg kavun kaç liradır?

- A) 4 TL B) 5 TL C) 6 TL

10)



Ahmet kilogramı 9 TL olan eriklerden 3 kg aldı. Manava 50 TL para veren Ahmet kaç TL para üstü alır?

- A) 14 TL B) 18 TL C) 23 TL


11)



Niloya 6 paket şeker ve 4 paket pirinç alıyor. Aldıkları toplam kaç kilogram gelmektedir?

- A) 26 kg B) 24 kg C) 22 kg

12)



Sevim 38 kg, Aslı 29 kg ağırlığındadır. Mert'in ağırlığı, Sevim'in ağırlığından 7 kg daha azdır. Üçünün toplam ağırlığı kaç kg'dır?

- A) 99 kg B) 98 kg C) 97 kg

13)



Şakir terazide ağırlığı verilen karpuzdan 4 tane alırsa kaç kg karpuz satın almış olur?

- A) 32 kg B) 28 kg C) 24 kg

14)



Necati fazla kilolarından kurtulmak için diyeteye başlıyor. Her hafta **2 kilogram** zayıflayan Fil Necati **3 ay** diyet yaparsa kaç kilogram zayıflayabilir?

- A) 24 kg B) 28 kg C) 32 kg

15)




Her birinde 10 kg soğan bulunan 4 çuvaldaki soğanların tamamı, 5 poşete eşit şekilde paylaşılıyor.

Her **bir poşette** kaç kilogram soğan vardır?

- A) 7 kg B) 8 kg C) 10 kg

16) Dünya'nın şekli aşağıdaki görsellerden hangisine **benzemektedir**?



17)



Dünya'nın kendi etrafında dönmesiyle ve oluşur.

Yukarıdaki boşluklara **sırasıyla** hangi ikili gelmelidir?

- A) gece - mevsimler B) gündüz - yıl
C) gece - gündüz


18)



Dünya'nın Güneş'in etrafında tam bir tur dolanması sonucunda aşağıdakilerden hangisi **oluşmamaktadır**?

- A) Mevsimler B) 1 Yıl C) 1 Gün

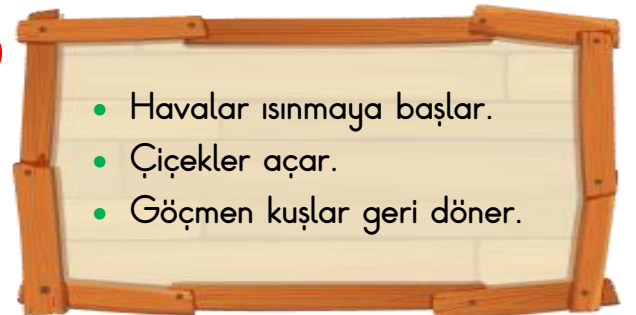
19)



Sonbahar mevsiminin ayları hangi şıkta **doğru** olarak verilmiştir?

- A) Ekim - Kasım - Aralık
B) Eylül - Ekim - Kasım
C) Eylül - Ekim - Ocak

20)



Yukarıda **hangi mevsimin** özellikleri verilmiştir?

- A) Sonbahar B) İlkbahar
C) Yaz

Cevap Anahtarı

- 1)B 2)A 3)C 4)A 5)B
6)C 7)B 8)A 9)C 10)C
11)A 12)B 13)A 14)A 15)B
16)A 17)C 18)C 19)B 20)B