

- 1) **Arda ve ben** testteki tüm soruları doğru cevapladık.

Yukarıdaki cümlede altı çizili kelimeler yerine aşağıdakilerden hangisi kullanılabilir?

- A) Sen B) Siz
C) Biz D) Onlar

- 2) Tatilde köye gidince her gün kitap okuyacaksın.

Yukarıdaki cümlede işi yapan kişi aşağıdakilerden hangisidir?

- A) sen B) o
C) ben D) siz

- 3) Aşağıdaki cümlelerin hangisinde topluluk ismi kullanılmamıştır?

- A) Babamın aldığı bir deste kalem bitti.
B) Köydeki bütün halk meydana toplandı.
C) Son maçta bizim takım berabere kaldı.
D) Kümesteki tavuklara yem attım.

- 4) Taner ve babası dün balık

Yukarıdaki cümleye aşağıdaki kelimelerden hangisi **gelemez**?

- A) tutuyor B) tutmuş
C) aldı D) yemiş

- 5) Cümlede iş , oluş , hareket bildiren kelimeye eylem denir.





Aşağıdaki cümlelerin hangisinde eylem şu an yapılmaktadır?

- A) Dün çok geç yattım.
B) Annem misafirler için hazırlık yapıyor.
C) Üç soruya cevap veremedi.
D) Yarın yüzmeye gidecekler.


- 6) Arkadaşlarımla birlikte parkta dondurma yiyeceğiz.

Yukarıdaki cümlede eylem ne zaman yapılmaktadır?

- A) şimdi B) gelecekte
C) geçmişte D) her zaman

- 7)  Deniz bahçede resim yapıyor.
 Sinem güzel şarkı söyler.
 Erzurum'a çok kar yağar.
 Ablam benim yatağında uyuyor.

Yukarıdaki cümlelerin hangilerinde eylem her zaman yapılmaktadır?

- A)   B)  
C)   D)  

8)

$$8 \text{ L} - 2 \text{ L } 350 \text{ mL} = \dots\dots \text{ mL}$$

Yukarıdaki işlemin sonucu aşağıdakilerden hangisidir?

- A) 665 mL B) 565 mL
C) 6650 mL D) 5650 mL

9)

9 litre süt 300 mililitrelik şişelere doldurulup tanesi 4 liradan satılmış.

Yukarıdaki ifadeye göre bu satıştan kaç lira elde edilmiştir?

- A) 110 B) 140
C) 130 D) 120

10)

2 L 500 mL sirkenin $\frac{3}{10}$ 'ü kullanılmış.

Yukarıdaki ifadeye göre kaç mL sirke kalmıştır?

- A) 1850 mL B) 1700 mL
C) 1750 mL D) 1650 mL

11)



Yukarıdaki üç kabin her biri eşit miktarda sıvı almaktadır. Kaplar toplam 2 L 700 mL sıvı aldığına göre bir kap kaç mL sıvı alır?

- A) 900 mL B) 800 mL
C) 700 mL D) 850 mL

12)

Babam 400 mL'si 28 lira olan zeytinyağından 2 L almış.

Yukarıdaki ifadeye göre yağ için kaç lira ödenmiştir?

- A) 120 B) 130
C) 140 D) 150

13)

4 litre pekmez 180 liradır.





Yukarıdaki ifadeye göre 15 litre pekmez kaç liradır?

- A) 665 B) 675
C) 670 D) 660

- 14) Bozuk bir musluk bir dakikada 200 mL su akıtmaktadır.

Yukarıdaki ifadeye göre yarım saat sonunda kaç litre su boşa akmış olur?

- A) 6 B) 4 C) 7 D) 5

- 15)  Ülkelerin yemekleri farklı olabilir.
 Ülkelerin geleneksel kıyafetleri aynıdır.
 Ülkelerin dini inançları farklı olabilir.
 Ülkelerin müzik ve dansları farklı olabilir.

Yukarıdaki ifadelerden hangisi **yanlıştır**?

- A)  B) 
C)  D) 

- 16) Aşağıdakilerden hangisi Müslüman ülkelerde kutlanan ortak bir bayramdır?

- A) Zafer Bayramı
B) Bahar Bayramı
C) Paskalya Bayramı
D) Ramazan Bayramı

- 17) Aşağıdakilerden hangisi ülkelerin kültürel ve yaşam tarzının farklılığının bir sonucu değildir?

- A) Bayramları farklıdır.
B) Yemekleri farklıdır.
C) Doğal güzellikleri farklıdır.
D) Düğün törenleri farklıdır.

- 18) Bu ülkede karşılıklı olarak dil çıkarmak kibar bir selamlaşmadır.

Yukarıda sözü edilen ülke aşağıdakilerden hangisidir?

- A) Çin B) Hindistan
C) Şili D) İngiltere

- 19) Aşağıdakilerden hangisi farklılıklara saygı gösterilmesinin bir sonucudur?

- A) Ön yargılar artar.
B) İnsanların karşılıklı güvenleri azalır.
C) Dünyada barış tehlikeye girer.
D) Düşmanlık duyguları ortadan kalkar.

- 20) I - Ülkeler arasındaki kültürel farklılıklar bir zenginliktir.
II- Dünyada tek bir dilin konuşulması kültürel bir zenginliktir.
III- Ortak kültürel öğelere sahip ülkeler vardır.

Yukarıdaki ifadelerle ilgili aşağıdakilerden hangisi doğrudur?

- A) Üçü de doğru
B) I ve III doğru , II yanlış
C) I ve II doğru , III yanlış
D) I doğru , II ve III yanlış

CEVAP ANAHTARI

TÜRKÇE	MATEMATİK	SOSYAL BİL.
1) C	8) D	15) B
2) A	9) D	16) D
3) D	10) C	17) C
4) A	11) A	18) A
5) B	12) C	19) D
6) B	13) B	20) B
7) C	14) A	