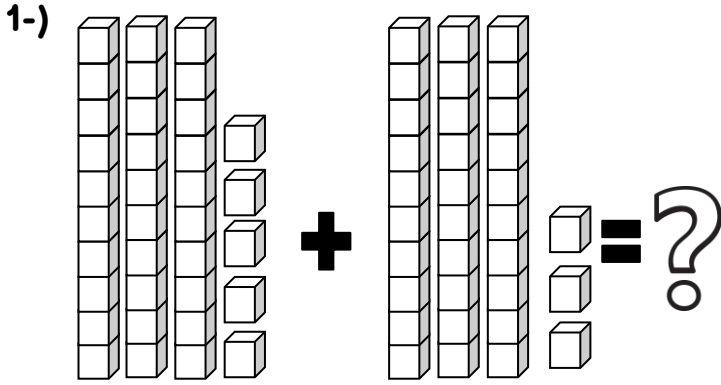


Adı:.....  
Soyadı:.....

## 2. SINIF MATEMATİK YIL SONU KAZANIM DEĞERLENDİRME – 2

Doğru / Yanlış

--	--



Onluk birlik modelleri ile verilen işlemin sonucu kaçtır?

- A) 35      B) 38      C) 68

2-) 6 onluğu 5 birlik eksiltirsek kaç kalır?

- A) 55  
B) 60  
C) 65

3-) İki deste gül ve bir düzine karanfili olan çiçekçide toplam kaç çiçek vardır?

- A) 22      B) 32      C) 40

4-) 4'ten başlayarak ikişer ritmik sayarken altıncı sırada hangi sayı söyleriz?

- A) 14  
B) 16  
C) 24

5-) **18-21-24-27-30**  
Aşağıdaki örüntülerin hangisi yukarıdaki örüntünün kuralına göre oluşturulmuştur?

- A) 22-24-26-28-30  
B) 3-6-9-12-15  
C) 5-10-15-20-25

6-) 

Arda'nın babası yurtdışına bir iş için çıkmış ve seyahati 2 hafta 5 gün sürmüş, sonrasında eve dönmüştür. Arda'nın babası kaç gün yurtdışında kalmıştır?

- A) 19      B) 21      C) 25

7-) Bir çıkarma işleminde eksilen 60, fark ise 24'tür. Bu işlemde çıkan sayı kaçtır?

- A) 24  
B) 36  
C) 84

8-) 

X	<u>3</u>	<u>4</u>	<u>5</u>
<u>7</u>	♥	28	35
<u>8</u>	24	32	40
<u>9</u>	27	36	▲

X	<u>3</u>	<u>4</u>	<u>5</u>
<u>7</u>	♥	28	35
<u>8</u>	24	32	40
<u>9</u>	27	36	▲

Tabloya göre ♥ + ▲ = ?

- A) 44  
B) 55  
C) 66


9-) Dün salı ise yarın hangi gündür?

- A) çarşamba  
B) perşembe  
C) pazartesi

10-) Aşağıdakilerden hangisinin miktarı kilogram olarak ölçülmez?

- A)  B)  C) 

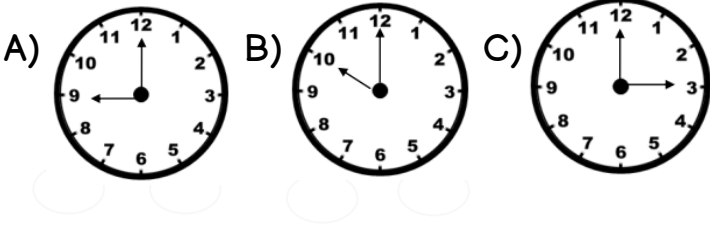
11-)



Görseldeki kalemin boyu kaç cm'dir?

- A) 2 cm  
B) 8 cm  
C) 10 cm

12-) Bir otobüs Afyonkarahisar'dan Kayseri'ye saat 14.30 da hareket ediyor. Yolculuk 6 buçuk saat sürüyor. Otobüs Kayseri'ye vardığında saat kaç gösterir?



13-) Aşağıdaki ifadelerden hangisi yanlıştır?

- A) Bir yıl 52 haftadır.  
B) 1 mevsim 4 aydır.  
C) 1 yıl 10 aydır.

14-)



Üç vagonlu trenin, her vagonunun uzunluğu 15 metre ise, trenin toplam uzunluğu kaç metredir?

- A) 18 m B) 45 m C) 50 m

15-)



Görseldeki paraların toplamı kaç TL'dir?

- A) 4 TL B) 5 TL C) 6 TL

✓ 16,17 ve 18. soruları aşağıda verilen sıklık tablosuna göre cevaplayınız.

Bir kütüphanedeki kitap türlerini gösteren sıklık tablosu aşağıda verilmiştir

<u>Kitap Türleri</u>	<u>Kitap Sayıları</u>
Hikâye	28
Masal	19
Şiir	20
Fıkra	12
Bilmece	17

16. En az hangi kitaptan vardır?

- A) Hikâye B) Şiir C) Fıkra

17. En çok ve en az olan kitapların sayıları toplamı kaçtır?

- A) 40 B) 50 C) 60

18. Kütüphanede toplam kaç kitap vardır?

- A) 76  
B) 86  
C) 96

19. Yetişkin bir kedinin uzunluğu aşağıda-kilerden hangisi olabilir?

- A) 25 cm B) 2 m C) 11 cm

20. Hangisi bir sonbahar ayı değildir?

- A) ekim B) kasım C) aralık

Sınav bitti. Cevaplarınızı kontrol ediniz.



2. DÖNEM  
YIL SONU DEĞERLENDİRME-2  
MATEMATİK  
CEVAP ANAHTARI

1.	C	11.	B
2.	A	12.	A
3.	B	13.	C
4.	A	14.	B
5.	B	15.	A
6.	A	16.	C
7.	B	17.	A
8.	C	18.	C
9.	B	19.	A
10.	A	20.	C