



Adı Soyadı : Sınıfı : No :


★ Aşağıdaki nesnelere ikişer ikişer gruplandırıp sayılarını yazarak uygun kutucuğu örnekteki gibi boyayalım.




7 Tek Çift




Tek Çift




Tek Çift




Tek Çift




Tek Çift




Tek Çift




Tek Çift




Tek Çift




Tek Çift




Tek Çift




Tek Çift




Tek Çift



Tek Çift



Tek Çift



Tek Çift



3. SINIF MATEMATİK

Tek ve Çift Sayılar-2



Adı Soyadı : Sınıfı : No :

★ Aşağıdaki tabloda tek sayıları belirleyerek kırmızıya boyayalım.

2	5	8	13	18	21	26	33	42	54
61	67	70	74	89	93	107	111	116	124
130	133	138	146	162	186	200	206	213	220
225	227	236	241	254	259	265	272	274	279
290	299	301	308	312	324	333	345	370	377

★ Aşağıdaki tabloda çift sayıları belirleyerek kırmızıya boyayalım.

1	3	6	9	15	24	29	33	36	40
47	50	53	57	60	62	66	71	76	82
87	96	100	103	111	118	125	128	130	134
138	143	147	159	162	165	171	178	186	189
191	194	199	200	202	205	216	222	245	256

★ Aşağıda verilen sayıların aralarına yazılabilecek tek sayıları yazalım.

11									29
25									43
63									81
147									165
289									307



3. SINIF MATEMATİK

Tek ve Çift Sayılar-3



Adı Soyadı : Sınıfı : No :

 Aşağıdaki tabloda verilen tek sayıları **yeşile**, çift sayıları **kahverengiye** boyayalım.

X	F	*	<	627	593	O)	=	?
A	Z	+	195	971	285	417	H	V	C
G	D	35	723	434	401	793	555	N	!
>	B	181	66	28	699	98	149	;	Ş
/	@	B	37	232	74	53	S	L	%
Y	:	Ğ	Ü	426	380	,	-	K	Ö
E	J	&	(54	178	W	Ü	'	Q
11	213	527	45	163	251	69	75	653	911

 Aşağıda verilen rakamlarla istenen sayıları yazalım.

1	2	5	8
	İki Basamaklı	Üç Basamaklı	
Tek			
Çift			

0	3	4	9
	İki Basamaklı	Üç Basamaklı	
Tek			
Çift			

3	6	7	8
	İki Basamaklı	Üç Basamaklı	
Tek			
Çift			

2	4	5	6
	İki Basamaklı	Üç Basamaklı	
Tek			
Çift			