

Adı Soyadı : Sınıfı : No :

★ Aşağıdaki verilere uygun olarak çetele ve sıklık tablolarını oluşturalım.

Veri: Sınıfımızdan 15 kişi futbol, 6 kişi voleybol, 9 kişi basketbol ve 3 kişi de masa tenisi oynamayı seviyor.

Tablo: Sevilen Oyunlar Çetele Tablosu

Sevilen Oyun	Öğrenci Sayısı
Futbol	
Voleybol	
Basketbol	
Masa Tenisi	

Tablo: Sevilen Oyunlar Sıklık Tablosu

Sevilen Oyun	Öğrenci Sayısı
Futbol	
Voleybol	
Basketbol	
Masa Tenisi	

Veri: Bahçemizde 10 tane elma, 5 tane armut, 15 tane portakal ve 20 tane kiraz ağacı vardır.

Tablo: Bahçedeki Ağaçlar Çetele Tablosu

Ağaç Türü	Ağaç Sayısı
Elma	
Armut	
Portakal	
Kiraz	

Tablo: Bahçedeki Ağaçlar Sıklık Tablosu

Ağaç Türü	Ağaç Sayısı
Elma	
Armut	
Portakal	
Kiraz	

Veri: Çiftliğimizin kümesinde 8 tavuk, 4 horoz, 12 civciv ve 16 hindi vardır.

Tablo: Kümesteki Hayvanlar Çetele Tablosu

Hayvan Türü	Hayvan Sayısı
Tavuk	
Horoz	
Civciv	
Hindi	

Tablo: Kümesteki Hayvanlar Sıklık Tablosu

Hayvan Oyun	Hayvan Sayısı
Tavuk	
Horoz	
Civciv	
Hindi	

Adı Soyadı : Sınıfı : No :

★ Aşağıdaki nesne grafiğine uygun olarak çetele ve sıklık tablosu oluşturalım.

Veri: Şubat tatilinde Elif 6, Kayra 3, Melek 5 ve İlayda 8 kitap okumuştur.

Grafik: Ok. Kit. Say. Nesne G.

Öğrenci	Kitap Sayısı
Elif	
Kayra	
Melek	
İlayda	

Tablo: Ok. Kit. Say. Çet. T.





Öğrenci	Kitap Sayısı
Elif	
Kayra	
Melek	
İlayda	

Tablo: Ok. Kit. Say. Sıklık T.

Öğrenci	Kitap Sayısı
Elif	
Kayra	
Melek	
İlayda	

★ Aşağıdaki nesne grafiğine uygun olarak çetele ve sıklık tablosu oluşturarak soruları cevaplayalım.

Grafik: Besl. Hayv. Nes. G.

Hayvan	Öğrenci Sayısı
Kedi	
Köpek	
Kuş	
Balık	

Tablo: Besl. Hayv. Çet. T.

Hayvan	Öğrenci Sayısı
Kedi	
Köpek	
Kuş	
Balık	

Tablo: Besl. Hayv. Sıklık T.

Hayvan	Öğrenci Sayısı
Kedi	
Köpek	
Kuş	
Balık	

Kaç öğrenci kedi beslemektedir?

Kaç öğrenci kuş beslemektedir?

En çok hangi hayvan beslenmektedir?

En az hangi hayvan beslenmektedir?

Sınıf mevcudu kaçtır?

Adı Soyadı : Sınıfı : No :

★ Aşağıdaki şekil grafiğinde bir çiftlikte bulunan hayvan sayıları verilmiştir. Soruları grafiğe göre cevaplayalım.

Grafik: Hayvan Sayıları Şekil Grafiği

Hayvan Türü	Hayvan Sayısı
	☆☆☆
	☆☆
	☆☆☆☆
	☆☆☆☆☆

Not: Her şekil 4 hayvanı gösterir.

Kaç tane at vardır?

Kaç tane eşek vardır?





Kaç tane inek vardır?

Kaç tane keçi vardır?

Çiftlikte toplam kaç tane hayvan vardır?

★ Aşağıdaki şekil grafiğinde bir otoparkta bulunan araç sayıları verilmiştir. Soruları grafiğe göre cevaplayalım.

Grafik: Araç Sayıları Şekil Grafiği

Araç Türü	Araç Sayısı
	♥♥♥♥♥
	♥
	♥♥♥
	♥♥♥

Not: Her şekil 5 aracı gösterir.

Otoparkta kaç tane motosiklet vardır?

Otoparkta en çok hangi araçtan vardır?

Otoparkta en az hangi araçtan vardır?

Otoparkta toplam kaç tane araç vardır?