



## 4. SINIF MATEMATİK

### Çarpma İşlemi Problemleri-I



Adı Soyadı : ..... Sınıfı : ..... No : .....

★ Aşağıdaki problemleri çözelim.

Okulumuzda 45 sınıf, her sınıfta 32 öğrenci vardır. Buna göre okulumuzda toplam kaç öğrenci vardır?




Her gün 12 litre süt veren bir inek 2 ayda kaç litre süt verir?




Bahçeden topladığımız 653 kg elmanın 127 kg'ı çürüdü. Kalan elmaları kilosunu 5 liradan sattık. Bu elma satışından ne kadar gelir elde ettik?




Günde 65 kg elma, 58 kg armut ve 78 kg üzüm satan bir manav bir ay sonunda kaç kg meyve satmış olur?




Babamın iş yeri ile evimizin arası 4 km'dir. Bir ayda 22 gün işe gidip gelen babam, işe gidip gelmek için bir yılda kaç km yol gitmektedir?




Bir dakikada 7 m yol giden bir karınca 2 saatte kaç m yol gitmektedir?




Bir fırıncı her birinde 50 ekmek olan 7 kasa ekmek satmıştır. Ekmeğin tanesi 3 lira olduğuna göre fırıncı bu satıştan kaç lira gelir sağlamıştır?





Saatte 120 km yol yapan bir motosiklet 18 saatte kaç km yol yapar?





Adı Soyadı : ..... Sınıfı : ..... No : .....

★ Aşağıdaki problemleri çözelim.


Kırtasiyeden 6 düzine kalem, 8 deste silgi aldım. Kalemlerin tanesi 4, silgilerin tanesi 3 lira olduğuna göre kırtasiyeye kaç lira ödemem gerekir?





Aldığımız tablete 250 lira peşin ödeme yaptık. Kalanını 236 liralık 5 eşit taksitte böldükdük. Buna göre tabletin fiyatı kaç liradır?





Bir otomobil 90 km hızla 7 saat, bir minibüs ise 70 km hızla 12 saat yol almıştır. İki araç toplam kaç km yol almıştır?





Kütüphanemde 45 düzine roman, 32 deste hikâye kitabı var. Kütüphanemdeki toplam kitap sayısı kaçtır?





Her gün 38 sayfa kitap okuyan Elif, 3 haftada toplam kaç sayfa kitap okur?





Bir çiftlikte 254 koyun, koyunlardan 38 eksik kuzu, kuzulardan 26 fazla da keçi vardır. Bu çiftlikteki hayvanların ayak sayıları toplamı kaçtır?




Aracına her hafta 45 litre benzin alan bir şoför, bir yılda kaç litre benzin almaktadır?




Elisa hafta içi her gün 45 dakika, hafta sonu her gün 1 saat spor yapmaktadır. Buna göre Elisa bir ayda kaç saat spor yapmaktadır?






# 4. SINIF MATEMATİK

## Çarpma İşlemi Problemleri-3



Adı Soyadı : ..... Sınıfı : ..... No : .....



Aşağıdaki problemleri çözelim.

Bir manav, tanesi 8 kg gelen karpuzlardan 15 tane sattı. Karpuzun kilosu 6 lira olduğuna göre manav bu satıştan kaç lira gelir elde etmiştir?




Her gün 9 saat uyuyan Tuncay, bir yılda kaç saat uyur?




14 katlı ve her katında 4 daire olan apartmanımızın aidatı 75 liradır. Buna göre bir ayda apartmanımızdan kaç lira aidat toplanmaktadır?




Hafta içi her gün 135 mektup dağıtan bir postacı, bir ayda toplam kaç mektup dağıtır?




Bir hayvanat bahçesindeki maymunlar kilosu 9 lira olan muzlardan her gün 6 kg yemektir. Bu maymunlar bir ayda kaç liralık muz yerler?




Bir fırıncı her biri 25 kg gelen unlardan 32 çuval almıştır. Unun kilosu 9 lira olduğuna göre fırıncı aldığı unlar için kaç lira ödemelidir?




Okulumuzda düzenlenen fidan dikme kampanyasında 12 deste çam, 25 düzine servi ağacı diktik. Buna göre toplam kaç ağaç dikmiş olduk?




Okulda hafta içi her gün 40'ar dakikalık 6 ders işliyoruz. Buna göre okulda bir ayda toplam kaç saat ders işlemekeyiz?