

Adı Soyadı : Sınıfı : No :

★ Aşağıdaki şekillerin boyalı kısımlarını ifade eden kesirleri, okunuşlarını ve kesir çeşitlerini yazalım.



Kesir

Okunuşu

Çeşidi

.....
.....

.....
.....

.....
.....



Kesir

Okunuşu

Çeşidi

.....
.....

.....
.....

.....
.....



Kesir

Okunuşu

Çeşidi

.....
.....

.....
.....

.....
.....



Kesir

Okunuşu

Çeşidi

.....
.....

.....
.....

.....
.....



Kesir

Okunuşu

Çeşidi

.....
.....

.....
.....

.....
.....



Kesir

Okunuşu

Çeşidi

.....
.....

.....
.....

.....
.....

Adı Soyadı : Sınıfı : No :

★ Aşağıda verilen bilgilerden yararlanarak şekli boyayalım ve boşlukları dolduralım.



Kesir


$$\frac{4}{6}$$

Okunuşu

.....
.....

Çeşidi

.....
.....



Kesir

$$\frac{5}{4}$$

Okunuşu

Bir tam yedide dört

Çeşidi

.....
.....



Kesir

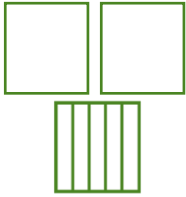
$$\frac{6}{4}$$

Okunuşu

.....
.....

Çeşidi

.....
.....



Kesir


$$\frac{5}{3}$$

Okunuşu

İki tam beşte üç

Çeşidi

.....
.....



Kesir

$$\frac{15}{6}$$

Okunuşu

.....
.....

Çeşidi

.....
.....



Kesir

$$\frac{3}{2}$$

Okunuşu

Bir tam bir bölü iki

Çeşidi

.....
.....