



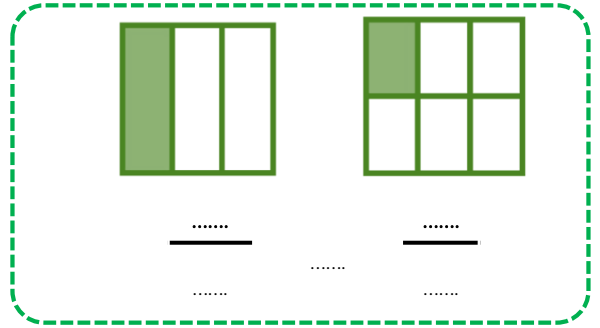
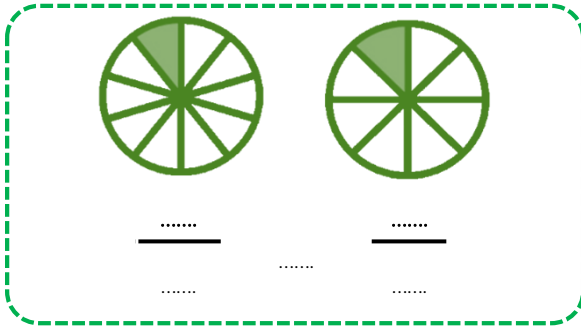
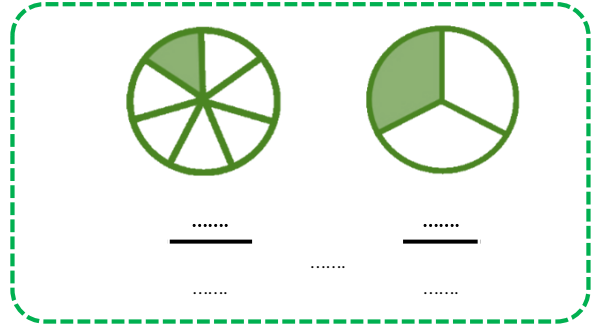
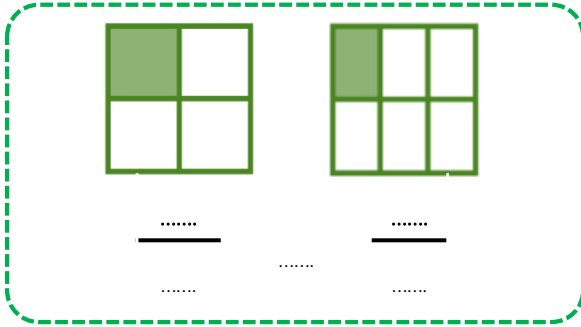
4. SINIF MATEMATİK

Birim Kesirleri Karşılaştırma ve Sıralama-I



Adı Soyadı : Sınıfı : No :

★ Aşağıdaki şekillerin boyalı kısımlarını ifade eden kesirleri yazalım ve sembol kullanarak karşılaştıralım.



★ Aşağıdaki kesirleri sembol kullanarak karşılaştıralım.

$$\frac{1}{3} \quad \dots \quad \frac{1}{7}$$

$$\frac{1}{4} \quad \dots \quad \frac{1}{6}$$

$$\frac{1}{7} \quad \dots \quad \frac{1}{2}$$

$$\frac{1}{9} \quad \dots \quad \frac{1}{4}$$

$$\frac{1}{6} \quad \dots \quad \frac{1}{5}$$

$$\frac{1}{8} \quad \dots \quad \frac{1}{4}$$

$$\frac{1}{5} \quad \dots \quad \frac{1}{7}$$

$$\frac{1}{9} \quad \dots \quad \frac{1}{2}$$

$$\frac{1}{4} \quad \dots \quad \frac{1}{7}$$

$$\frac{1}{6} \quad \dots \quad \frac{1}{3}$$

$$\frac{1}{5} \quad \dots \quad \frac{1}{2}$$

$$\frac{1}{3} \quad \dots \quad \frac{1}{8}$$

$$\frac{1}{5} \quad \dots \quad \frac{1}{9}$$

$$\frac{1}{8} \quad \dots \quad \frac{1}{2}$$

$$\frac{1}{6} \quad \dots \quad \frac{1}{9}$$

$$\frac{1}{7} \quad \dots \quad \frac{1}{8}$$

Birim Kesirleri Karşılaştırma ve Sıralama-2

Adı Soyadı : Sınıfı : No :

★ Aşağıda verilen sembollere göre kesirlerden büyük ve küçük kesirler yazalım.

$$\frac{1}{10} < \frac{1}{8} < \frac{1}{5}$$

$$\frac{1}{5} > \frac{1}{9} > \frac{1}{10}$$

$$\frac{1}{8} > \frac{1}{10} > \frac{1}{9}$$

$$\frac{1}{3} > \frac{1}{7} > \frac{1}{10}$$

$$\frac{1}{5} > \frac{1}{6} > \frac{1}{10}$$

$$\frac{1}{9} < \frac{1}{10} < \frac{1}{2}$$

$$\frac{1}{10} < \frac{1}{12} < \frac{1}{5}$$

$$\frac{1}{15} < \frac{1}{8} < \frac{1}{10}$$

$$\frac{1}{10} > \frac{1}{5} > \frac{1}{15}$$

★ Aşağıda verilen kesirleri sembol kullanarak büyükten küçüğe doğru sıralayalım.

$$\frac{1}{8} \quad \frac{1}{3} \quad \frac{1}{5} \rightarrow _ _ _$$

$$\frac{1}{4} \quad \frac{1}{9} \quad \frac{1}{2} \rightarrow _ _ _$$

$$\frac{1}{7} \quad \frac{1}{4} \quad \frac{1}{5} \rightarrow _ _ _$$

$$\frac{1}{6} \quad \frac{1}{8} \quad \frac{1}{2} \rightarrow _ _ _$$

★ Aşağıda verilen kesirleri sembol kullanarak küçükten büyüğe doğru sıralayalım.

$$\frac{1}{9} \quad \frac{1}{4} \quad \frac{1}{6} \rightarrow _ _ _$$

$$\frac{1}{2} \quad \frac{1}{7} \quad \frac{1}{3} \rightarrow _ _ _$$

$$\frac{1}{6} \quad \frac{1}{7} \quad \frac{1}{4} \rightarrow _ _ _$$

$$\frac{1}{5} \quad \frac{1}{9} \quad \frac{1}{2} \rightarrow _ _ _$$