

ROMEN RAKAMLARI

İŞLEM ALANI

PUAN
TABLOSU

10 PUAN

10 PUAN

10 PUAN

10 PUAN

10 PUAN

10 PUAN

10 PUAN

10 PUAN

10 PUAN

10 PUAN

TOPLAM

Öğrencilerimiz için JPEG ve PDF olarak hazırlamış olduğumuz bu sayfayı çıktı aldıktan sonra poşet dosya içine koyarak tahta kalem ile kullanabilirsiniz.

ROMEN RAKAMLARI

Yönerge: Aşağıdaki doğal sayıları çevrelerindeki noktalardan keserek oyun için hazırlayalım.

I

II

III

IV

V

VI

VII

VIII

IX

X

XI

XII

XIII

XIV

XV

XVI

XVII

XVIII

XIX

XX

20'YE KADAR OLAN DOĐAL SAYILAR

Yönerge: Aşağıdaki Romen rakamları ile yazılan sayıları çevrelerindeki noktalardan keserek oyun için hazırlayalım.

1

2

3

4

5

6

7

8

9

10

11

12

13

14

15

16

17













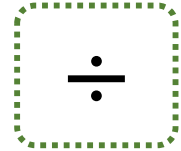
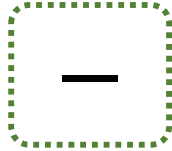

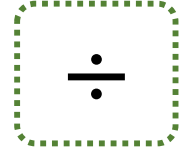
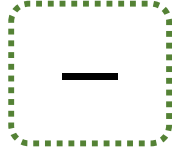

18

19

20

MATEMATİKSEL İŞARET VE SEMBOLLER

Yönerge: Aşağıdaki Romen rakamları ile yazılan sayıları çevrelerindeki noktalardan keserek oyun için hazırlayalım.



NASIL OYNANIR?


- * Oyun bireysel veya grup halinde oynanabilir.
- * Öğrencilere Romen rakamları, doğal sayılar ve semboller sayfaları dağıtılarak yönergeye göre kesmeleri istenir.
- * Romen rakamları ile dört işlem, sıralama vb. gibi sorular sorularak işlem alanında cevaplamaları istenir.
- * Romen rakamları ile doğal sayıların eşleştirilmesi istenebilir. Bu nedenle 'eşittir' sembolü fazla koyulmuştur.
- * İstenen çalışmayı bitiren öğrenci/grup kazanır ve puan alır.
- * Puan tablosuna işaretlenir.
- * Oyuna ek olarak konu ile ilgili hazırlamış olduğumuz çalışma sayfalarını aşağıdaki linkten indirebilir, öğrencilerimizin başarılarına katkı sunmak adına yapmış olduğumuz paylaşımları aşağıdaki kanallardan takip edebilirsiniz.

Aşağıdaki görsellere tıklayarak sayfalara ve kanallarımıza ulaşabilirsiniz.

4. SINIF
MATEMATİK YAZ
KURSU
ETKİNLİKLER



Meb.Ders.Com
Telegram Kanalı



Hasan Yıldırım
Telegram Kanalı

ÖRNEKTİR

İŞLEM ALANI

$$\text{VI} + \text{XI} = \text{XVII}$$

$$\text{XIV} = 14$$

$$\text{XIX} > \text{XII} > \text{VII}$$

PUAN TABLOSU

10 PUAN



10 PUAN



10 PUAN



10 PUAN



10 PUAN



10 PUAN



10 PUAN



10 PUAN



10 PUAN



10 PUAN



TOPLAM

70 PUAN