

1-) Onlar basamağındaki rakamı birler basamağındaki rakamın üç katı olan sayı hangisidir?

- a) 14      b) 62      c) 46

2-) 12-17-22-27-★-37-42-😊

Yukarıdaki örüntüye göre

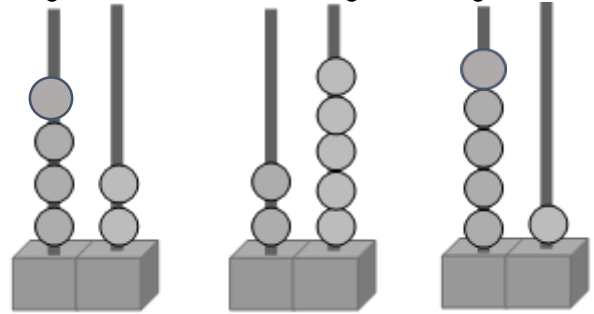
$$😊 + ★ = ?$$

3-) Bir haftadaki gün sayısı üç düzineden ne kadar eksiktir?

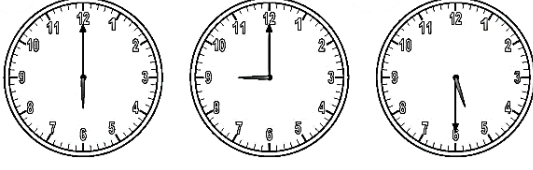
4-) Bir sınıfta 16 kız, kızların sayısından 6 fazla da erkek öğrenci vardır. Bu sınıfta toplam kaç öğrenci vardır?

5-) 2 bütün, 3 yarım, 8 çeyrek ekmek toplam kaç çeyrek ekmek eder?

6-) Abaküslerde verilen sayıları bulup en yakın onluklarına yuvarlayınız.



7-) Aşağıda verilen saat eşleştirmelerini yapınız.



09.00

17.30

18.00

8-) Aşağıdaki harflerin simetrisinin bulunduğu yerleri kırmızı çizgiye göre yazınız.

V					
			M		
	T				
				A	
					H

9-) Bahçemizdeki havuz 8 kova su ile dolmaktadır. Bir kova su 5 litre olduğuna göre bu havuz kaç kova su ile dolar?

10-)

MEYVELER	KİŞİ SAYISI
Mandalina	15
Üzüm	9
Kiraz	12
Muz	7

Yukarıdaki tabloda sınıfımızdaki sevilen meyveler verilmiştir. Buna göre;

a) En çok sevilen meyve en az sevilen meyveden ne kadar fazladır?

.....

b) Mandalina ile üzümü sevenlerin sayısı kiraz ile muz sevenlerin sayısından ne kadar fazladır?

.....

11-) Tuna 20 santimetrelik cetvel ile sırasının boyunu ölçüyor. Ölçüm 4 cetvel boyu olduğuna göre Tuna'nın sırasının boyu kaç santimetredir?

12-) Kalem: ₺7 Cetvel: ₺5  
Kitap: ₺10 Çanta: ₺35

Yukarıda fiyatı verilen araç-gereçlere göre aşağıdaki gruplardan en pahalı olan hangisidir?

- a) Kalem - çanta - cetvel
- b) Kitap - kalem - çanta
- c) Kitap - cetvel - çanta

13-) Aşağıdaki geometrik cisimlerden hangisinin köşe sayısı diğerlerinden farklıdır?

- a) Kare prizma
- b) Üçgen prizma
- c) Küp

14-) Annemin yaşı, 3 desteden 4 fazladır. Teyzemin yaşı 20'ye yuvarlanan en büyük sayıdır. Buna göre annem ve teyzemin yaşları toplamı kaçtır?

15-)Aşağıdaki cümlelerde boş bırakılan yerleri tamamlayınız.

Karenin tüm kenarları ..... uzunluktadır.

Dikdörtgenin.....kenar uzunlukları birbirine eşittir.

Çemberin köşesi ve kenarı .....

Karenin ve dikdörtgenin ..... köşesi ve ..... kenarı bulunmaktadır.

Üçgenin, üç tane ..... ve ..... tane köşesi vardır.

16-) Gül 17 yaşında, Şenay 13 yaşındadır. İkisinin 2 yıl sonra yaşları toplamı kaçtır?

### 3.SINIF HAZIRBULUNUŞLUK SINAVI

### TÜRKÇE

1-) Aşağıda verilen metni okuyup soruları cevaplayınız.

#### TAVŞAN AİLESİ

Büyük bir ormanda yaşayan tavşan ailesinin çok güzel bir evleri varmış. Tavşan ailesi, evlerinde çok mutlu bir şekilde yaşıyormuş.

Bir gün ormana çok yağmur yağmış. Sel oluşmuş. Sel, tavşan ailesinin evlerine zarar vermiş. Tavşan ailesi boğulmaktan zor kurtulmuş. Evlerindeki tüm eşyalar ıslanmış, sular altında kalmış. Ailedeki herkes çok üzülmüş.

Baba tavşan:

— Hiç üzülmeğin. Bakın hepimiz hayattayız. Bizlere bir şey olmadı. Birlikten güç doğar. Hep birlikte yeni bir ev yapabiliriz, demiş.

Gerçekten de çok güzel bir ev yapmışlar. Yeni evlerine mutlu bir şekilde uzun yıllar yaşamışlar.



Tavşan ailesi nerede yaşıyormuş?

.....  
.....

- Tavşan ailesinin evine ne olmuş?  
.....  
.....
- Yaşadıkları olay karşısında baba tavşan ne demiş?  
.....  
.....

2-) Aşağıdaki kelimeleri sözlükte buldukları sıraya göre numaralandırınız.

hediye havuç hırsız hindi hap  
( ) ( ) ( ) ( ) ( )

3-) "Bilmecelerin cevapları çok basitti.

Cümlesinde "basit" sözcüğünün **zıt anlamlısı** aşağıdaki seçeneklerin hangisinde kullanılmıştır?

- a) Elmaların tadı çok güzel.
- b) Karda yürümek çok zor.
- c) Şarkının sözlerini çok kolay ezberledim.

4-) Aşağıdaki cümlelerin hangisinde varlığın **sirasını** bildiren bir kelime kullanılmıştır?

- a) Marketten üç paket sabun aldık.
- b) Sınıfta beşinci sırada oturuyor.
- c) Bahçede dörderli sıra olduk.

5-) Teyzeler misafir gelmiş". Cümlesinde "misafir" sözcüğünün yerine hangisini yazarsak cümlenin anlamı **değişmez**?

- a) komşu
- b) insanlar
- c) konuk

6-) Aşağıdaki kelimelerden anlamlı ve kurallı bir cümle yaparsak hangi sıralama uygun olur?

akşam yola Ankara'ya çıktık doğru dün  
(1) (2) (3) (4) (5) (6)

- a) 3-5-2-4-1-6
- b) 6-1-3-5-2-4
- c) 2-4-3-1-6-5

7-) "telefon" kelimesi satır sonuna sığmadığında aşağıdakilerden hangisi gibi **bölünemez**?

- a).....tele -
- b).....telef-
- c) ....te-  
fon on lefo

8-) Aşağıdaki cümlelerin hangisinde yazım yanlışı **yoktur**?

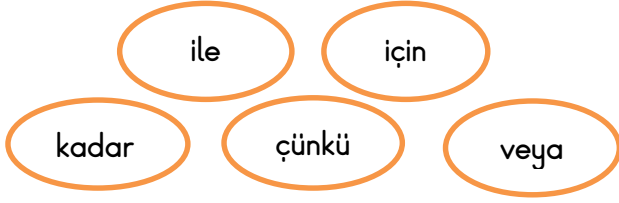
- a) Teyzem İstanbul'dan tirenle geldi.
- b) Flüt çalmayı çok istiyorum.
- c) Dün arkadaşşıma süpriz yaptık.

9-) Son günlerdeki davranışlarından dolayı iyice "**gözden düştü**."

Cümlesindeki altı çizili deyim anlamı aşağıdakilerden hangisidir?

- a) Şaşırmak telaşlanmak
- b) Önemsiz bir olayı büyütme
- c) Sevgi saygı veya ilgiyi kaybetmek

10-) Aşağıdaki cümledeki noktalı alanlara verilen kelimelerden uygun olanları yazınız.



Bugün hasta olduğum.....okula gidemedim.

Dedem..... sinemaya gideceğiz.

Pazardan gelirken çilek.....kiraz al.

Annem melek..... güzeldir.

Bisiklete binemiyorum.....ayağımı incittim.

12-) Seval ( ) Cansu ve İrem yarın Ankara ( ) da saat 10 ( ) 30 da mı buluşacaklar( )

Yukarıdaki cümlede yay ayraç içlerine hangi noktalama işaretleri gelmelidir?

a) ( , ) ( ' ) ( . ) ( . )

b) ( , ) ( ' ) ( . ) ( ? )

c) ( , ) ( , ) ( : ) ( ? )



oynaogretmenn

13-)“yüz” sözcüğü hangi cümlede farklı anlamda kullanılmıştır?

- a) Bayramda yüz lira harçlık topladım.
- b) Yüzümü sivrisinek ısırıldı.
- c) Sabah kalkınca elimizi yüzümüzü yıkamalıyız.

14-) Aşağıdaki cümleleri oluş sırasına göre sıralayınız.

- ( ) Kahvaltısını yaptı.
- ( ) Okula gitti.
- ( ) Eve döndü.
- ( ) Beslenmesini yaptı.
- ( ) Sınıfa girip çantasını bıraktı.
- ( ) Sabah kalktı.