

1)



Çocukların, harflerin alfabetik sırasına göre **kodladığı** kelime hangisidir?

- A) inci B) inek
C) ipek D) ilaç

2) Aşağıdakilerden hangisinde verilen harfler tümüyle **alfabetik** sıraya uygundur?

- A) b, g, f, m, z B) e, h, n, l, y
C) c, i, o, ş, ü D) a, d, k, y, v

3)

Ağacın dalı kırıldı.



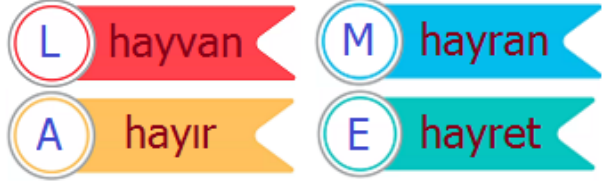
Üstteki cümle ile ilgili aşağıdaki ifadelerden hangisi **doğrudur**?

- A) 9 tane ünlü harf vardır.
B) 7 tane ünsüz harf vardır.
C) Ünlü ve ünsüz harf sayısı eşittir.
D) Ünsüz harf sayısı daha fazladır.

4) Alttaki meyvelerden hangisinin adı sözlük sırasına göre en **sonda** yer alır?

- A)  B) 
C)  D) 

5)



Her biri **harf** ile eşleşen kelimeler alfabetik sıralanırsa harfler hangi kelimeyi oluşturur?

- A) ELMA B) ALEM
C) MEAL D) AMEL

6) Okunuşu "iki yüz kırk bin on dört" olan sayı aşağıdakilerden hangisidir?

- A) 2414 B) 24014
C) 240014 D) 240140

7)




Aşağıdakilerden hangisi, yukarıdaki sayıların **okunuşlarından** biri değildir?

- A) Otuz bin beş yüz kırk iki
B) Otuz bin iki yüz kırk iki
C) Otuz bin kırk iki
D) Otuz bin dört yüz elli iki

8) Alttaki sayılardan hangisi **dört** basamaklı bir sayı değildir?

- A) On bin dört B) Sekiz bin
C) Üç bin altı yüz D) İki bin yirmi üç


9)



"**Altmış yedi bin iki yüz otuz beş**" sayısı üstte modellenmiştir. Buna göre hangi basamaktaki boncuklar eksiktir?

- A)** Birler basamağı **B)** Onlar basamağı
C) Yüzler basamağı **D)** Binler basamağı

10)



Soru işareti olan yere aşağıdaki sayılardan hangisi yazılmalıdır?

- A)** 5000 **B)** 4000
C) 4300 **D)** 4900

11) Aşağıdaki ileri doğru biner saymalardan hangisi **doğrudur**?

- A)** 6000 – 7000 – 8000 – 9000 – 1000
B) 1000 – 2000 – 4000 – 5000 – 6000
C) 3000 – 4000 – 5000 – 6000 – 7000
D) 5000 – 6000 – 7000 – 9000 – 10000

12) Aşağıda verilen **bilgilerden** hangisi yanlış değildir?

- A)** Yer kabuğu kayalardan oluşmuştur.
B) Canlılar Dünya'nın iç katmanı olan manto katmanında yaşarlar.
C) Dünyanın en iç katmanı su tabakasıdır.
D) Yer kabuğu okyanus tabanında kalın, karaların olduğu yerde incedir.

13)

odun	mermer	cam
su	kömür	plastik

Üstteki kutularda verilen maddelerden kaç tanesi **kayaçlara** örnek verilebilir?

- A)** 2 **B)** 3
C) 4 **D)** 5

14)

Kayaçların birbirinden farklı olmasını sağlayan ve yapılarını oluşturan maddelere denir.

Üstteki **tanımda** noktalı alana hangi kelime gelmelidir?

- A)** maden **B)** mineral
C) demir **D)** granit

15) Aşağıdaki **sorulardan** hangisinin cevabı, kimlik kartı üzerinde yoktur?

- A)** Hangi tarihte doğdu?
B) Hangi adreste oturuyor?
C) Anne ve babanın ismi nedir?
D) Cinsiyeti nedir?

16)

Aşağıdaki bilgilerden hangisi elektronik çipe (yonga) **depolanmaz**?

- A)** Nüfus kayıt bilgisi **B)** Fotoğraf bilgisi
C) Parmak izi **D)** Okul karnesi

17) Kaç yaşından itibaren kimlik kartlarında fotoğraf **zorunludur**?

- A)** 20 **B)** 18
C) 15 **D)** 12

CEVAP ANAHTARI

- | | |
|-------|-------|
| 1) B | 11) C |
| 2) C | 12) A |
| 3) D | 13) A |
| 4) A | 14) B |
| 5) D | 15) B |
| 6) C | 16) D |
| 7) B | 17) C |
| 8) A | |
| 9) D | |
| 10) B | |