

Adı : .....

Soyadı: .....

4. Sınıf  
Matematik

Doğal Sayılar  
Okuma-Yazma-4

Aşağıdaki tabloda istenen sayıları bulup işaretleyiniz.

3	6	2	1	0	5
7	0	4	2	6	8
1	9	5	8	3	0
4	6	2	0	1	7
8	0	8	6	5	2
4	3	7	1	9	7

**4 basamaklı sayılar**

Üç bin yedi yüz on dokuz

Dört bin sekiz yüz kırk bir

Beş bin sekiz yüz yedi

Altı bin iki yüz on

Beş bin yüz otuz altı

**5 basamaklı sayılar**

Seksen bin sekiz yüz altmış beş

On iki bin sekiz yüz altı

Yirmi dört bin beş yüz yirmi sekiz

Yetmiş bir bin yirmi altı

**6 basamaklı sayılar**

Sekiz yüz altmış iki bin dört yüz yedi

Yüz doksan beş bin sekiz yüz otuz

Üç yüz yetmiş bir bin dört yüz seksen dört

İki yüz elli altı bin sekiz yüz sekiz

Verilen rakamları bir kere kullanmak şartıyla 4 basamaklı farklı sayılar yazarak okuyunuz.

5 0 6 2

.....

Verilen rakamları bir kere kullanmak şartıyla 5 basamaklı farklı sayılar yazarak okuyunuz.

1 8 0 2 7 4

.....

*Mustafa Kabul*

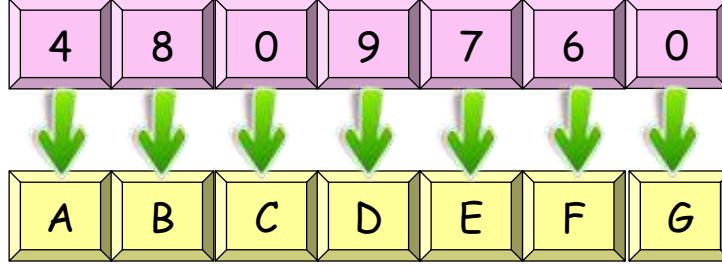
Adı : .....

Soyadı: .....

4. Sınıf  
Matematik

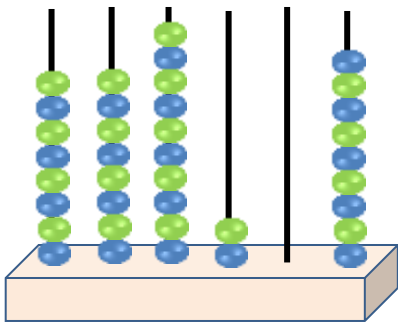
Doğal Sayılar  
Okuma-Yazma-4

Verilen rakamların kodlarına göre tabloyu doldurunuz.



HARFLER	SAYI	BASAMAK SAYISI	OKUNUŞU
ABGC			
BGGCCE			
DCGEGF			
FFGDC			
EABCGD			
BABA			
DEDE			

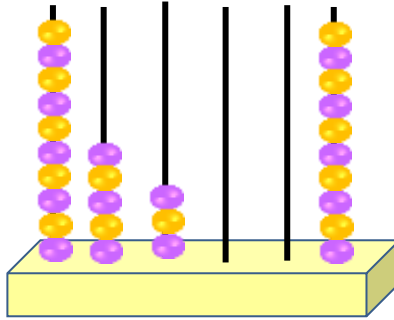
Abaküslerde verilen sayıları yazınız.



Sayı: .....

Okunuşu:.....

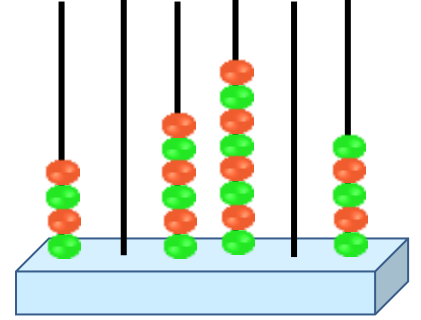
.....



Sayı: .....

Okunuşu:.....

.....



Sayı: .....

Okunuşu:.....

.....

*Mustafa Kabul*