




- 1)  mantar  
Ayşe
-  orman  
Erkan
-  kuzu  
Oya

Yukarıdaki çocuklar söyledikleri kelimelerin alfabetik sırasına göre sınıfa girmişler. Buna göre sınıfa **ilk** hangi çocuk girmiştir ?

- A) Ayşe      B) Oya      C) Erkan

- 2) Aşağıdaki kelimelerden hangisinin harfleri alfabetik sıraya göre **değildir**?

- A) koyu      B) dört      C) boru

- 3) 

Yukarıdaki noktalı yerlere verilen harflerin alfabetik sıralamada bir öncesinde bulunan harfler yazılacaktır.


Yukarıdaki ifadeye göre noktalı yerlere sırayla hangi harfler yazılmalıdır?

- A) L-C-R      B) L-Ç-R      C) K-Ç-R

- 4) 

Alfabemizdeki harflerin sırası düşünüldüğünde yukarıda yazılı kelime aşağıdakilerden hangisidir?

- A) küre      B) kurs      C) kule


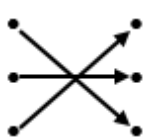

- 5) Oya'nın söylediği kelimedeki harflerin alfabetik sıradaki yerleri aşağıdakilerden hangisinde doğru olarak verilmiştir? 

- A) 6-19-21-24  
B) 6-18-21-24  
C) 5-19-21-24

- 6) 

603 •	• Altı yüz otuz
630 •	• Altı yüz otuz üç
633 •	• Altı yüz üç

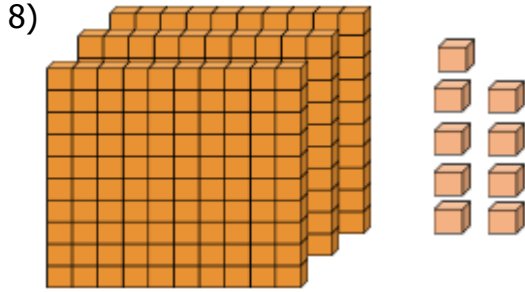
Yukarıdaki sayıların okunuşlarıyla eşleştirilmesi aşağıdakilerden hangisinde doğru verilmiştir?

- A)  B)  C) 

- 7)  $\diamond$  Dört yüz kırk dört  
 $\diamond$  Dört yüz dört  
 $\diamond$  Dört yüz beş

Aşağıdaki sayılardan hangisinin okunuşu yukarıda **verilmemiştir** ?

- A) 404      B) 444      C) 450



Yukarıda taban bloklarıyla gösterilen sayıdan **bir sonraki** sayı kaçtır?

- A) 308      B) 310      C) 410

- 9) I ) 265 – 275 – 285 – 295 - ..... - 315  
 II) 497 – 498 – 499 – 500 - ..... - 502  
 III) 346 – 446 – 546 - ..... - 746

Yukarıdaki ritmik saymalarda noktalı yerlere aşağıdaki sayılardan hangileri gelmelidir?

	I	II	III
A)	305	501	646
B)	305	501	556
C)	305	510	646

- 10) Aşağıdaki ritmik saymalardan hangisi **yanlış** yapılmıştır?

- A) 567 – 577 – 587 – 597 – 507 -517  
 B) 728 – 729 – 730 – 731 – 732 -733  
 C) 208 – 308 – 408 – 508 – 608 -708

- 11) Planlı  
 Araştırmacı  
 Çalışmayı sever

Yukarıdaki özelliklerden hangileri derslerinde başarılı bir öğrencinin güçlü yönleri olabilir?

- A)      B) Hepsi      C)

- 12) Arkadaşlarımla oyun oynarken kurallara uyarım. Kurallara uymayan arkadaşlarıma çok çabuk kızarım. Oyun sırasının bana gelmesini sabırlı bir şekilde beklerim.





Barış'ın anlattıklarına göre Barış'ın zayıf yönü aşağıdakilerden hangisidir?


- A) Sabırlı olması  
 B) Kurallara uyması  
 C) Çok çabuk kızması

13) Aşağıdakilerden hangisi bir kişinin güçlü yönü **olamaz**?

- A) Güvenilir bir kişiyim.  
B) İşlerimi bitirmek için çok aceleliyimdir.  
C) Arkadaşlarıma yardım etmeyi severim.

14)  Şarkı söylerken heyecanlanıyorum. Ceren

 Sınıfta en hızlı ben koşuyorum. Fatih

 Yüzerken korkuyorum. Umut

Yukarıdaki öğrencilerden hangisi güçlü yönünden söz etmiştir?

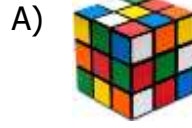
- A) Fatih B) Ceren C) Umut

15) Mert araştırmayı çok seviyor. Değişik deneyler yaparak yeni bilgiler öğreniyor. Deney yaparken çok dikkatli davranıyor. Odasında bazen aradığı araçları bulamıyor. Çünkü masası ve odası çok dağınık.

Yukarıdaki bilgilere göre Mert'in güçlendirilmesi gereken yönü aşağıdakilerden hangisidir?

- A) Severe deney yapmalı.  
B) Araştırma yapmalı.  
C) Tertipli ve düzenli olmalı.

16) Dünya'nın şekli aşağıdakilerden hangi cisme benzer?



17) Dünya üzerinde başladığın noktadan itibaren hep aynı yönde gidersen yine aynı yere gelersin.

Yukarıdaki ifadenin sebebi aşağıdakilerden hangisidir?

- A) Dünya'nın hareket etmesi.  
B) Dünya'nın şeklinin yuvarlak olması.  
C) Dünya'nın tepsi şeklinde olması.

18) Aşağıdakilerden hangisi Dünya'nın yuvarlak olduğunun bir kanıtıdır?

- A) Denizden karaya yaklaşan geminin görünüşü.  
B) Dünya yüzeyinin büyük bir kısmının sularla kaplı olması.  
C) Dünya üzerinde canlıların yaşaması.

19) Dünya'nın şekliyle ilgili çok eski zamanlardan beri çok farklı görüşler ifade edilmiştir. Aşağıdaki görüşlerden hangisi zaman olarak diğerlerinden daha sonradır?

- A) Öküzün üzerinde duran tepsi şeklindedir.
- B) Dev bir timsahın sırtındadır.
- C) Dünya yuvarlaktır.

20)

Dünya'nın uzaydan çekilmiş fotoğraflarına bakıldığında şeklinin ..... benzediği görülmüştür.

Yukarıdaki ifadede noktalı yere aşağıdakilerden hangisi gelmelidir?

- A) küpe
- B) küreye
- C) piramide

## CEVAP ANAHTARI

TÜRKÇE	MATEMATİK	HAYAT BİL.	FEN BİLİM.
1) B	6) A	11) B	16) C
2) A	7) C	12) C	17) B
3) B	8) B	13) B	18) A
4) C	9) A	14) A	19) C
5) C	10) A	15) C	20) B