





1) Aşağıdaki **varlıklardan** hangisinin ismi tek heceden meydana gelmiştir.

- A)  B) 
- C)  D) 

2) Aşağıdaki **harflerden** hangisi tek başına hece oluşturabilir?

- A) i B) s
C) d D) y

3)



Aşağıdaki kelimelerden hangisi üstteki kelime ile aynı **hece** sayısına sahip değildir?

- A) telefon B) aileden
C) prensesler D) karyola

4) **Hecelerle** ilgili aşağıda verilen bilgilerden hangisi doğrudur?

- A) Bir hecede en çok üç harf bulunabilir.
B) Her hecede bir ünsüz bulunmalıdır.
C) Ünlü harf tek başına hece oluşturamaz.
D) Kelimedeki ünlü harf sayısı, bize hece sayısını verir.

5)

minder	→	
derslik	→	
dergi	→	
ender	→	

Her biri hayvan ile eşleştirilen kelimelerden hangisinde **-der** hecesi yoktur?

- A)  B) 
- C)  D) 

6) Aşağıdaki kelimelerden hangisi satır sonunda **yanlış** ayrılmıştır.

- A) bırak-
madı B) ayak-
kabı
C) üz-
üntülü D) üstün-
deki

7)



Türkiye genelinde Mayıs ayında "**Yüz yirmi iki bin yedi yüz altmış sekiz**" konut satıldı.

Yukarıdaki haberde geçen **konut satış miktarı** kaç basamaklıdır?

- A) 3 basamaklı B) 6 basamaklı
C) 4 basamaklı D) 5 basamaklı

8) Aşağıdaki sayıların hangisinin binler bölüğündeki sayı **70**'tir?

- A) 705024 B) 7096
C) 70681 D) 707070

9)



Kaplanın tuttuğu sayıyı **binler** bölüğüne, **gergedanın** tuttuğu sayıyı **birler** bölüğüne yazarsak hangi sayı oluşur?

- A) 62385 B) 85623
C) 850623 D) 623085

10) " 98065 " sayısının binler basamağındaki rakamın **basamak değeri** kaçtır?

- A) 8000 B) 9000
C) 90000 D) 800

11)

40832

Yukarıdaki sayının doğru çözümlenmesi aşağıdakilerden hangisidir?

- A) 40000 + 800 + 30 + 2
B) 40000 + 1000 + 800 + 30 + 2
C) 4000 + 800 + 30 + 2
D) 400000 + 8000 + 30 + 2

12)

25910

Üstteki sayı ile ilgili çözümlemelerden hangisinde hata vardır?

- A) 20000 + 5000 + 900 + 10
B) 2 on binlik + 5 binlik + 9 yüzlük + 1 onluk
C) (2 x 10 000) + (5 x 100) + (9 x 10) + (1 x 1)
D) 10 + 900 + 5000 + 20000

13) ☆ Uzay teknolojisinde, askeri sanayide, tıpta, elektrik sektöründe ve sanayi camlarının üretiminde kullanılmaktadır.

☆ Bu madenin dünya rezervlerinin %70'i ülkemizde bulunmaktadır.

Üstte özellikleri verilen **maden** hangisidir?

- A) demir B) bor
C) altın D) krom

14) Fosillerle alakalı aşağıdaki bilgilerden hangisi **yanlıştır**?

- A) Fosiller yer kabuğunun hareketiyle açığa çıkar.
B) Buzullarda fosilleşme gerçekleşebilir.
C) Fosilleşmenin şartlarından biri, havayla temasın kesilmesidir.
D) Fosilleşme sadece kayalarda gerçekleşir.

15)

1	2013 yılında doğdum.
2	2014'te yürümeye başladım.
3	?
4	2018'de anaokuluna gittim.

3 numaralı alana hangisini yazamayız?

- A) 2022 yılında 4. sınıfa başladım.
B) 2017 yılında satrancı öğrendim.
C) 2016 yılında bisiklet sürebildim.
D) 2015 yılında konuşmaya başladım.

16) Olayların oluş tarihine göre sıralanmasına **ne** denir?

- A) sosyoloji B) kronoloji
C) biyoloji D) arkeoloji

CEVAP ANAHTARI

- | | |
|-------|-------|
| 1) C | 11) A |
| 2) A | 12) C |
| 3) B | 13) B |
| 4) D | 14) D |
| 5) D | 15) A |
| 6) C | 16) B |
| 7) B | |
| 8) C | |
| 9) D | |
| 10) A | |