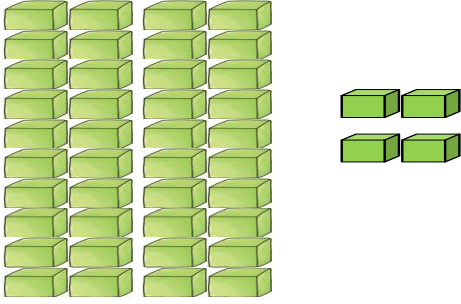





2. SINIF MATEMATİK ONLUK BİRLİK ÇALIŞMASI



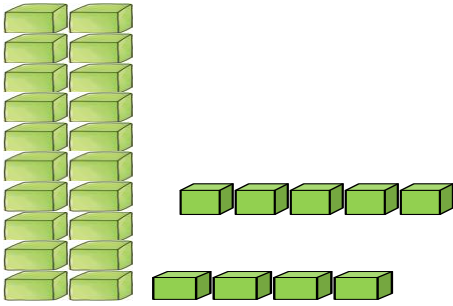
Aşağıda verilen onluk birlik modellerini tabloya uygun doldurunuz.



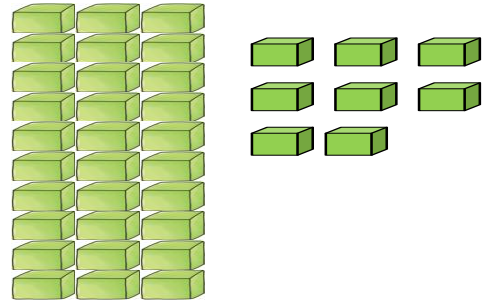
Onluk	Birlik
Sayı:	



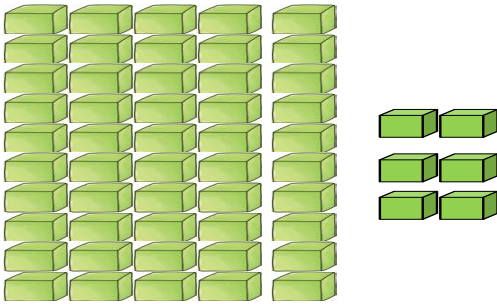
Onluk	Birlik
Sayı:	



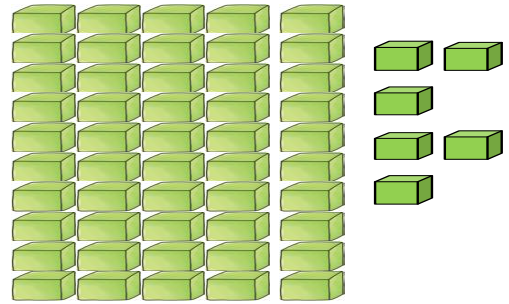
Onluk	Birlik
Sayı:	



Onluk	Birlik
Sayı:	



Onluk	Birlik
Sayı:	



Onluk	Birlik
Sayı:	



2.SINIF ONLUK BİRLİK ÇALIŞMALARI



1-) Aşağıda verilen sayıları uygun olan onluk birlikle eşleştiriniz.

67

91

50

14

4 birlik 1onluk

0 birlik 5 onluk

7 birlik 6 onluk

1 birlik 9 onluk

2-) Aşağıda verilen onluk birlikleri uygun olan sayı ile eşleştiriniz.

7 birlik 4 onluk

2 birlik 1 onluk

6 onluk 9 birlik

4 onluk 4 birlik

12

44

47

69

3-) Aşağıda verilen sayıları uygun olan onluk birlikler ile eşleştiriniz.

46

93

81

18

1 birlik 8 onluk

4 onluk 6 birlik

3 birlik 9 onluk

1 onluk 8 birlik

4-) Aşağıda verilen onluk birlikleri uygun olan sayı ile eşleştiriniz.

6 onluk 5 birlik

4 birlik 8 onluk

4 onluk 8 birlik

6 birlik 5 onluk

48

84

56

65

İskender07 (İlkokul etkinlikleri)