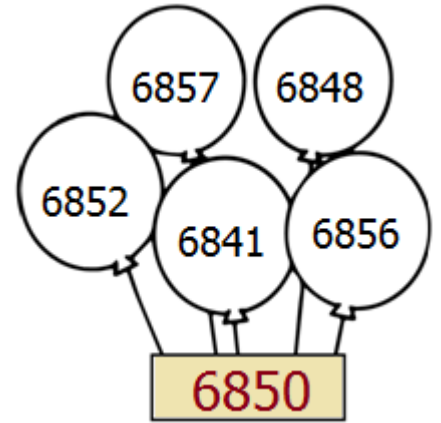
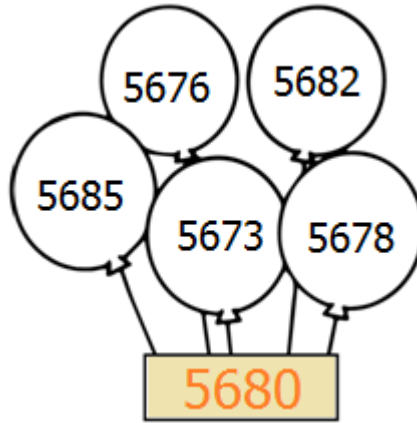
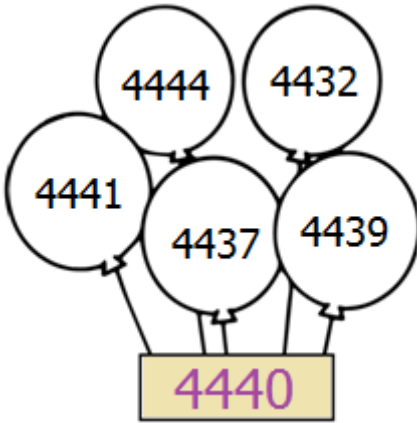
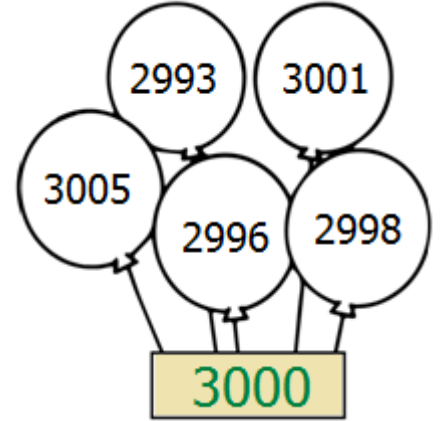
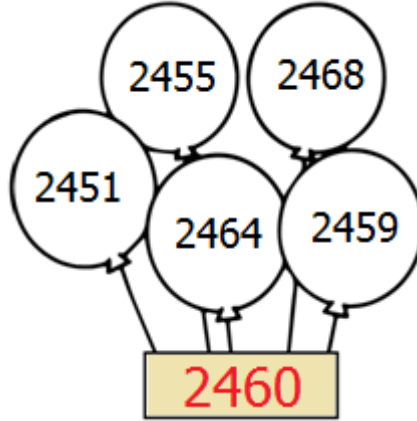
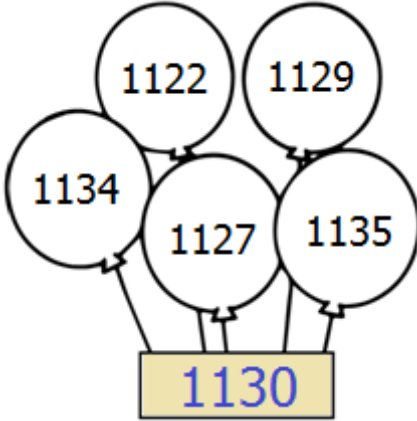




Verilen **onluğa** yuvarlanan sayıları içeren **balonları** boyayınız.



Sayıardan **önce** ve **sonra** gelen onlukları yazıp, en **yakın** onluğa **boyayınız**.

590	592	600
	946	
	771	
	565	

	1684	
	2259	
	3033	
	8675	

	6123	
	4628	
	4367	
	9874	



Verilen **sayıların** yuvarlandığı **en yakın yüzlükleri** boyayınız.

4000	4152	4200	8600	8735	8800	2600	2583	2400
9600	9617	9800	1300	1364	1500	6200	6049	6000
5800	5927	6000	3700	3651	3900	6900	7007	7100



En yakın **yüzlüğe** yuvarlamalardan doğru olana **D**, yanlış olanlara **Y** yazınız.

5858	→	5800	Y	7490	→	7500	
9632	→	9600		8507	→	8500	
4049	→	4100		6666	→	6600	
3481	→	3400		2583	→	2600	



Verilen **yüzlüğe** yuvarlanan **en büyük** ve **en küçük** sayıyı yazınız.

Yüzlük	En Küçük	En Büyük
3200	3150	3249
4600		
1700		
6000		

Yüzlük	En Küçük	En Büyük
3900		
5500		
2400		
7100		