

2. HAFTA



✓ Basamaklar

✓ Basamak değeri

yazma

✓ Basamakları ayırma

✓ Birer, ikişer ritmik

sayma

✓ Üçer, dörder, beşer
ve onar ritmik sayma

✓ Değerlendirme

✓ Okuma anlama

✓ Zıt Anlamalı Kelimeler

✓ Alfabetik sıralama

✓ Hece Sayısı

✓ Noktalama İşaretleri

✓ Çizim Aşamaları

✓ Eş Anlamalı Kelimeler

✓ Boyama

✓ Eşleştirme

✓ Eş Anlamalı Kelimeler

✓ Yazım Yanlışları

DENİZ YILDIZI

Adamın biri sabaha karşı okyanus sahilinde, güneşin doğuşunun keyfini çıkarmak için sahile inmiş. Uzakta sahilde birini görür. Biraz yaklaştığında sahile vuran deniz yıldızlarını okyanusa atan bir çocuk olduğunu fark eder. Çocuğa yaklaşarak sorar:

-Deniz yıldızlarını neden okyanusa atıyorsun?

Çocuk der ki:

- Güneş yükseldi mi, sular çekiliyor. Onları suya atmazsam susuzluktan ölecekler.

Adam devam eder:

- Sahil kilometrelerce uzanıyor ve binlerce deniz yıldızı var, hangi birini atacaksın. Ne fark edecek ki?

Çocuk, adamı dinledikten sonra bir deniz yıldızını daha okyanusa atar ve cevap verir:

- Bu deniz yıldızı için fark etti.

Adam, çocuğun yalnızca okyanus manzarasının keyfini çıkarmaya gelmeyip bir fark yaratmak istediğini anlar ve ona katılarak bütün sabahı okyanusa deniz yıldızı atarak geçirir.

1. Hikaye nerede geçiyor?

2. Adam sahilde kimi görmüş?

3. Çocuk ne yapıyormuş?

4. Hikayeye küçük bir ilave yapar mısın?

5. Alfabemizde kaç harf vardır?

29

28

8

6. Alfabemizin ilk ve son harfi nedir?

a-b

a-z

a-y

7. Hangi harf alfabemizde daha sonra yer alır?

h

g

j

Alfabe sıralaması

➡ Aşağıdaki verilen kelimeleri alfabe sırasına göre sıralayalım.

A.

balık



deniz



ayna



ev



B.

zürafa



geyik



kedi



çekirge



C.

dayı



teyze



hala



amca



D.

vatan



bayrak



özgürlük



Türkiye



E.

davul



dere



durak



diş



F.

Beril



Buse



Birkan



Bora



G.

Yağmur



Yakup



Yaşar



Yasemin



Noktalama İşaretleri

➔ Aşağıdaki cümlelerde yerine gelmesi gereken noktalama işaretlerini koyunuz.

➔ Derlerimi zamanında yaparım

➔ Ömer Ahmet ve Muammer bizimle gelecek

➔ Ankara nın her yerini çok iyi bilir misin

➔ Türkiye nin başkenti Ankara dır

➔ Ece nin kırmızı mavi ve yeşil kalemi var

➔ Derlerimi zamanında yaparım

➔ Ömer Ahmet ve Muammer bize gelecek

➔ Ankara nın her yerini çok iyi bilirim

➔ Türkiye nin başkenti Ankara dır

➔ Ece nin kırmızı mavi ve yeşil kalemi var

➔ Ali nin dayısı ne zaman gelmiş

➔ Dikkat

➔ Off, canım sıkıldı

➔ Ayşe hasta mı olmuş



Nereden Gelirsin?

Nereden gelirsin?
Zikzak kalesinden.
Ne gezersin?
Açlık belasından.
Nerde yattın?
Beyin konağında.
Altına ne serdiler?
Perde.
Desene kupkuru yerde.
Bıyıkların neden yağ oldu?
Bildircin eti yedim.
Bildircin yağlı mıydı?
Gökte uçarken gördüm.
Saçların neden ağardı?
Değirmenden geldim.
Değirmen dönüyor mu?
Zimbirtisini duydum.
Ayakların neden ıslandı?
Çaydan geçtim.
Çay derin miydi?
Köprüyü doluştım,
İşte geldim sana



*Tekerlemede adı
geçen kelime
balonlarını
boyayalım.*



ZOR KOLAYA KARŞI!

Yazarla genellikle anlaşamıyoruz. O ne yapmamı isterse ben onun tam tersini yapmak istiyorum. Konuşmalarımız da öyle.

Ben **ak** diyorum, o **kara** diyor.

O **hızlı** diyor, ben **yavaş** diyorum.

Ben **fakir** diyorum, sence o ne diyor olabilir?

.....

➡ Ben dar diyorum, o diyor.

➡ Ben büyük diyorum, o diyor.

➡ Ben yeni diyorum, o diyor.

➡ Ben kuru diyorum, o diyor.

➡ Ben alçak diyorum, o diyor.

➡ Ben yukarı diyorum, o diyor.

➡ Ben korkak diyorum, o diyor.

➡ Ben eğri diyorum, o diyor.

➡ Ben dik diyorum, o diyor.

➡ Ben ödül diyorum, o diyor.

➡ Ben ağır diyorum, o diyor.

➡ Ben korkak diyorum, o diyor.

➡ Ben bayat diyorum, o diyor.

➡ Ben usta diyorum, o diyor.

➡ Ben savaş diyorum, o diyor.



Eş Anımlı Kelimeler

→ Aşağıdaki verilen eş anlamlı kelimeleri görsellerleriyle eşleştirelim.

hekim

baş

okul

öğretmen



mektep

doktor

muallim

kafa

ihhtiyar

ev

hediye

sonbahar



armağan

konut

yaşlı

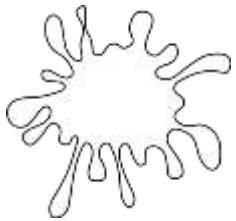
güz

siyah

beyaz

al

rüzgar



kırmızı

yel

kara

ak

Hece ve Sayısı

➡ Aşağıdaki verilen kelimeleri hecelerine ayırıp hece sayısını yazalım.



te-le-fon

3



.....



.....



.....



A.




.....



.....




.....



.....



B.



.....



.....




.....



.....



C.



.....



.....



.....



.....



D.

EŞ ANLAMLI KELİMELER

➔ İlk harfleri verilen eş anlamlı kelimeleri yazalım.

siyah	➔	K.....	kalp	➔	Y.....
kirli	➔	P.....	vakit	➔	Z.....
il	➔	V.....	anı	➔	H.....
yanıt	➔	C.....	görev	➔	V.....
hediyeye	➔	A.....	ek	➔	İ.....
özlem	➔	H.....	rüzgar	➔	Y.....
uzak	➔	L.....	sene	➔	Y.....
kafa	➔	B.....	öğretmen	➔	M.....
öğrenci	➔	T.....	sevinç	➔	N.....
fakir	➔	Y.....	kelime	➔	S.....
vatan	➔	Y.....	okul	➔	M.....
giysi	➔	E.....	sınav	➔	İ.....
ödül	➔	M.....	ad	➔	İ.....
kibar	➔	N.....	nehir	➔	L.....
doktor	➔	H.....	aş	➔	Y.....
rüya	➔	D.....	doğa	➔	T.....
beyaz	➔	A.....	misafir	➔	K.....

ADIMI YAZAR MISIN?

➔ Aşağıdaki verilen bilgilere göre çocukların adlarını bulalım, yazalım.

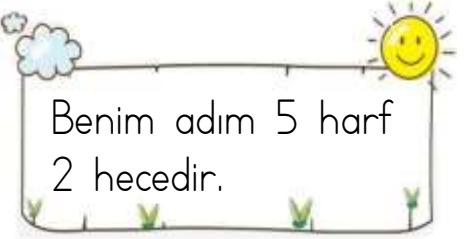
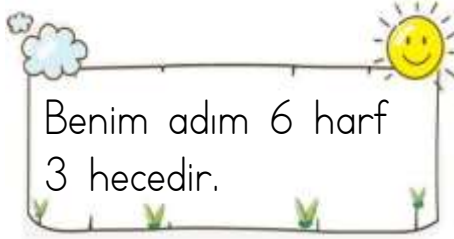
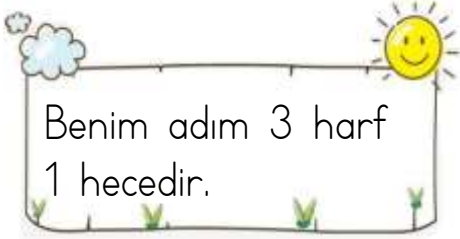
Yılmaz
Yağız

Ceren
Can

Abdullah
Zeliha

Bülent
Gülbahar

Zübeyde



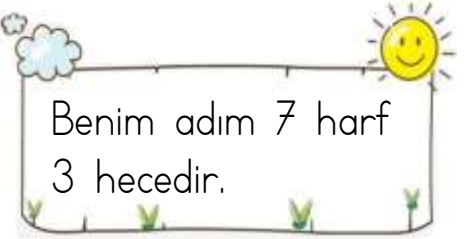
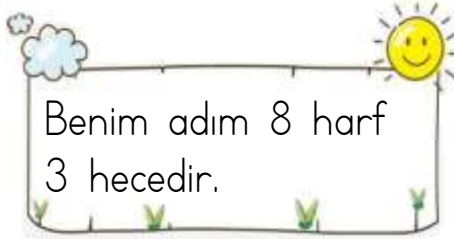
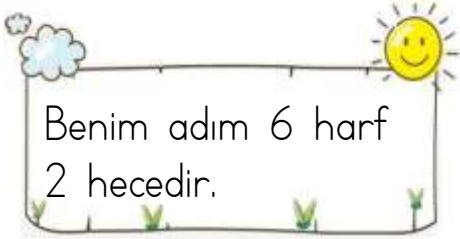
.....



.....



.....



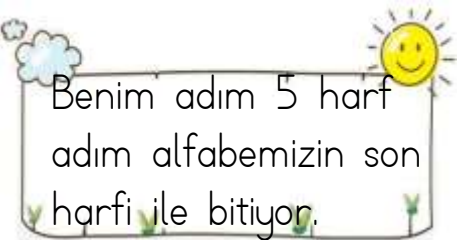
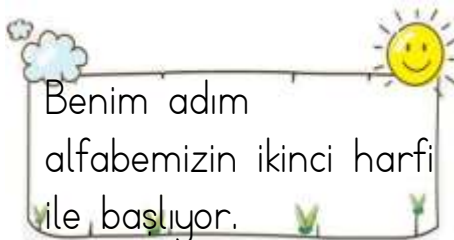
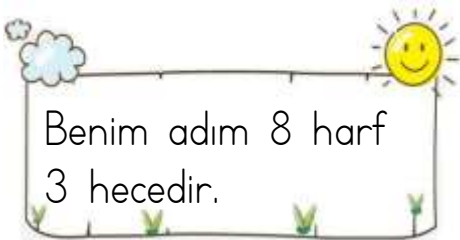
.....



.....



.....



.....



.....



.....

Yazım Yanlıřları

→ Ařađıdaki cümleleri okuyunuz, yazım yanlıřlarının altını çiziniz. Cümleleri dođru olacak řekilde yeniden yazınız.

→ yatmadan önce diřlerimi fırçalarım.

→ ankadaran misafirlerimiz geldi.

→ uzun zamandır ayřeyi göremiyordum.

→ okulumuzda cumhuriyet bayramı hazırlıkları başladı.

→ nehir, yađmur ve yusuf birlikte çalışacaklar.

→ ülkemiz seksen bir ilden oluşmaktadır.

→ Annem yozgata gitti.

→ fındık en çok ordu ve giresunda yetişir.

→ En kalabalık řehrimiz istanbuldur.

Doğal sayılar - Birer Ritmik Sayma

➡ Birer birer 100 'e kadar yazalım.

1 ➡ ... ➡ ... ➡ ... ➡ ... ➡ ... ➡ ... ➡ ... ➡ ... ➡ ...

... ➡ ... ➡ ... ➡ 14 ➡ ... ➡ ... ➡ ... ➡ ... ➡ ... ➡ ... ➡ ...

... ➡ ... ➡ ... ➡ ... ➡ ... ➡ ... ➡ ... ➡ ... ➡ 29 ➡ ... ➡ ...

... ➡ ... ➡ ... ➡ ... ➡ ... ➡ ... ➡ 37 ➡ ... ➡ ... ➡ ... ➡ ...

... ➡ ... ➡ 43 ➡ ... ➡ ... ➡ ... ➡ ... ➡ ... ➡ ... ➡ ... ➡ ...

... ➡ 52 ➡ ... ➡ ... ➡ ... ➡ ... ➡ ... ➡ ... ➡ ... ➡ ... ➡ ...

... ➡ ... ➡ ... ➡ ... ➡ ... ➡ 66 ➡ ... ➡ ... ➡ ... ➡ ... ➡ ... ➡ ...

... ➡ ... ➡ ... ➡ ... ➡ 75 ➡ ... ➡ ... ➡ ... ➡ ... ➡ ... ➡ ... ➡ ...

81 ➡ ... ➡ ... ➡ ... ➡ ... ➡ ... ➡ ... ➡ ... ➡ ... ➡ ... ➡ ... ➡ ...

... ➡ ... ➡ ... ➡ ... ➡ ... ➡ ... ➡ ... ➡ ... ➡ 98 ➡ ... ➡ ... ➡ ...

➡ 10 'ar 10 'ar 100 'e kadar yazalım.

... ➡ ... ➡ ... ➡ ... ➡ ... ➡ ... ➡ ... ➡ ... ➡ ... ➡ ... ➡ ... ➡ ...

Basamak Adları

→ Aşağıdaki sayıların basamak adlarını örnekteki gibi yazalım.

4 5 kırk beş



6 3



5 9




7 8



4 6



3 5



2 6



1 4



4 2



2 0



7 7



9 1



5 8



9 2



1 5



8 3



6 7

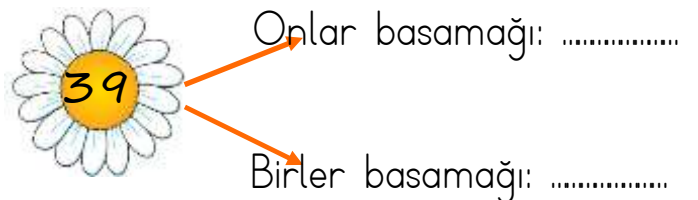
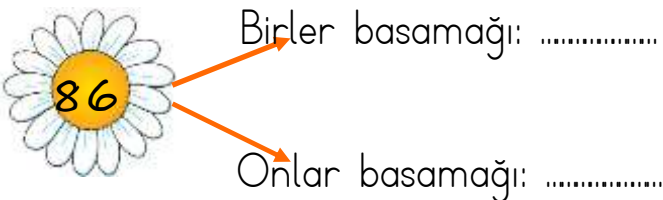
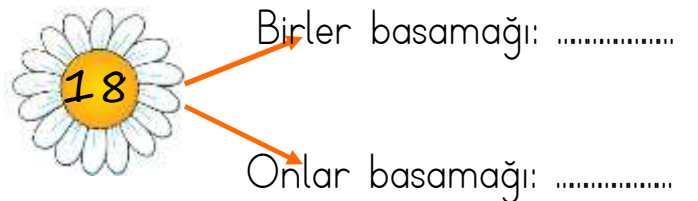
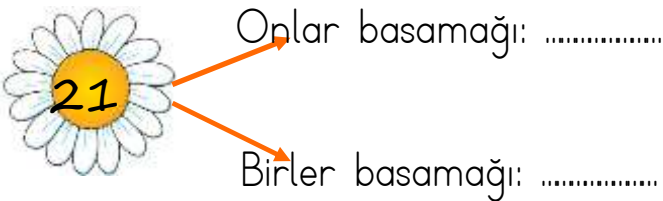
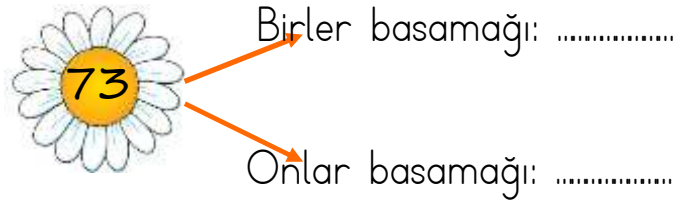
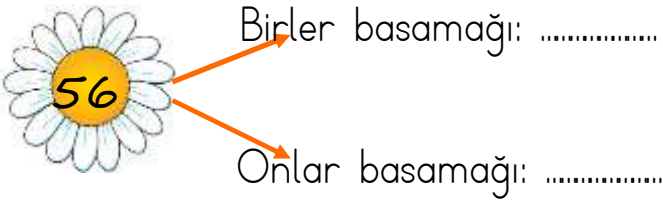
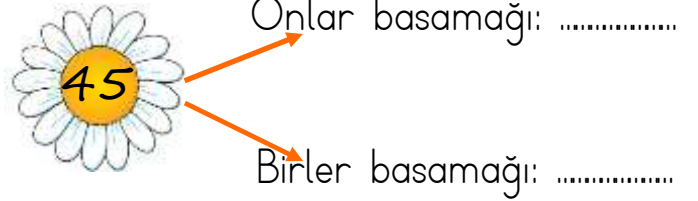
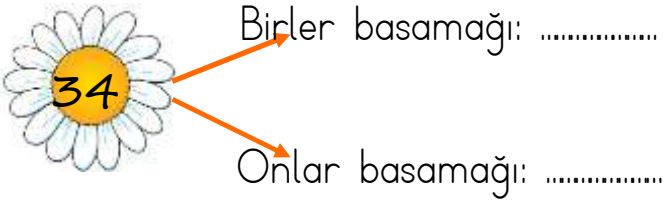
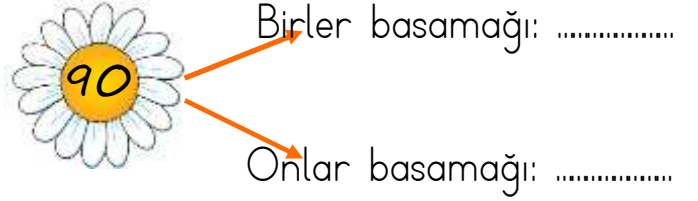
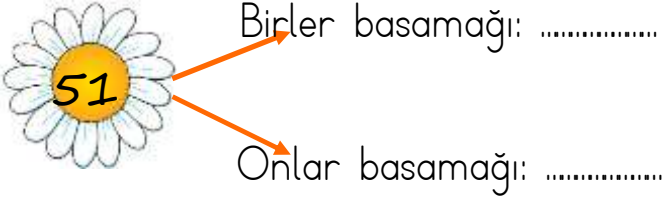
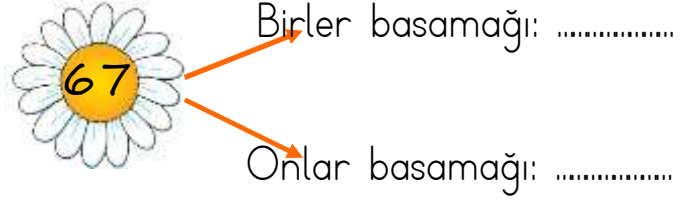
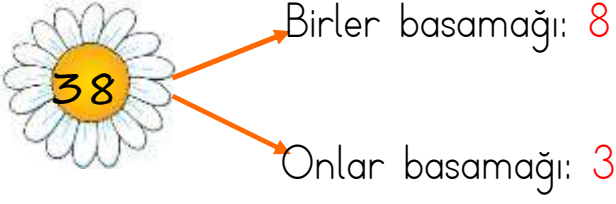


9 4



Basamak Adları

→ Aşağıdaki verilen sayıların basamaklarındaki rakamları yazalım.



Basamak Adları

→ Onluk taban bloklarıyla modellenen sayıların okunuşlarını ve basamak adlarını yazalım yazalım.

□

□

□

□

□

□

□

□

□

Basamak Deęeri

→ Verilen sayıların basamak deęerlerini yazalım.

Onlar basamaęı

Birler basamaęı

Onlar basamaęı

Birler basamaęı

a.   

b.   

c.   

ç.   

d.   


  

e.   

f.   

g.   

h.   

i.   

i.   

Basamak Deęeri

Ařaęıdaki altı çizili olan sayının basamak deęerini bulalım boyayalım.

65 → 60 6

83 → 3 30

25 → 5 50

19 → 10 9

10 → 10 0

62 → 60 6

48 → 8 80

75 → 7 70

91 → 1 10

54 → 50 5

36 → 30 3

62 → 20 2

90 → 0 10

44 → 40 4

76 → 6 60

23 → 30 3

89 → 80 8

16 → 10 1

93 → 3 30

51 → 50 5

Basamak Deęeri

→ Ařaęıdaki basamak deęeri verilen sayıları rnekteki gibi yazalım.

Onlar basamaęı: 50

Birler basamaęı: 7

57

Onlar basamaęı: 50

Birler basamaęı: 7

.....

Onlar basamaęı: 50

Birler basamaęı: 7

.....

Onlar basamaęı: 70

Birler basamaęı: 9

Birler basamaęı: 4

Onlar basamaęı: 30

Birler basamaęı: 7

Onlar basamaęı: 70

Onlar basamaęı: 90

Birler basamaęı: 3

.....

Onlar basamaęı: 40

Birler basamaęı: 0

.....

Onlar basamaęı: 80

Birler basamaęı: 5

.....

Onlar basamaęı: 20

Birler basamaęı: 1

Onlar basamaęı: 10

Birler basamaęı: 3

Onlar basamaęı: 60

Birler basamaęı: 6

Onlar basamaęı: 50

Birler basamaęı: 6

.....

Onlar basamaęı: 30

Birler basamaęı: 2

.....

Onlar basamaęı: 90

Birler basamaęı: 9

.....

Onlar basamaęı: 70

Birler basamaęı: 2

Onlar basamaęı: 80

Birler basamaęı: 4

Onlar basamaęı: 30

Birler basamaęı: 8

Basamak Deęeri

→ Ařaęıdaki tabloları 6rneęe g6re dolduralım.

SAYI	58	
Basamak adı	Onlar basamaęı	birler basamaęı
Basamak deęeri	50	8
Sayıyı okuyalım	Elli sekiz	

SAYI	37	
Basamak adı basamaęı basamaęı
Basamak deęeri
Sayıyı okuyalım	

SAYI	63	
Basamak adı basamaęı basamaęı
Basamak deęeri
Sayıyı okuyalım	

SAYI	49	
Basamak adı basamaęı basamaęı
Basamak deęeri
Sayıyı okuyalım	

SAYI	71	
Basamak adı basamaęı basamaęı
Basamak deęeri
Sayıyı okuyalım	

SAYI	84	
Basamak adı basamaęı basamaęı
Basamak deęeri
Sayıyı okuyalım	

SAYI	35	
Basamak adı	onlar basamaęı	birler basamaęı
Basamak deęeri
Sayıyı okuyalım	

SAYI	21	
Basamak adı basamaęı basamaęı
Basamak deęeri
Sayıyı okuyalım	

Basamak Deęeri

Verilen bilgilere gre ocukların adını grsellere yazalım.

Merve:

Benim defterime yazdıęım sayı 4 birlik, 8 onluktur.

Gke:

Aklımdan tuttuęum sayının birler basamaęı 7'dir.

Seda:

Benim sayımın onlar basamaęı basamak deęeri 50'dir.

Serkan:

Benim sayımın onlar basamaęı basamak deęeri 60'tır.

Cem:

Benim sayım 7 onluk 5 birlikten oluřuyor.

Derya:

Aklımdaki sayının onlar basamaęı basamak deęeri 90'dır.

Ahmet:

Benim sayımın onlar basamaęı basamak deęeri 80'dir.

Buęra:

Benim sayım altı birlik, dokuz onluktan oluřuyor.

65



91



75



84



54



37



96



85



Birer Ritmik Sayma

İleriye doğru birer ritmik sayma yapalım mı?

1	2								
			24						
						37			
								49	

İleriye doğru birer ritmik sayma yapalım mı?

51	52								
		73							
					86				
								99	

Birer Ritmik Sayma

→ Verilen sayıdan geriye doğru birer ritmik yazalım.

25 → ... → ... → ... → ... → ... → ... → ... → ... → ...

38 → ... → ... → ... → ... → ... → ... → ... → ... → ...

57 → ... → ... → ... → ... → ... → ... → ... → ... → ...

85 → ... → ... → ... → ... → ... → ... → ... → ... → ...

71 → ... → ... → ... → ... → ... → ... → ... → ... → ...

42 → ... → ... → ... → ... → ... → ... → ... → ... → ...

↔ Verilen sayıdan geriye ve ileriye doğru birer ritmik yazalım.

29 ↔ ... ↔ ... ↔ ... ↔ ... ↔ ... ↔ ... ↔ ... ↔ ... ↔ ...

24 ↔ ... ↔ ... ↔ ... ↔ ... ↔ ... ↔ ... ↔ ... ↔ ... ↔ ...

35 ↔ ... ↔ ... ↔ ... ↔ ... ↔ ... ↔ ... ↔ ... ↔ ... ↔ ...

76 ↔ ... ↔ ... ↔ ... ↔ ... ↔ ... ↔ ... ↔ ... ↔ ... ↔ ...

48 ↔ ... ↔ ... ↔ ... ↔ ... ↔ ... ↔ ... ↔ ... ↔ ... ↔ ...

2 'ŞER RİTMİK SAYMA

→ Verilen sayıdan ileri doğru 2'şer sayalım, yazalım.

2 4

32

58

74

→ Verilen sayıdan ileri doğru 2'şer sayalım, yazalım.

24

38

46

62

74

50

2 'ŞER RİTMİK SAYMA

→ Verilen sayıdan geriye doğru ikiser ritmik sayalım, yazalım.

30 → ... → ... → ... → ... → ... → ... → ... → ... → ... → ...

54 → ... → ... → ... → ... → ... → ... → ... → ... → ... → ...

68 → ... → ... → ... → ... → ... → ... → ... → ... → ... → ...

74 → ... → ... → ... → ... → ... → ... → ... → ... → ... → ...

30 → ... → ... → ... → ... → ... → ... → ... → ... → ... → ...

54 → ... → ... → ... → ... → ... → ... → ... → ... → ... → ...

→ Verilen sayıdan geriye ve ileriye doğru doğru 2'şer ritmik yazalım.

36 ← ... → ...

28 ← ... → ...


12 ← ... → ...

56 ← ... → ...

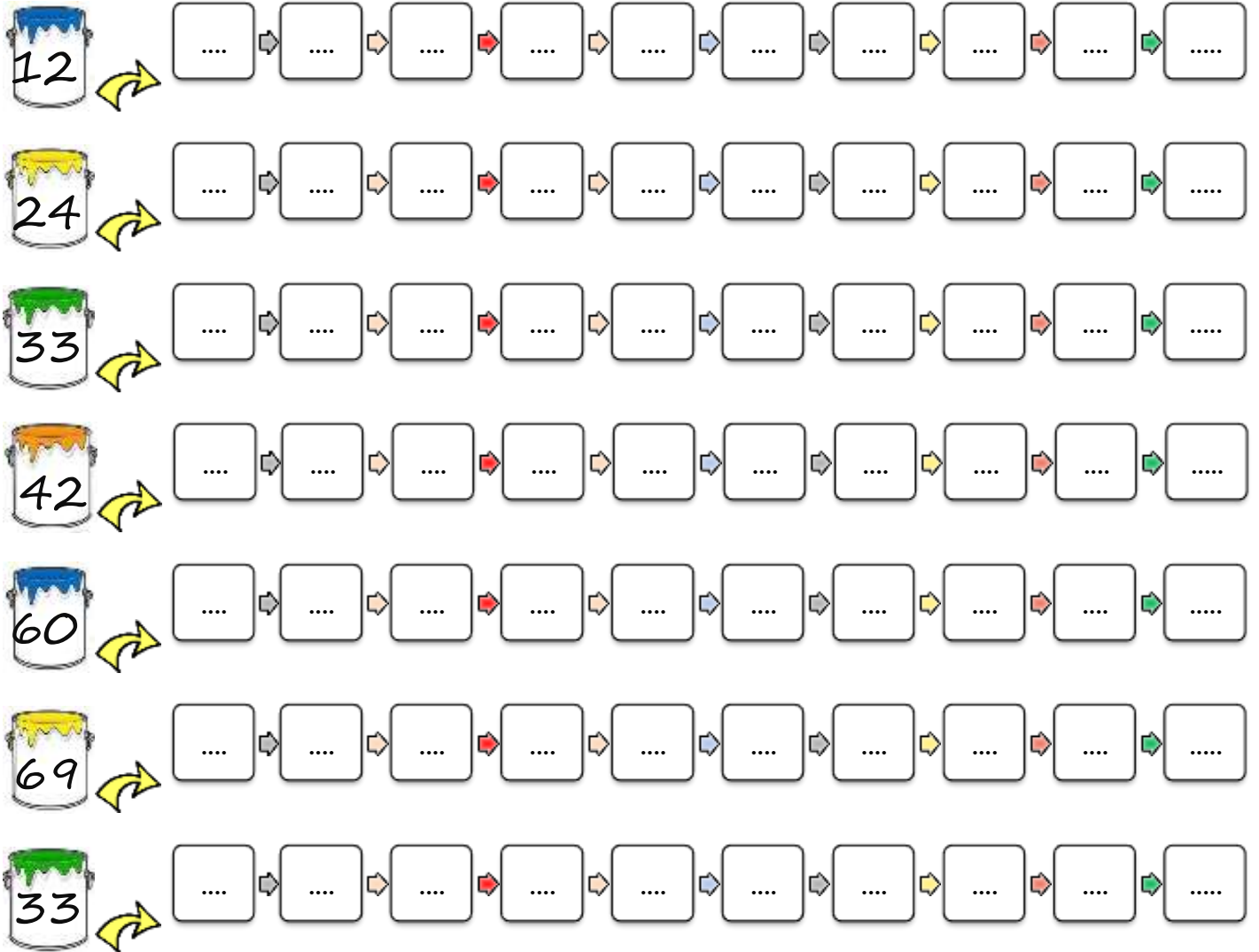
44 ← ... → ...

Üçer Ritmik Sayma

→ Verilen sayıdan ileri doğru 3'er yazalım.



→ Verilen sayıdan ileri doğru 3'er yazalım.



Üçer Ritmik Sayma

➔ Verilen sayıdan geriye doğru 3'er ritmik sayalım, yazalım.

36 ➔ ... ➔ ... ➔ ... ➔ ... ➔ 21 ➔ ... ➔ ... ➔ ... ➔ ... ➔ ...

45 ➔ ... ➔ ... ➔ ... ➔ ... ➔ 30 ➔ ... ➔ ... ➔ ... ➔ ... ➔ ...

60 ➔ ... ➔ ... ➔ ... ➔ ... ➔ ... ➔ 42 ➔ ... ➔ ... ➔ ... ➔ ... ➔ ...

72 ➔ ... ➔ ... ➔ ... ➔ ... ➔ ... ➔ ... ➔ ... ➔ ... ➔ ... ➔ ... ➔ ...

63 ➔ ... ➔ ... ➔ ... ➔ ... ➔ ... ➔ ... ➔ ... ➔ ... ➔ ... ➔ ... ➔ ...

54 ➔ ... ➔ ... ➔ ... ➔ ... ➔ ... ➔ ... ➔ ... ➔ ... ➔ ... ➔ ... ➔ ...

➔ Verilen sayıdan geriye ve ileriye doğru doğru 3'er ritmik yazalım.

21 ← ... → ...

36 ← ... → ...

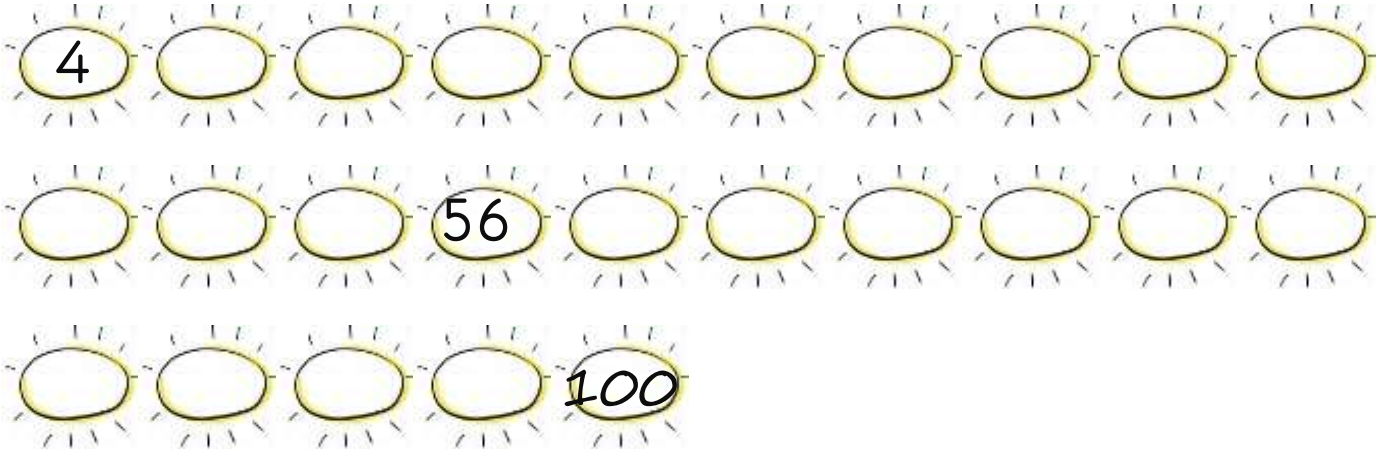
48 ← ... → ...

72 ← ... → ...

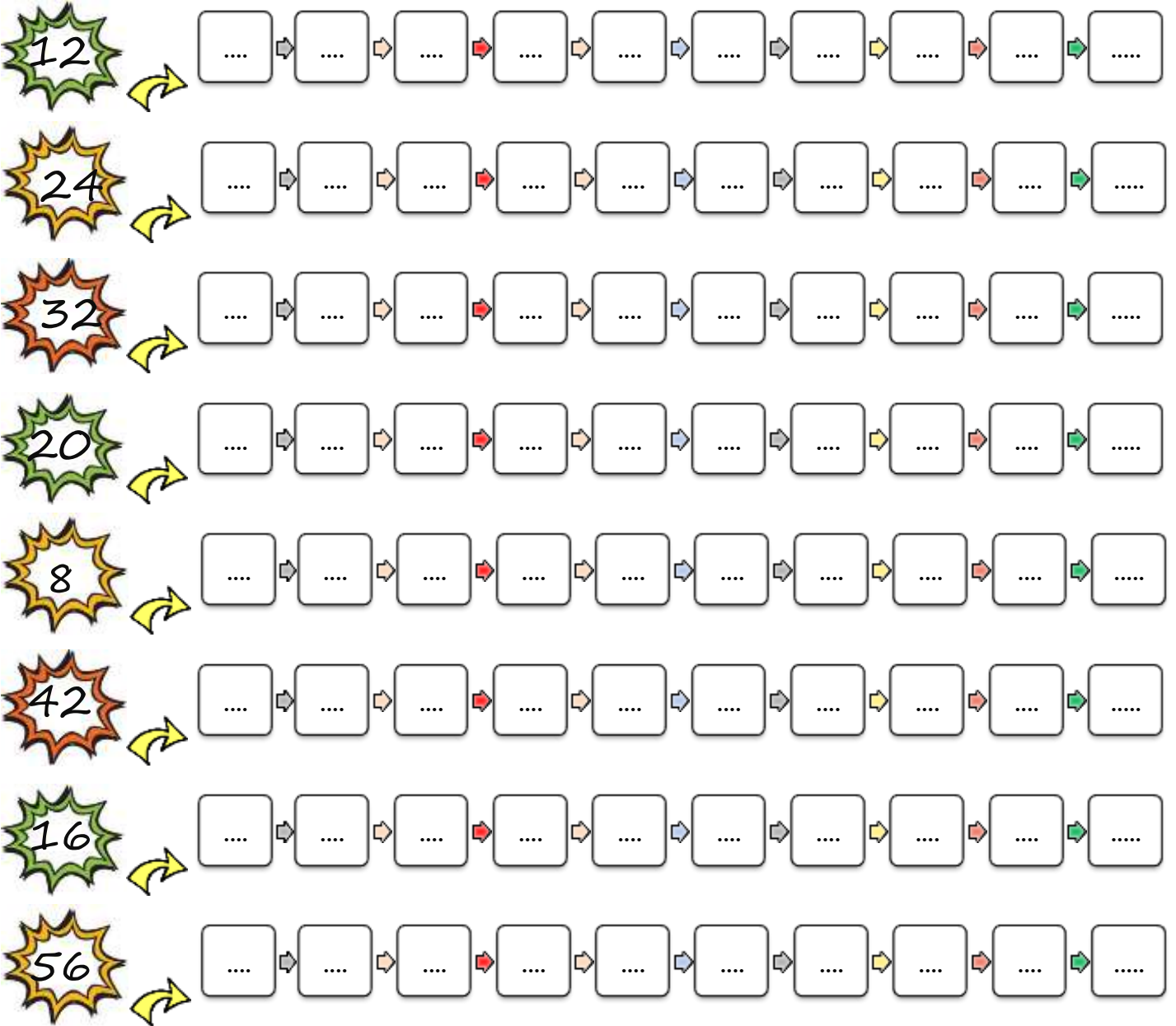
54 ← ... → ...

Dörder Ritmik Sayma

→ Verilen sayıdan ileri doğru 4'er yazalım.



→ Verilen sayıdan ileri doğru 4'er yazalım.



Dörder Ritmik Sayma

→ Verilen sayıdan geriye doğru 4'er ritmik sayalım, yazalım.

44 → ... → ... → ... → ... → ... → ... → ... → ... → ... → ...

52 → ... → ... → ... → ... → ... → ... → ... → ... → ... → ...

60 → ... → ... → ... → ... → ... → ... → ... → ... → ... → ...

72 → ... → ... → ... → ... → ... → ... → ... → ... → ... → ...

88 → ... → ... → ... → ... → ... → ... → ... → ... → ... → ...

→ Verilen sayıdan geriye ve ileriye doğru doğru 4'er ritmik yazalım.

40 ← →

56 ← →

24 ← →

32 ← →

48 ← →

20 ← →

Beşer Ritmik Sayma

→ Verilen sayıdan başlayıp ileri doğru 5'er sayalım. Sayarken söylediğimiz sayıları sarıya boyayalım.

1	2	3	4	5	6	7	8	9	10
11	12	13	14	15	16	17	18	19	20
21	22	23	24	25	26	27	28	29	30
31	32	33	34	35	36	37	38	39	40
41	42	43	44	45	46	47	48	49	50
51	52	53	54	55	56	57	58	59	60
61	62	63	64	65	66	67	68	69	70
71	72	73	74	75	76	77	78	79	80
81	82	83	84	85	86	87	88	89	90
91	92	93	94	95	96	97	98	99	100

→ Boyadığımız sayıları yazalım.

...	→	...	→	...	→	...	→	...	→	...	→	...	→	...	→	...	→	...	→	...
...	→	...	→	...	→	...	→	...	→	...	→	...	→	...	→	...	→	...	→	...

Beşer Ritmik Sayma

→ Verilen sayıdan geriye doğru 5'er ritmik sayalım, yazalım.

50 → ... → ... → ... → ... → ... → ... → ... → ... → ...

65 → ... → ... → ... → ... → ... → ... → ... → ... → ...

50 → ... → ... → ... → ... → ... → ... → ... → ... → ...

65 → ... → ... → ... → ... → ... → ... → ... → ... → ...

50 → ... → ... → ... → ... → ... → ... → ... → ... → ...

65 → ... → ... → ... → ... → ... → ... → ... → ... → ...

→ Verilen sayıdan geriye ve ileriye doğru doğru 5'er ritmik yazalım.

← 50 →

← 65 →

← 35 →

← 70 →

← 80 →

Onar Ritmik Sayma

→ Aşağıdaki kalemlere onar tane ekleyerek ritmik sayma yapalım, yazalım.



→ Aşağıdaki belirtilen sayılardan başlayarak ileriye doğru 10'ar ritmik sayalım.

10



... → ... → ... → ... → ... → ... → ... → ...

20




... → ... → ... → ... → ... → ... → ... → ...

8



... → ... → ... → ... → ... → ... → ... → ...

6



... → ... → ... → ... → ... → ... → ... → ...

14



... → ... → ... → ... → ... → ... → ... → ...

12



... → ... → ... → ... → ... → ... → ... → ...

Ritmik Sayma

→ Verilen sayıdan başlayıp ileri doğru 2'şer sayalım, yazalım.

16 ↓ U ↓ U ↓ U ↓ U ↓ U ↓ U ↓ U

24 ↓ U ↓ U ↓ U ↓ U ↓ U ↓ U ↓ U

38 ↓ U ↓ U ↓ U ↓ U ↓ U ↓ U ↓ U

→ Verilen sayıdan başlayıp ileri doğru 3'er sayalım.

12 ↓ U ↓ U ↓ U ↓ U ↓ U ↓ U ↓ U

21 ↓ U ↓ U ↓ U ↓ U ↓ U ↓ U ↓ U

→ Verilen sayıdan başlayıp ileri doğru 4'er sayalım.

20 ↓ U ↓ U ↓ U ↓ U ↓ U ↓ U ↓ U

32 ↓ U ↓ U ↓ U ↓ U ↓ U ↓ U ↓ U

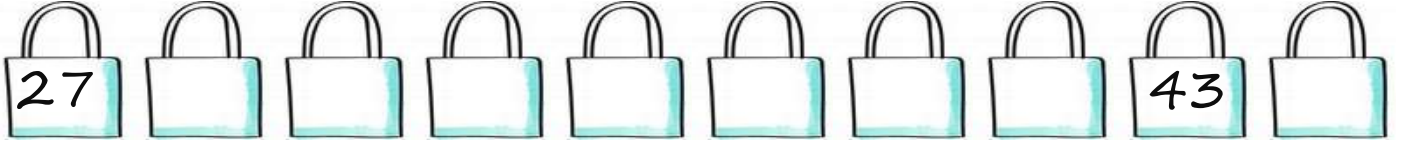
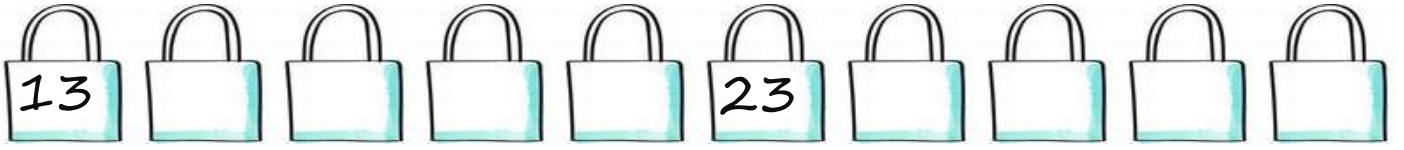
→ Verilen sayıdan başlayıp ileri doğru 5'er sayalım.

25 ↓ U ↓ U ↓ U ↓ U ↓ U ↓ U ↓ U

45 ↓ U ↓ U ↓ U ↓ U ↓ U ↓ U ↓ U

Verilen Sayıdan Ritmik Sayma



→ Verilen sayıdan başlayıp ileri doğru 2'er sayalım.



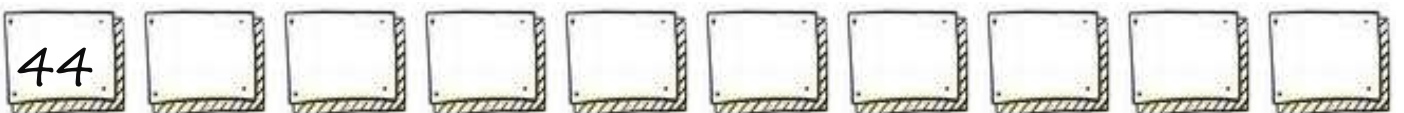
→ Verilen sayıdan başlayıp ileri doğru 3'er sayalım.



→ Verilen sayıdan başlayıp ileri doğru 4'er sayalım.



→ Verilen sayıdan başlayıp ileri doğru 5'er sayalım.



Verilen Sayıdan Ritmik Sayma

a. **4** 'ten başlayıp ileri doğru 2' şer saydığımızda 5. sırada hangi sayıyı söyleriz?

Çözüm: **4** **8** **12** **16** **20**

5. sırada

b. **12** 'den başlayıp ileriye doğru 2' şer saydığımızda 4. sırada hangi sayıyı söyleriz?

Çözüm:

c. **26** 'dan başlayıp ileriye doğru 2' şer saydığımızda 6. sırada hangi sayıyı söyleriz?

Çözüm:

ç. **50** 'den başlayıp ileriye doğru 2' şer saydığımızda 7. sırada hangi sayıyı söyleriz?

Çözüm:

d. **22** 'den başlayıp geriye doğru 2' şer saydığımızda 5. sırada hangi sayıyı söyleriz?

Çözüm:

e. **42** 'den başlayıp geriye doğru 2' şer saydığımızda 3. sırada hangi sayıyı söyleriz?

Çözüm:

f. **66** 'dan başlayıp ileriye doğru 2' şer saydığımızda 6. sırada hangi sayıyı söyleriz?

Çözüm:

Verilen Sayıdan Ritmik Sayma

- a. $\boxed{21}$ 'den başlayıp ileriye doğru 3' er saydığımızda 3. sırada hangi sayıyı söyleriz?

Çözüm: $\boxed{} \boxed{} \boxed{} \boxed{} \boxed{} \boxed{} \boxed{} \boxed{}$

- b. $\boxed{27}$ 'den başlayıp ileriye doğru 3' er saydığımızda 5. sırada hangi sayıyı söyleriz?

Çözüm: $\boxed{} \boxed{} \boxed{} \boxed{} \boxed{} \boxed{} \boxed{} \boxed{}$

- c. $\boxed{30}$ 'dan başlayıp geriye doğru 3' er saydığımızda 4. sırada hangi sayıyı söyleriz?

Çözüm: $\boxed{} \boxed{} \boxed{} \boxed{} \boxed{} \boxed{} \boxed{} \boxed{}$

- ç. $\boxed{15}$ 'ten başlayıp ileriye doğru 3' er saydığımızda 3. sırada hangi sayıyı söyleriz?

Çözüm: $\boxed{} \boxed{} \boxed{} \boxed{} \boxed{} \boxed{} \boxed{} \boxed{}$

- d. $\boxed{42}$ 'den başlayıp ileriye doğru 3' er saydığımızda 5. sırada hangi sayıyı söyleriz?

Çözüm: $\boxed{} \boxed{} \boxed{} \boxed{} \boxed{} \boxed{} \boxed{} \boxed{}$

- e. $\boxed{30}$ 'dan başlayıp geriye doğru 3' er saydığımızda 2. sırada hangi sayıyı söyleriz?

Çözüm: $\boxed{} \boxed{} \boxed{} \boxed{} \boxed{} \boxed{} \boxed{} \boxed{}$

Verilen Sayıdan Ritmik Sayma

- a. 20 'den başlayıp ileriye doğru 4' er saydığımızda 4. sırada hangi sayıyı söyleriz?

Çözüm:

- b. 28 'den başlayıp ileriye doğru 4' er saydığımızda 5. sırada hangi sayıyı söyleriz?

Çözüm:

- c. 32 'den başlayıp geriye doğru 4' er saydığımızda 3. sırada hangi sayıyı söyleriz?

Çözüm:

- ç. 40 'tan başlayıp geriye doğru 4' er saydığımızda 4. sırada hangi sayıyı söyleriz?

Çözüm:

- d. 45 'ten başlayıp ileriye doğru 5' er saydığımızda 5. sırada hangi sayıyı söyleriz?

Çözüm:

- e. 65 'ten başlayıp geriye doğru 5' er saydığımızda 3. sırada hangi sayıyı söyleriz?

Çözüm:

Kendimi Değerlendiriyorum

1. $3 \rightarrow 6 \rightarrow 9 \rightarrow 12 \rightarrow ?$

Yukarıdaki ritmik sayma hangi sayı ile sürdürülebilir?

A. 14 B. 15 C. 16

2. $20 \rightarrow 24 \rightarrow 28 \rightarrow ? \rightarrow 36$

Yukarıdaki ritmik saymada verilmeyen sayı kaçtır?

A. 30 B. 32 C. 36

3. Geriye doğru 2'şer sayarken 26 dan önce söylediğimiz sayı kaçtır?

A. 30 B. 28 C. 26

4. Aşağıdaki ritmik saymalardan hangisinde yanlışlık yapılmıştır?

A. 4-8-12-16-20

B. 30-35-40-45-50

C. 12-15-18-20-24

5. 10 'dan başlayarak ileriye doğru ikişer ritmik sayarken aşağıdaki sayılardan hangisini söyleriz?

A. 19 B. 20 C. 21

6. 45'ten başlayıp geriye doğru beşer ritmik 5 kez saydım. En son hangi sayıyı söyledim?

A. 25 B. 30 C. 20

7. Geriye doğru 3'er sayarken 24'ten önce söylediğimiz sayı aşağıdakilerden hangisidir?

A. 21 B. 27 C. 30

8. Ayşe her gün 5 sayfa kitap okumaktadır. 7. günün sonunda Ayşe kaç sayfa kitap okumuş olur?

A. 12 B. 30 C. 35

9. Kitaplıkta 8 raf var. Her rafta 2 kitap olduğuna göre kitaplıkta toplam kaç kitap vardır?

A. 16 B. 10 C. 18

Kendimi Değerlendiriyorum

10. 30'dan başlayıp geriye doğru beşer ritmik sayarken 3. sırada hangi sayı söylenir?

A. 20 B. 15 C. 10

11. 14'ten başlayarak ileriye doğru ikiser sayarken 5. sırada hangi sayı söylenir?

A. 22 B. 24 C. 26

12. 57'den başlayarak geriye doğru birer kez saydığımızda en son hangi sayıyı söyleriz?

A. 52 B. 51 C. 50

13. 80' den başlayarak geriye doğru onar ritmik sayarken 6. sırada hangi sayıyı söyleriz?

A. 40 B. 20 C. 30

14. 65' ten başlayarak ileri doğru beşer ritmik sayarken 4. sırada hangi sayıyı söyleriz?

A. 75 B. 80 C. 85

15. 32' den başlayarak ileri doğru dörder ritmik sayarken 4. sırada hangi sayıyı söyleriz??

A. 44 B. 40 C. 48

16. Aşağıdaki geriye doğru ritmik saymalardan hangisinde yanlışlık yapılmıştır?

A. 24-20-16-12-8

B. 33-30-24-24-20

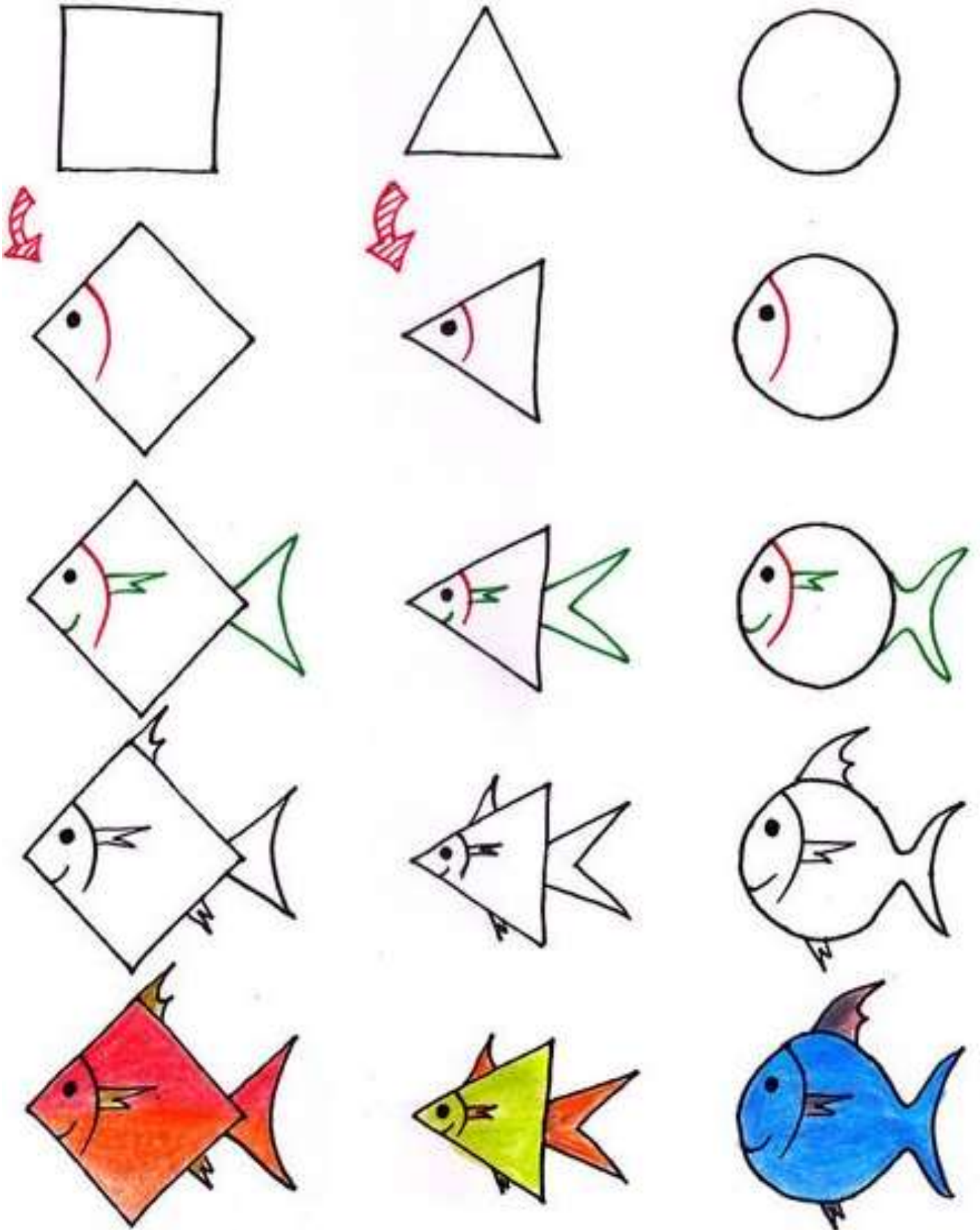
C. 30-28-26-24-22

17. 40'tan başlayarak ileriye doğru dörder sayarken 6. sırada hangi sayıyı söyleriz?

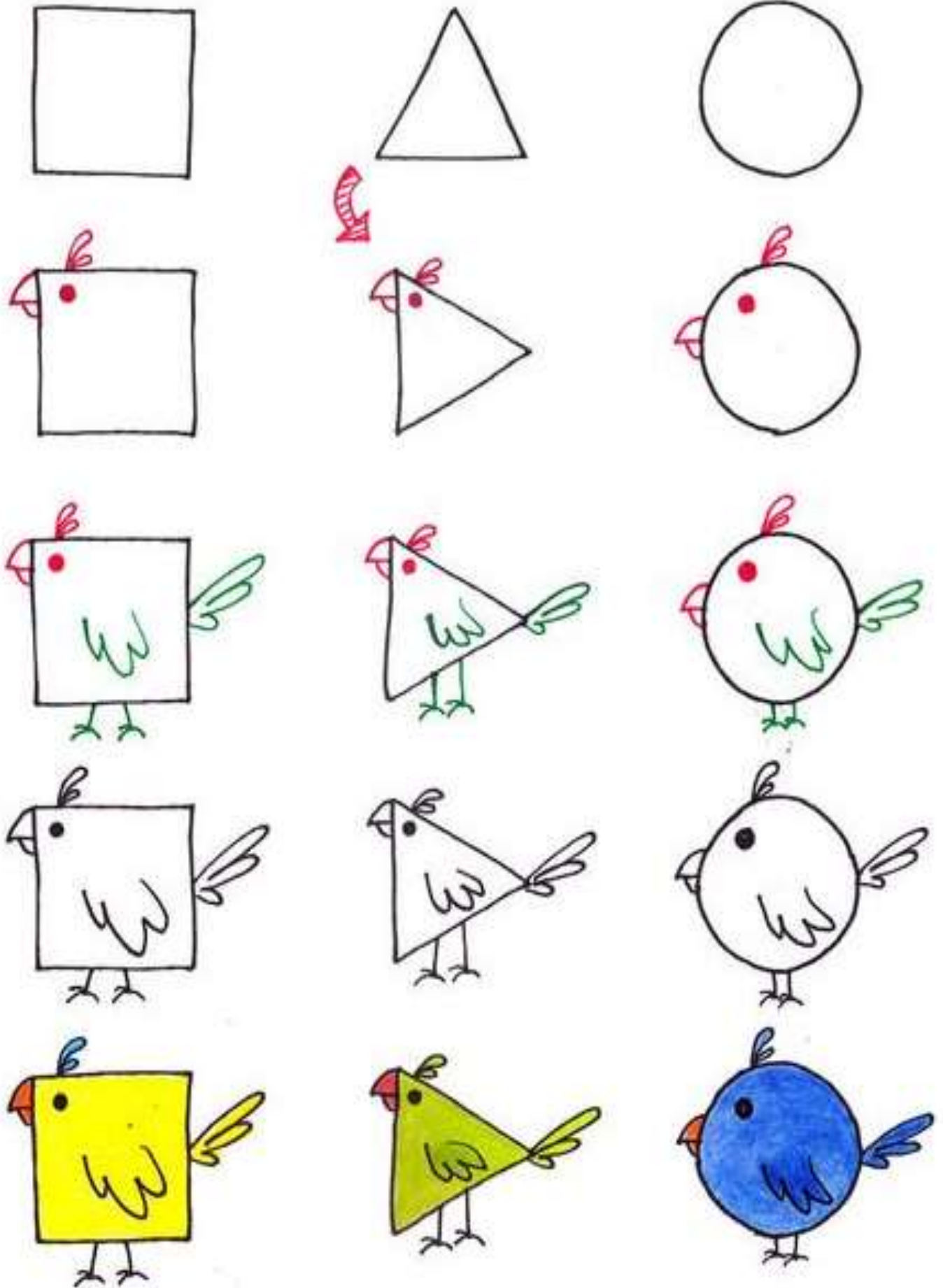
A. 64 B. 60 C. 56

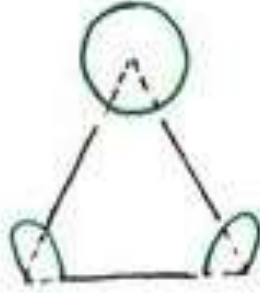
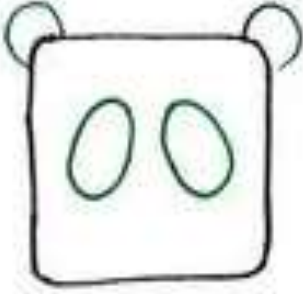
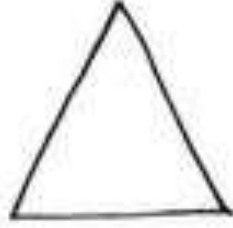

18. 18' den başlayarak ileriye doğru ikiser ritmik sayarken aşağıdaki sayılardan hangisini söyleriz?



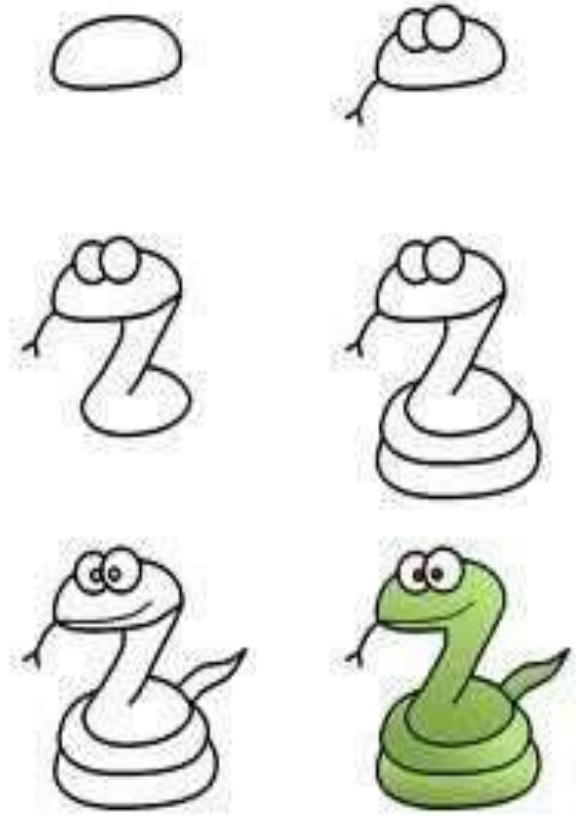
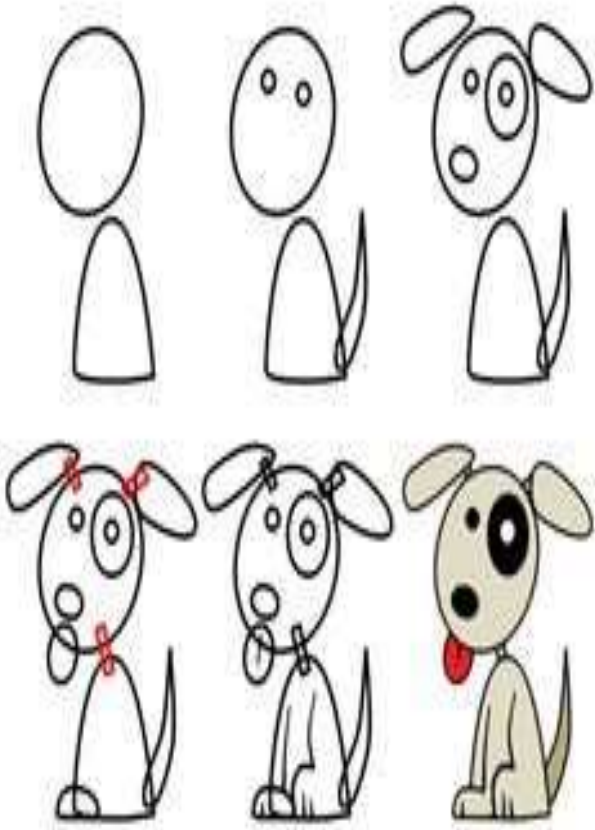
A. 31 B. 32 C. 33




ÇİZELİM







Eşleştirelim



7 farkı bulalım



Eşleştirelim



Kayıp Eşyaları Bulalım Boyayalım

