

KELEBEK



Yel estikçe uçuşan
Yapraklara benziyor.
Durmadan, yorulmadan
Daldan dala geziyor.

Kanatları ipektir
Bozulur dokununca.
Sanki canlı çiçektir
Açar bahar olunca.

Ben onu çok severim,
Koşup tutmak isterim.
Fakat kaçar yaramaz,
Uçmadan yaşayamaz.



Hasan Ali YÜCEL



A-) Aşağıda verilen soruları metne göre cevaplayınız.

- 1-) Kelebekler yel estikçe uçarak neye benziyor?
- 2-) Durmadan, yorulmadan nerede geziyor?
- 3-) Kelebeklerin kanatları neye benzetiliyor?
- 4-) Şair, kelebekleri çok sevdiği için ne yapmak istiyor?

www.mebders.com

1) Kelebeklerin kanatları ne olunca bozuluyormuş?

- A) Dokunuca
- B) Uçunca
- C) Dala konunca

B-) Doğru olanı işaretleyelim.

2) Şiire göre uçmadan kim yaşayamazmış?


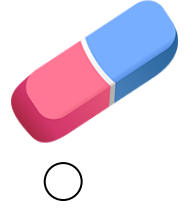
- A) Şair
- B) Kuşlar
- C) Kelebek

3) Şair bahar olunca kelebekleri neye benzetiyor?

- A) Gül
- B) Çiçek
- C) Güneş

HAYAT BİLGİSİ DERS ARAÇ GEREÇLERİMİZ

Aşağıda verilenlerden ders araç gereci olanları işaretleyiniz.



Aşağıdaki cümlelerden doğru olanların başına "D", yanlış olanların başına "Y" yazınız.

D	Y	İFADELER
		Okul çantamızı ders programına göre hazırlamalıyız.
		Resim dersinin olduğu günler okula boyalarımızı götürebiliriz.
		Okula hazırlıklı gelmek derslerdeki başarıyı artırır.
		Okul araç gereçlerimizi ailemiz hazırlamalıdır.
		Okul çantamızı gereksiz yere ağırlaştırmamalıyız.

Efe'nin pazartesi gününe ait ders programı aşağıda verilmiştir. Efe programa göre aşağıdaki araç gereçlerden hangilerini yanında bulundurması gerekir. İşaretleyiniz.

PAZARTESİ
Hayat Bilgisi
Türkçe
Türkçe
Matematik
Müzik
Beden Eğitimi ve Oyun



SÖZLÜK (ALFABETİK) SIRALAMA 2

- Aşağıdaki kelimeleri alfabe sırasına göre sıralayınız.

A B C Ç D E F G Ğ H I İ J K L M N O Ö P R S Ş T U Ü V Y Z



Yüz - Kek - Tilki

- 1-) _____
- 2-) _____
- 3-) _____



Pembe - Müge - Priz

- 1-) _____
- 2-) _____
- 3-) _____



Hoca - Kavuk - Fıkra

- 1-) _____
- 2-) _____
- 3-) _____



Remzi - Şiş - Şakir

- 1-) _____
- 2-) _____
- 3-) _____



Kırmızı - Şirin - Balık

- 1-) _____
- 2-) _____
- 3-) _____



Muz - Mandalina - Buz

- 1-) _____
- 2-) _____
- 3-) _____



Film - Ayı - Maşa

- 1-) _____
- 2-) _____
- 3-) _____



Tanju - Gofret - Tel

- 1-) _____
- 2-) _____
- 3-) _____



Masal - Hikaye - Şiir

- 1-) _____
- 2-) _____
- 3-) _____



Muz - Pil - Polis

- 1-) _____
- 2-) _____
- 3-) _____

HAYAT BİLGİSİ KARARLARA KATILIRIM

Aşağıdaki cümlelerden doğru olanların başına "D", yanlış olanların başına "Y" yazınız.

D	Y	İFADELER
		Herkesin fikrine saygı duymalıyız.
		Sınıfta etkinlik çalışmaları için iş bölümü yapmaya gerek yoktur.
		Arkadaşlarımızın farklı düşüncelerine saygı göstermeliyiz.
		Sınıfımızla ilgili konularda karar almadan önce birbirimizi dinlemeliyiz.
		Farklı görüş ve önerileri dinlemek zaman kaybıdır.
		Farklılıkları olan arkadaşlarımıza yardımcı olarak yaşamlarını kolaylaştırabiliriz.
		Sınıf başkanlarının fikirleri daha önemlidir.
		Sınıf kurallarını sadece öğretmen belirlemelidir.
		Bizi ilgilendiren konularda karar alınırken özgürce fikirlerimizi söylemeliyiz.

Sınıf içi karar alma süreçleriyle ilgili uygun nezaket ifadeleri kullanan öğrencileri işaretleyiz.



Öğretmenim, sınıf panomuzu hep birlikte düzenleyebilir miyiz?



Ben sınıf başkanı olmak istiyorum. Seçim yapmadan beni seçin öğretmenim!



Sınıf panosuna asılacak resimleri ben seçeceğim.



Sınıf kuralları ile ilgili benimde fikrim var söyleyebilir miyim?



Beden eğitimi ve oyun dersinde sadece mendil kapmaca oyunu oynamalıyız.




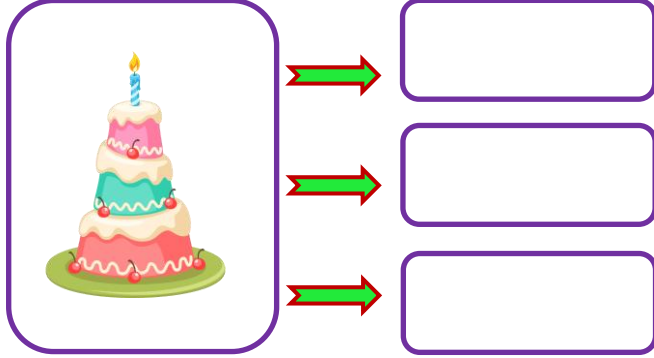
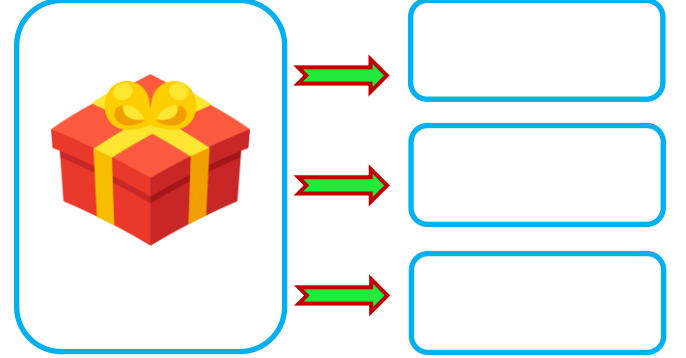
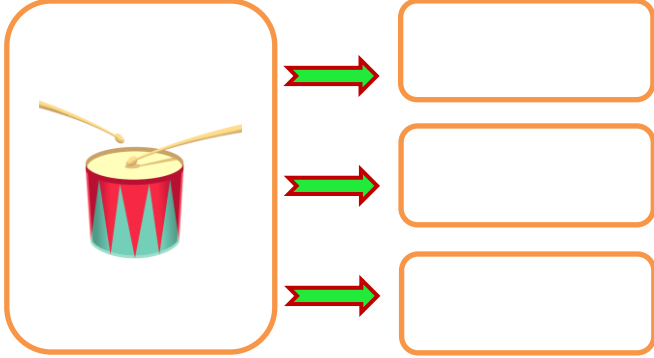
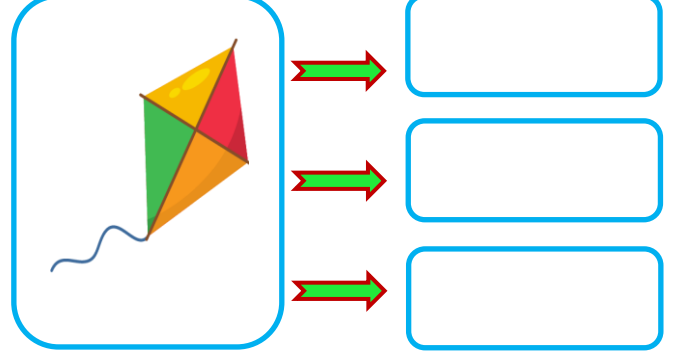
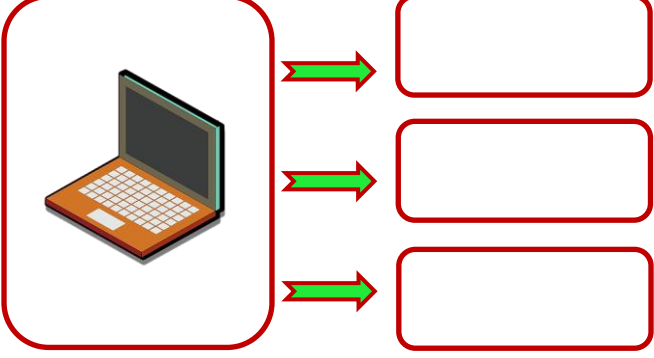


Lütfen sınıfımızı süslerken iş birliği içinde çalışalım!

Aşağıdaki kutuların içine sınıfınızla beraber belirlediğiniz üç tane sınıf kuralınızı yazınız.

KELİME BİLGİSİ

- Aşağıdaki varlıklar size ne çağırıştırıyor. Varlıklarla ilgili üç kelime yazınız.



KELİME BİLGİSİ

- Aşağıda verilen cümlelerin kaç kelimedenden oluştuklarını örnekteki gibi yanına yazınız.

Ödevlerimi bitirdim.

2

Ali ile Oya bahçede oynadılar.

Hikaye okumak çok seviyorum.

Spor yapmak çok eğlencelidir.

Sağlığımız için dengeli ve düzenli beslenmek çok önemlidir.

Kitap okumak kelime hazinemizi zenginleştirir.

Babam akşam gelecek.

Annem pazardan elma, kivi, erik ve muz almış.

Akşam erken yatar, sabah erken kalkarım.

Kim geldi?

Sonbahar, kış, ilkbahar, yaz bir yıl içindeki mevsimlerin adıdır.

İkinci sınıfta İngilizce öğrenmeye başladık.

Ne mutlu Türk'üm diyene!

Aslı ile Mine çok iyi arkadaş oldukları için güzel vakit geçiriyorlar.



- Aşağıdaki varlıkların isimlerini örnekteki gibi yazarak kelimeyi cümle içinde kullanınız.



karpuz

Karpuz ile peynir yemeyi çok seviyorum.



- Aşağıda verilen örnekteki gibi kelimelerin son harfleri ile başlayan yeni kelimeler türetiniz.

limon



nane



erik



kutu

kalem



çanta



saray







masal





- Aşağıdaki tabelalarda yazılı olan kelimelerden tek başına anlamı olmayanları boyayınız.



- Aşağıdaki cümleleri, verilen sözcüklerle tamamlayalım.

için

fakat

ile

kadar

dolayı

çünkü

- Ayten, okula servis gitti.
- Bu derse senin bende çalıştım.
- Akşama bahçede oynadık.
- Hikayemi okuyamadığım anlatamadım.
- Sinemaya gidecektik bilet kalmamış.
- Karınca çalışırsan başarılı olursun.
- Söylediği sözden ona kırıldım.
- Meyve suyu da alacaktım param kalmadı.

BASAMAK ADLARI - BASAMAK DEĞERİ

Aşağıdaki verilen sayıların basamak adlarını yazınız.

2 6

..... basamağı
..... basamağı

5 4

..... basamağı
..... basamağı

3 6

..... basamağı
..... basamağı

8 3

..... basamağı
..... basamağı

4 2

..... basamağı
..... basamağı

7 9

..... basamağı
..... basamağı

5 9

..... basamağı
..... basamağı

8 7

..... basamağı
..... basamağı

6 6

..... basamağı
..... basamağı

9 3

..... basamağı
..... basamağı

3 8

..... basamağı
..... basamağı

7 9

..... basamağı
..... basamağı

Aşağıdaki sayıların okla gösterilen basamak adlarını yazınız.

4 3

.....
..... basamağı

6 8

.....
..... basamağı

5 7

.....
..... basamağı

8 1

.....
..... basamağı

9 7

.....
..... basamağı

3 8

.....
..... basamağı

2 7

.....
..... basamağı

6 6

.....
..... basamağı

4 3

.....
..... basamağı

BASAMAK ADLARI - BASAMAK DEĞERİ

Aşağıdaki sayıların basamak adlarını ve basamak değerlerini yazınız.

3 6

Basamak Adları Basamak Değeri

.....

.....


A place value chart for the number 36. It has two columns: 'Onlar' (Tens) and 'Birler' (Ones). The digit 3 is in the 'Onlar' column and the digit 6 is in the 'Birler' column. Blue arrows point from the 3 to the 'Onlar' label and from the 6 to the 'Birler' label.

9 2

Basamak Adları Basamak Değeri

.....

.....

A place value chart for the number 92. It has two columns: 'Onlar' (Tens) and 'Birler' (Ones). The digit 9 is in the 'Onlar' column and the digit 2 is in the 'Birler' column. Blue arrows point from the 9 to the 'Onlar' label and from the 2 to the 'Birler' label.

7 4

Basamak Adları Basamak Değeri

.....

.....

A place value chart for the number 74. It has two columns: 'Onlar' (Tens) and 'Birler' (Ones). The digit 7 is in the 'Onlar' column and the digit 4 is in the 'Birler' column. Blue arrows point from the 7 to the 'Onlar' label and from the 4 to the 'Birler' label.

5 6

Basamak Adları Basamak Değeri

.....

.....

A place value chart for the number 56. It has two columns: 'Onlar' (Tens) and 'Birler' (Ones). The digit 5 is in the 'Onlar' column and the digit 6 is in the 'Birler' column. Blue arrows point from the 5 to the 'Onlar' label and from the 6 to the 'Birler' label.

3 2

Basamak Adları Basamak Değeri

.....

.....


A place value chart for the number 32. It has two columns: 'Onlar' (Tens) and 'Birler' (Ones). The digit 3 is in the 'Onlar' column and the digit 2 is in the 'Birler' column. Blue arrows point from the 3 to the 'Onlar' label and from the 2 to the 'Birler' label.

6 5

Basamak Adları Basamak Değeri

.....

.....

A place value chart for the number 65. It has two columns: 'Onlar' (Tens) and 'Birler' (Ones). The digit 6 is in the 'Onlar' column and the digit 5 is in the 'Birler' column. Blue arrows point from the 6 to the 'Onlar' label and from the 5 to the 'Birler' label.

9 9

Basamak Adları Basamak Değeri

.....

.....


A place value chart for the number 99. It has two columns: 'Onlar' (Tens) and 'Birler' (Ones). The digit 9 is in the 'Onlar' column and the digit 9 is in the 'Birler' column. Blue arrows point from the 9 to the 'Onlar' label and from the 9 to the 'Birler' label.

4 7

Basamak Adları Basamak Değeri

.....

.....

A place value chart for the number 47. It has two columns: 'Onlar' (Tens) and 'Birler' (Ones). The digit 4 is in the 'Onlar' column and the digit 7 is in the 'Birler' column. Blue arrows point from the 4 to the 'Onlar' label and from the 7 to the 'Birler' label.

8 5

Basamak Adları Basamak Değeri

.....

.....

A place value chart for the number 85. It has two columns: 'Onlar' (Tens) and 'Birler' (Ones). The digit 8 is in the 'Onlar' column and the digit 5 is in the 'Birler' column. Blue arrows point from the 8 to the 'Onlar' label and from the 5 to the 'Birler' label.

2 6

Basamak Adları Basamak Değeri

.....

.....

A place value chart for the number 26. It has two columns: 'Onlar' (Tens) and 'Birler' (Ones). The digit 2 is in the 'Onlar' column and the digit 6 is in the 'Birler' column. Blue arrows point from the 2 to the 'Onlar' label and from the 6 to the 'Birler' label.

BASAMAK ADLARI - BASAMAK DEĞERİ

Aşağıdaki sayıların basamak değerlerini yazınız.

5 3

Basamak
Değeri



2 7

Basamak
Değeri



4 9

Basamak
Değeri



7 1

Basamak
Değeri



3 6

Basamak
Değeri



8 4

Basamak
Değeri



5 3

Basamak
Değeri



6 8

Basamak
Değeri



4 6

Basamak
Değeri



9 1

Basamak
Değeri



2 5

Basamak
Değeri



7 2

Basamak
Değeri



8 6

Basamak
Değeri



4 4

Basamak
Değeri



3 7

Basamak
Değeri



BASAMAK ADLARI - BASAMAK DEĞERİ

Aşağıdaki basamak değerleri verilen sayıları noktalı yerlere yazınız.

.....

4
20

.....

6
30

.....

7
80

.....

5
70

.....

8
10

.....

1
40

.....

0
90

.....

6
50

.....

5
70

.....

9
60

.....

8
80

.....

2
30

.....

7
50

.....

0
60

.....

3
40

.....

4
90

2.SINIF MATEMATİK BASAMAK ADI - BASAMAK DEĞERİ



Arkadaşlar bu görevde bizlere yardım etmek ister misiniz?

O zaman aşağıdaki örnek tabloyu inceleyerek basamak adlarını ve basamak değerlerini yapalım.

Sayı	56	
Onluk Birlik	5 onluk	6 birlik
Basamak adları	Onlar Basamağı	Birler Basamağı
Basamak Değeri	5 onluk 50	6 birlik 6

Sayı	44	
Onluk Birlik		
Basamak adları		
Basamak Değeri		

Sayı	27	
Onluk Birlik		
Basamak adları		
Basamak Değeri		

Sayı	37	
Onluk Birlik		
Basamak adları		
Basamak Değeri		

Sayı	42	
Onluk Birlik		
Basamak adları		
Basamak Değeri		

Sayı	82	
Onluk Birlik		
Basamak adları		
Basamak Değeri		

Sayı	91	
Onluk Birlik		
Basamak adları		
Basamak Değeri		

Sayı	69	
Onluk Birlik		
Basamak adları		
Basamak Değeri		

2.SINIF MATEMATİK BASAMAK ADI - BASAMAK DEĞERİ 2



Arkadaşlar bu görevde bizlere yardım etmek ister misiniz?

O zaman aşağıdaki örnek tabloyu inceleyerek basamak adlarını ve basamak değerlerini yapalım.

Sayı	38	
Onluk Birlik	3 onluk	8 birlik
Basamak adları	Onlar Basamağı	Birler Basamağı
Basamak Değeri	3 onluk 30	8 birlik 8

Sayı	94	
Onluk Birlik		
Basamak adları		
Basamak Değeri		

Sayı	61	
Onluk Birlik		
Basamak adları		
Basamak Değeri		

Sayı	72	
Onluk Birlik		
Basamak adları		
Basamak Değeri		

Sayı	86	
Onluk Birlik		
Basamak adları		
Basamak Değeri		

Sayı	57	
Onluk Birlik		
Basamak adları		
Basamak Değeri		

Sayı	45	
Onluk Birlik		
Basamak adları		
Basamak Değeri		

Sayı	29	
Onluk Birlik		
Basamak adları		
Basamak Değeri		



PANDALAR

Pandalar nesli tükenmek üzere olan hayvanlardır. Bunun nedeni yaşam alanlarının insanlar tarafından yok edilmesidir. Pandaların en sevdiği yiyecek "bambu" denilen bitkidir.

Bir panda günün 14 saatini bambu yiyerek geçirebilir. Yeni doğan bir panda 100 gram ağırlığındadır. Bebek pandaların gözlerini açması 6 hafta sürer. Siyah beyaz renkleri ile dünyanın en sevimli hayvanlarıdır.

Not: İlk 3 soruyu metne göre cevaplayınız.

- 1) Pandaların nesli niçin tükenmek üzeredir?
 - A) Beslenmeleri için yiyecek bulamaması
 - B) Hastalıklara yakalanmaları
 - C) Yaşam alanlarının insanlar tarafından yok edilmesi
- 2) Pandaların en sevdiği yiyeceğin adı nedir?
 - A) Pambu
 - B) Bambu
 - C) Banbu

3) Bebek pandaların gözlerini açması ne kadar zaman sürmektedir?

- A) 6 hafta
- B) 6 ay
- C) 6 gün

4) Anlamını bilmediğimiz yeni öğrendiğimiz bir kelimeyi nereden öğrenebiliriz?

- A) İmla Kılavuzu
- B) Türkçe Sözlük
- C) Türkçe Kitabı

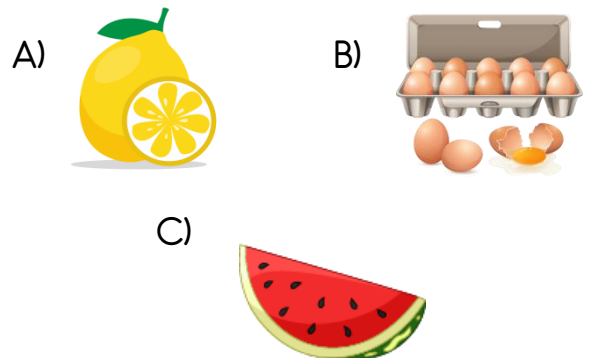


Ama kar ile sarı
çünkü kapı ve bir
dost gibi

5) Erkan yukarıda verilen tek başına anlamı olmayan sözcükleri yuvarlak içine alacaktır. Buna göre Erkan kaç kelimeyi yuvarlak içine alır?

- A) 3
- B) 4
- C) 5

6) Aşağıdaki yiyeceklerin hangisinin adı sözlük sıralamasından en sonda yer almaktadır?



7) Aşağıda verilen cümlelerin hangisinde kelime(sözlük) sayısı daha fazladır?

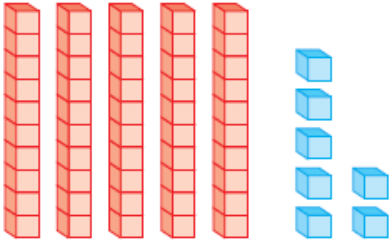
- A) Oya ile Ali çok güzel oyun oynadılar.
B) Muhammet ödevlerini zamanında yapan bir öğrencidir.
C) Hafta sonu teyzemler bize gelecekmış.



8) Yukarıda resmi verilen kelimenin doğru yazımı aşağıdakilerden hangisidir?

- A) Tiraktör
B) Tıraktör
C) Traktör

9)



Yukarıda modellenen sayının onlar basamağındaki rakamın basamak değeri kaçtır?

- A) 7
B) 50
C) 57

10)



Arının tuttuğu levhadaki sayının birler basamağındaki rakamın basamak değeri kaçtır?

- A) 3
B) 30
C) 9

11) Hangi öğrencinin 38 sayısı ile ilgili verdiği bilgi yanlıştır?

- A) İki basamaklı bir sayıdır.
B) Birler basamağının basamak değeri 8'dir.
C) Onlar basamağındaki sayının basamak değeri 38 'dir.

12)

Sayı	56	
Basamak adları	Onlar Basamağı	Birler Basamağı
Basamak Değeri	♥	😊

Yukarıdaki tabloda ♥ yerine hangi sayı yazılmalıdır ?

- A) 50
B) 6
C) 56

13)



Benim yaşım iki basamaklı en küçük doğal sayıdır.

Yukarıdaki köpek kac yaşındadır?

- A) 9
B) 10
C) 11

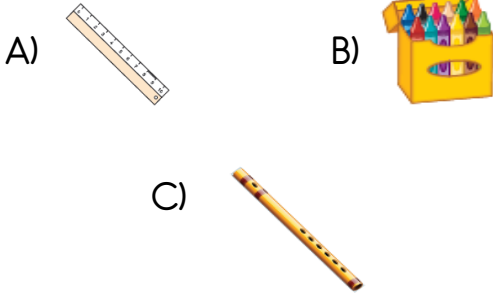
14) 12 , 53, 74 sayılarının birler basamağındaki rakamların basamak değerleri toplamı kaçtır?

- A) 13 B) 10 C) 9

15) Onlar basamağında 3, birler basamağında 6 rakamı olan sayının, onlar basamağındaki rakam 3 artarsa yeni oluşan sayı kaç olur?

- A) 66 B) 39 C) 69

16) Resim dersi için aşağıdakilerden hangisi okul çantamızda bulundurmaliyiz?



17)



Mehmet

Okul çantamı günlük ders programına göre hazırlarım.

Mehmet'in bu davranışı ile ilgili ne söylenbilir?

- A) Okula hazır gelmek ders başarısını artıracaktır.
B) Eşyalarını özenli kullanır.
C) Sınavlarda başarısı düşebilir.

Pazartesi
Hayat Bilgisi
Matematik
Matematik
Türkçe
Türkçe
Müzik

18) Yanda verilen ders programına göre çantasını hazırlayan bir öğrenci aşağıdakilerden hangisinin çantasında bulunmasına gerek yoktur?



19) Aşağıdaki ifadelerden hangisi doğrudur?

- A) Sınıfımızla ilgili kararları arkadaşlarımızla birlikte almalıyız.
B) Karar alırken sadece öğretmenimizin fikrini sormalıyız.
C) Farklı fikirleri olan arkadaşlarımıza saygı göstermemeliyiz.

Sınıf kuralları tüm öğrencilerin katılımıyla alınmalıdır. Bunun için herkes düşüncesini ve önerisini söylemelidir. Tartışmalara katılmalıdır.

20) Öğrenciler bu tartışmalarda aşağıdakilerden hangisini yapmamalıdır?

- A) Birbirlerine karşı kibar bir dil kullanmalıdırlar.
B) Karşıt düşüncelere saygı göstermelidirler.
C) Farklı görüş ve önerilerle alay etmelidirler.

Cevap Anahtarı

1)C 2)B 3)A 4)B 5)C
6)B 7)A 8)C 9)B 10)C
11)C 12)A 13)B 14)C 15)A
16)B 17)A 18)C 19)A 20)C