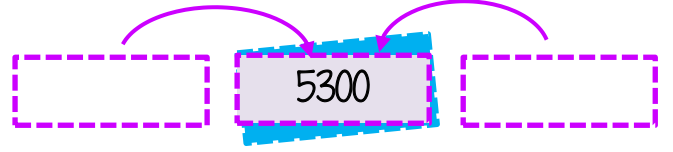
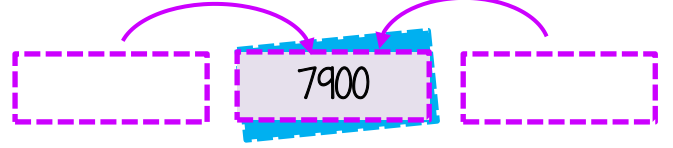


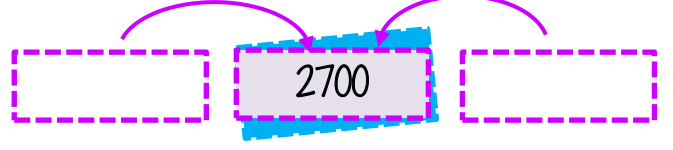
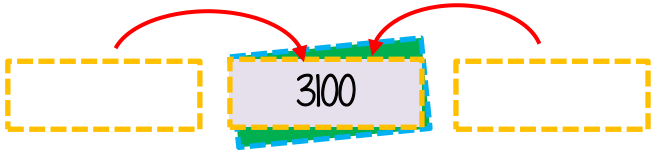
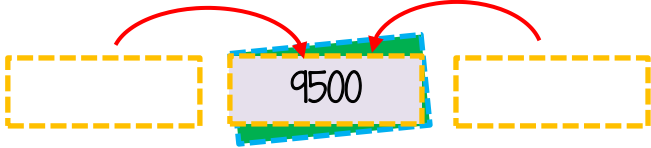
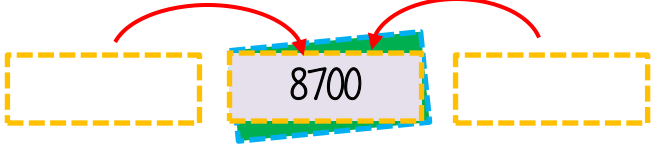
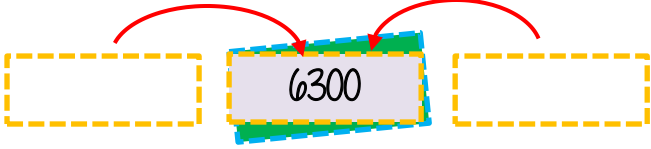
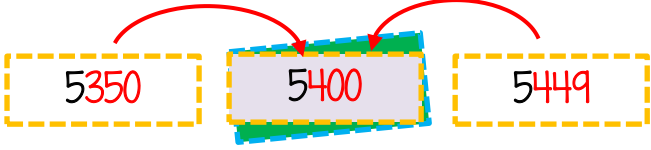


Adı :
Soyadı:

4. Sınıf
Matematik

Doğal Sayılar
Yuvarlama-4

Verilen **yüzlüğe** yuvarlanabilen en büyük ve en küçük sayıyı yazalım.



Verilen sayıları en yakın onluğa ve en yakın yüzlüğe yuvarlayınız.

En Yakın Onluk	Sayı	En Yakın Yüzlük
7220	7218	7200
	4286	
	3693	
	4787	
	2342	
	6125	
	9873	
	1374	

En Yakın Onluk	Sayı	En Yakın Yüzlük
5678	5683	5674
	3459	
	4285	
	9942	
	8124	
	1043	
	2075	
	3067	

Adı :
Soyadı:

4. Sınıf
Matematik

Doğal Sayılar
Yuvarlama-4

Aşağıdaki dağların yüksekliklerini en yakın onluğa ve yüzlüğe yuvarlayınız.



Ağrı Dağı

5137 metre



Erciyes Dağı

3917 metre



Kaçkar Dağı

3938 metre

Aşağıdaki şehirlerin nüfuslarını yaklaşık (en yakın yüzlüğe) olarak yazınız.

Otlukbeli

Nüfus: 2576

Akören

Nüfus: 8752

Ağlasun

Nüfus: 9809



Antalya Arena Stadyumunda Galatasaray ile Antalyaspor arasında yapılan maçı binlerce kişi seyretmiştir.

Galatasaray taraftarı olan Hasan seyirci sayısını en yakın yüzlüğe yuvarlayınca 7900 buldu

Antalyaspor taraftarı olan Melih de seyirci sayısını en yakın onluğa yuvarlayınca 7870 buldu.

İki taraftarın tahminlerine göre maçı seyreden seyirci sayısı kaçtır?

A) 7883

B) 7895

C) 7874

D) 7905