



Adı Soyadı : .....

Numarası : .....

Konu: Basamak Değerini Bulalım

Aşağıda verilen sayıların basamak adlarını ve basamak değerlerini örnekteki gibi yazalım.

Sayı	36	
Basamak Adı	Onlar Basamağı	Birler Basamağı
Basamak Değeri	30	6
Okunuşu	Otuz altı	

Sayı	52	
Basamak Adı	..... Basamağı	..... Basamağı
Basamak Değeri	.....	.....
Okunuşu	.....	

Sayı	27	
Basamak Adı	..... Basamağı	..... Basamağı
Basamak Değeri	.....	.....
Okunuşu	.....	

Sayı	63	
Basamak Adı	..... Basamağı	..... Basamağı
Basamak Değeri	.....	.....
Okunuşu	.....	

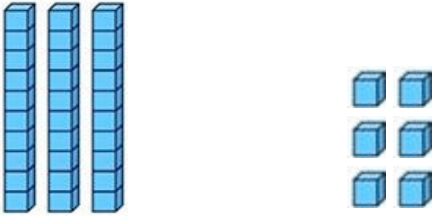
Sayı	74	
Basamak Adı	..... Basamağı	..... Basamağı
Basamak Değeri	.....	.....
Okunuşu	.....	

Sayı	80	
Basamak Adı	..... Basamağı	..... Basamağı
Basamak Değeri	.....	.....
Okunuşu	.....	

Sayı	13	
Basamak Adı	..... Basamağı	..... Basamağı
Basamak Değeri	.....	.....
Okunuşu	.....	

Sayı	35	
Basamak Adı	..... Basamağı	..... Basamağı
Basamak Değeri	.....	.....
Okunuşu	.....	

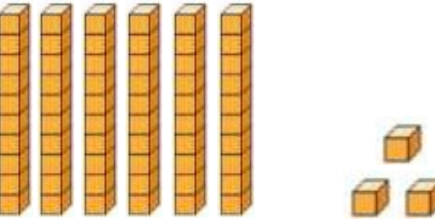
Aşağıdaki onluk taban blokları ile gösterilen sayıları ve basamaklarındaki sayıları yazalım.



Sayı: .....

Birler basamağı: .....

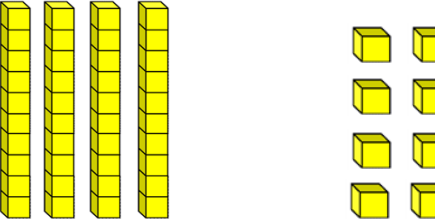
Onlar basamağı: .....



Sayı: .....

Birler basamağı: .....


Onlar basamağı: .....



Sayı: .....

Birler basamağı: .....

Onlar basamağı: .....



Sayı: .....

Birler basamağı: .....

Onlar basamağı: .....

Aşağıdaki sayıların basamak değerlerini örnekteki gibiyazınız.

Basamak Değeri

**2 6**

6

20

Basamak Değeri

**5 2**

.....

.....

Basamak Değeri

**3 8**

.....

.....

Basamak Değeri

**1 4**

.....

.....

Basamak Değeri

**5 5**

.....

.....

Basamak Değeri

**6 1**

.....

.....

Basamak Değeri

**4 9**

.....

.....

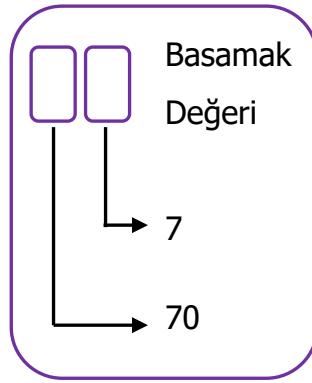
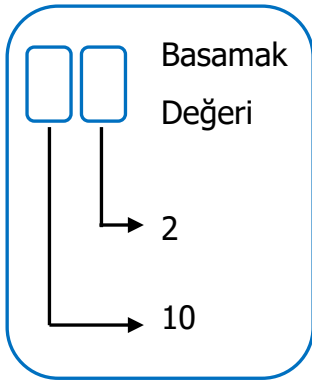
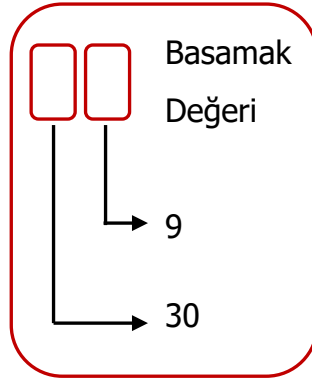
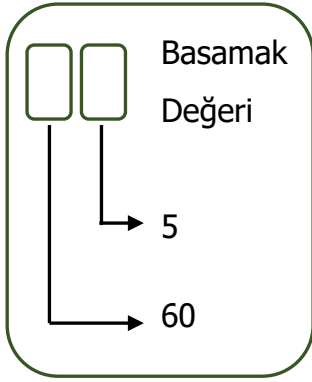
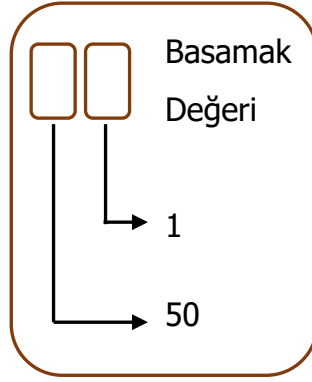
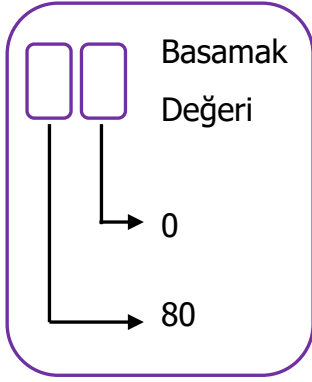
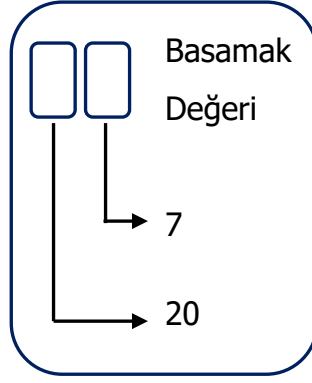
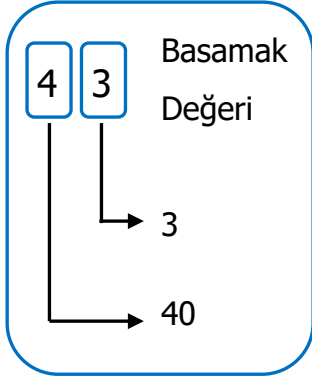
Basamak Değeri

**8 0**

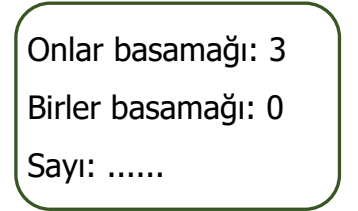
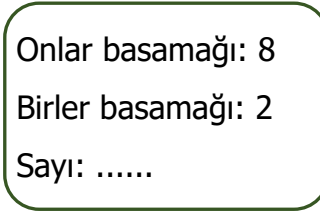
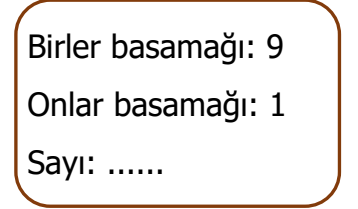
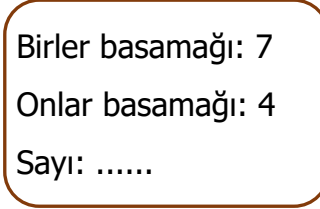
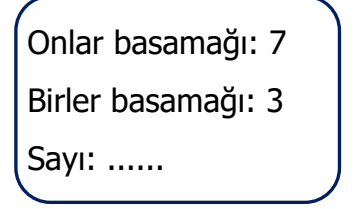
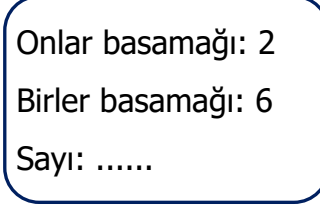
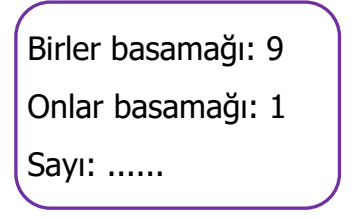
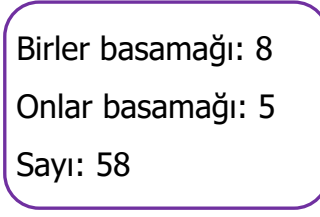
.....

.....

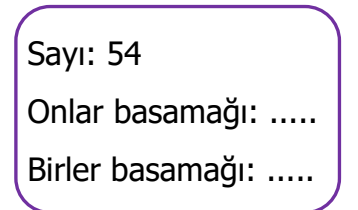
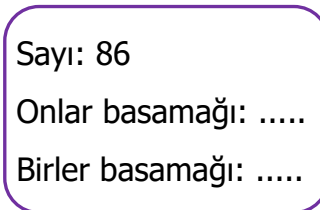
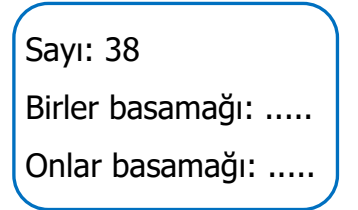
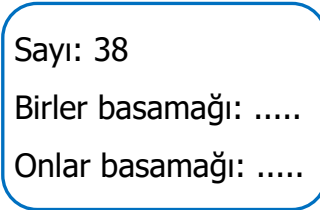
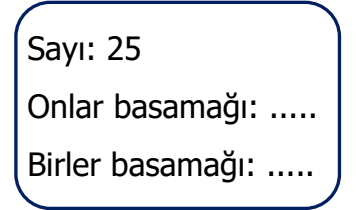
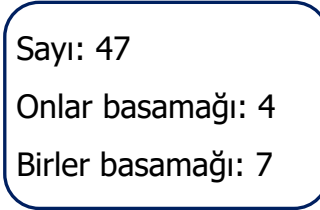
Aşağıda basamak değerleri verilen sayıları örnekteki gibi yazalım.



Aşağıda basamaklarındaki rakamları verilmiş sayıları örnekteki gibi yazalım.



Aşağıdaki sayıların basamaklarındaki rakamları örnekteki gibi noktalı yerlere yazalım



Aşağıdaki tablolarda noktalı yerleri uygun ifadelerle tamamlayalım.

Sayı	Basamak adı	Basamak Değeri
<b>3 8</b> 	Birler basamağı	8
	<b>Onlar</b> basamağı	30

Sayı	Basamak adı	Basamak Değeri
<b>... 2</b> 	..... basamağı	.....
	Onlar basamağı	50

Sayı	Basamak adı	Basamak Değeri
<b>4 ...</b> 	Birler basamağı	3
	..... basamağı	.....

Sayı	Basamak adı	Basamak Değeri
<b>... ...</b> 	Birler basamağı	5
	Onlar basamağı	10

Sayı	Basamak adı	Basamak Değeri
<b>... 0</b> 	..... basamağı	0
	..... basamağı	70

Sayı	Basamak adı	Basamak Değeri
<b>6 ...</b> 	Birler basamağı	3
	..... basamağı	.....

Sayı	Basamak adı	Basamak Değeri
<b>... ...</b> 	..... basamağı	8
	Onlar basamağı	80

Sayı	Basamak adı	Basamak Değeri
<b>2 6</b> 	..... basamağı	.....
	..... basamağı	.....