

Adı :
Soyadı:

4. Sınıf Matematik

Doğal Sayılar
Yaprak Test-2

3, 5, 0, 9, 2, 1

1) Yukarıda verilen rakamları hepsi kullanılarak yazılabilecek en büyük sayının on binler basamağında hangi rakam vardır?

- A) 9 B) 5 C) 3 D) 1

101110

11001

100101

101010

2) Yukarıda verilen sayılarının büyükten küçüğe doğru sıralanışı aşağıdakilerden hangisinde doğru verilmiştir?

- A) 101110 > 101010 > 11001 > 100010
B) 101010 > 101110 > 101010 > 11001
C) 101010 > 11001 > 101110 > 101010
D) 101110 > 101010 > 101010 > 11001

3) " 7689 " sayısının en yakın yüzlüğe yuvarlanmış hali aşağıdakilerden hangisidir?

- A) 7700 B) 7600
C) 7500 D) 7800

4) Aşağıdaki sayılar kendilerine en yakın yüzlüğe yuvarlanmıştır. Bu bilgiye göre hangi seçenekte **hata** yapılmıştır?

- A) 2550 → 2600 B) 3460 → 3500
C) 7849 → 7900 D) 5430 → 5400


3 4 7 9 0 1

5) Yukarıdaki rakamların hepsini bir kere kullanmak şartıyla oluşturulabilecek sayılar için aşağıdaki bilgilerden hangisi doğrudur?

- A) En küçük 6 basamaklı doğal sayı 107934'dür.
B) En büyük 6 basamaklı tek doğal sayı 974301'dir.
C) En küçük 6 basamaklı çift doğal sayı 103479'dur.
D) En küçük 6 basamaklı doğal sayı 103497'dir.

6) 342A sayısını en yakın onluğa yuvarladığımızda 3430 sayısını elde ediyorsak A harfinin yerine yazılabilecek rakamların toplamı kaçtır?

- A) 35 B) 45 C) 55 D) 29



7) Yukarıdaki şirinlerin düşündüğü sayıların küçükten büyüğe doğru sıralanışı hangi seçenekte doğru verilmiştir?

- A) 329721 < 32179 < 32176 < 32196
B) 32196 < 37176 < 32179 < 329721
C) 32176 < 32179 < 32196 < 329721
D) 32176 < 32179 < 329721 < 32196

Adı :
Soyadı:

4. Sınıf Matematik

Doğal Sayılar
Yaprak Test-2

8) Aşağıdaki sayılardan hangisi 42398 ile 49136 arasında değildir?

- A) 43012 B) 45936
C) 49216 D) 42399

- 402584 > 402483
- 76601 < 76600
- 512705 > 512750
- 49924 < 499274

9) Yukarıdaki karşılaştırmalardan kaç tanesi doğrudur?

- A) 1 B) 2 C) 3 D) 4

$$34530 < \dots < 54280$$

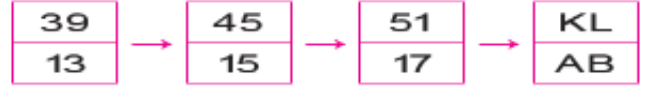
10) Yukarıdaki eşitsizliğin doğru olması için noktalı yere aşağıdaki sayılardan hangisi yazılmalıdır?

- A) 35290 B) 60250
C) 54380 D) 34520

$$18 - 24 - 30 - 36 - \dots - \dots - ?$$

11) Yukarıdaki örüntüde ? ile gösterilen yere aşağıdakilerden hangisi getirilebilir?

- A) 56 B) 52 C) 55 D) 54



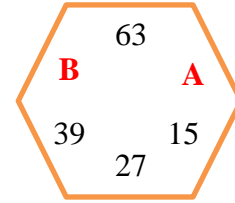
12) Yukarıdaki örüntüye göre "KL+AB" işleminin sonucu kaçtır?

- A) 68 B) 76 C) 72 D) 70

35 48 62 74 87 100

13) Yukarıdaki sayı örüntüsünde kuralı bozan sayı aşağıdakilerden hangisidir?

- A) 62 B) 87 C) 74 D) 48



14) Yukarıdaki sayı örüntüsüne göre A+B işleminin sonucu kaçtır?

- A) 112 B) 134 C) 145 D) 126

15) Aşağıdaki örüntülerden hangisinin kuralı diğerlerinden farklıdır?

- A) 92, 98, 104, 110, 116
B) 8, 15, 22, 29, 36
C) 19, 25, 31, 37, 43
D) 36, 42, 48, 54, 60

Adı :
Soyadı:

4. Sınıf
Matematik

Doğal Sayılar
Yaprak Test-2

Doğru :

Yanlış:.....

- 1 A B C D
2 A B C D
3 A B C D
4 A B C D
5 A B C D

- 6 A B C D
7 A B C D
8 A B C D
9 A B C D
10 A B C D

- 11 A B C D
12 A B C D
13 A B C D
14 A B C D
15 A B C D

- 16 A B C D
17 A B C D
18 A B C D
19 A B C D
2 A B C D

Doğru :

Yanlış:.....

- 1 A B C D
2 A B C D
3 A B C D
4 A B C D
5 A B C D

- 6 A B C D
7 A B C D
8 A B C D
9 A B C D
10 A B C D

- 11 A B C D
12 A B C D
13 A B C D
14 A B C D
15 A B C D

- 16 A B C D
17 A B C D
18 A B C D
19 A B C D
2 A B C D