

Adı :
Soyadı:

4. Sınıf
Matematik

Doğal Sayılar
Yaprak Test-4

100520

10520

150520

10250

105205

101052

1) Yukarıda verilen sayıları küçükten büyüğe sıraladığımızda baştan 4. sayı hangisidir?

- A) 10250 B) 100520
C) 10520 D) 101052

6-0-2-5-7-1

2) Yukarıdaki rakamları kullanarak yazılabilecek beş basamaklı en küçük tek sayı hangisidir?

- A) 01267 B) 20561
C) 12567 D) 10257

19

25

31

A

43

49

38

45

52

59

B

73

85

79

C

67

61

55

Yukarıda birbirinden farklı kuralı olan üç örüntü verilmiştir.

3) Örüntülerde verilen A,B,C harflerine karşılık gelen sayılar için hangi bilgi **yanlıştır**?

- A) A tek sayıdır.
B) B çift sayıdır.
C) C sayısının rakamları aynıdır.
D) Hepsi iki basamaklı sayılardır.

$$343 < A < 498$$

4) Yukarıda verilen eşitsizlikte A yerine yazılabilecek en büyük ve en küçük sayının toplamı kaçtır?

- A) 841 B) 842 C) 843 D) 844

$$343 \dots 245 \dots 498 \dots 125 \dots 118$$

5) Yukarıdaki eşitsizlikte sayılar arasına sırası ile hangi işaretler konulmalıdır?

- A) < > < < B) > < > >
C) > < > < D) < < > <

504808

6) Verilen sayının tekrar eden rakamların basamak ve sayı değerleri toplamı kaç eder?

- A) 8008 B) 88 C) 808 D) 8



579206

7) Yukarıdaki sayının binler bölümü en yakın yüzlüğe, birler bölümü de en yakın onluğa yuvarlanıyor. Bulunan en yakın onluk ve yüzlüğün toplamı kaçtır?

- A) 810 B) 820 C) 710 D) 720

Adı :
Soyadı:

4. Sınıf
Matematik

Doğal Sayılar
Yaprak Test-4

$$(4 \times 100000) + (4 \times 1000) + (4 \times 10)$$

8) Yukarıda verilen sayının rakamla yazılışı aşağıdakilerden hangisidir?

- A) 404400 B) 404400
C) 400400 D) 404040





Örüntü Kuralı: 6 artar, 2 azalır.

9) Yukarıdaki örüntü 42'den başladığına göre (1. terim = 42) 8. terimi hangisidir?

- A) 58 B) 60 C) 62 D) 64

4896 5044 5059 4822

10) Yukarıda verilen sayılardan hangilerinin en yakın yüzlükleri aynıdır?

- A)  B) 
C)  D) 

Birler Bölüğü: 49
Binler Bölüğü: 57

11) Yukarıda verilen bilgilere göre sayı aşağıdakilerden hangisidir?

- A) 4957 B) 5749
C) 57049 D) 49057

$$K < 421 < M$$

K= En büyük sayı
M= En küçük sayı

12) Yukarıdaki bilgilere göre K+M işleminin sonucu kaçtır?

- A) 843 B) 840 C) 841 D) 842

$$5A215 < 51215$$

$$48120 > 48B20$$

13) Yukarıda verilen iki eşitsizliği sağlayabilmek için A ve B yerine yazılabilecek sayıların toplamı kaçtır?

- A) 0 B) 9 C) 10 D) 1

6 0 3 8 2

14) Yukarıdaki rakamları bir kere kullanmak şartıyla yazılabilecek 6000'den küçük beş basamaklı en büyük çift sayı hangisidir?

- A) 28603 B) 38620
C) 32608 D) 36208

Adı :
Soyadı:

4. Sınıf
Matematik

Doğal Sayılar
Yaprak Test-4

Doğru :

Yanlış:.....

- 1 A B C D
2 A B C D
3 A B C D
4 A B C D
5 A B C D

- 6 A B C D
7 A B C D
8 A B C D
9 A B C D
10 A B C D

- 11 A B C D
12 A B C D
13 A B C D
14 A B C D
15 A B C D

- 16 A B C D
17 A B C D
18 A B C D
19 A B C D
2 A B C D

Doğru :

Yanlış:.....

- 1 A B C D
2 A B C D
3 A B C D
4 A B C D
5 A B C D

- 6 A B C D
7 A B C D
8 A B C D
9 A B C D
10 A B C D

- 11 A B C D
12 A B C D
13 A B C D
14 A B C D
15 A B C D

- 16 A B C D
17 A B C D
18 A B C D
19 A B C D
2 A B C D