



SAYI ÖRÜNTÜLERİ 1




Aşağıdaki örüntülerin kuralını belirleyerek, örüntünün kuralına göre eksik kalan yerleri tamamlayınız.



Örüntünün kuralı:



Örüntünün kuralı:



Örüntünün kuralı:



Örüntünün kuralı:



Örüntünün kuralı:




SAYI ÖRÜNTÜLERİ 2




Aşağıdaki örüntülerin kuralını belirleyerek, örüntünün kuralına göre eksik kalan yerleri tamamlayınız.




Örüntünün kuralı:



Örüntünün kuralı:



Örüntünün kuralı:



Örüntünün kuralı:



Örüntünün kuralı: