





















DOĞAL SAYILARDA KARŞILAŞTIRMA VE SIRALAMA

Aşağıdaki verilen doğal sayılardan örnekteki gibi **büyük** olanı işaretleyiniz.

 34 - 18	 27 - 48	 98 - 26	 39 - 60	 52 - 71
 45 - 40	 35 - 60	 51 - 76	 88 - 89	 65 - 61

Aşağıdaki verilen doğal sayılardan örnekteki gibi **küçük** olanı işaretleyiniz.

 47 - 36	 57 - 98	 19 - 32	 64 - 87	 99 - 84
 69 - 47	 28 - 21	 87 - 89	 52 - 48	 64 - 98

Aşağıda verilen doğal sayılardan bir önce ve bir sonra gelen sayıları yazınız.

<input type="text"/> 42 <input type="text"/>	<input type="text"/> 34 <input type="text"/>	<input type="text"/> 23 <input type="text"/>	<input type="text"/> 57 <input type="text"/>
<input type="text"/> 62 <input type="text"/>	<input type="text"/> 70 <input type="text"/>	<input type="text"/> 85 <input type="text"/>	<input type="text"/> 91 <input type="text"/>
<input type="text"/> 17 <input type="text"/>	<input type="text"/> 54 <input type="text"/>	<input type="text"/> 71 <input type="text"/>	<input type="text"/> 88 <input type="text"/>
<input type="text"/> 20 <input type="text"/>	<input type="text"/> 51 <input type="text"/>	<input type="text"/> 60 <input type="text"/>	<input type="text"/> 91 <input type="text"/>
<input type="text"/> 89 <input type="text"/>	<input type="text"/> 90 <input type="text"/>	<input type="text"/> 44 <input type="text"/>	<input type="text"/> 27 <input type="text"/>

DOĞAL SAYILARDA KARŞILAŞTIRMA VE SIRALAMA

Aşağıdaki verilen sayıların arasındaki sayıları yazınız.

19 21

39 41

48 50

82 84

27 29

59 61

94 96

78 80

7 9

43 45

66 68

90 92

Aşağıdaki verilen sayıları karşılaştırınız, "büyüktür, küçüktür, eşittir" ifadelerinden uygun olanını yazınız.

24 **küçüktür** 32'den

53 41 'den

78 25'ten

62 83 'ten

55 55'e

98 27 'den

34 30'dan

70 90 'dan

51 48'den

47 47 'ye

44 43'ten

99 88 'den

69 78'den

27 19 'dan

56 36'dan

72 72 'ye

DOĞAL SAYILARDA KARŞILAŞTIRMA VE SIRALAMA

Aşağıdaki verilen doğal sayıları küçükten büyüğe doğru aralarına çizgi atarak sıralayınız.

56 - 24 - 88 - 15



46 - 17 - 88 - 62



90 - 40 - 60 - 30



27 - 55 - 18 - 71



68 - 45 - 99 - 61



39 - 84 - 41 - 35



99 - 24 - 77 - 55



51 - 87 - 82 - 56



Aşağıdaki verilen doğal sayıları büyükten küçüğe doğru aralarına çizgi atarak sıralayınız.

79 - 51 - 43 - 82



15 - 78 - 43 - 58



70 - 30 - 90 - 60



77 - 88 - 63 - 71



46 - 85 - 99 - 47



21 - 56 - 17 - 29



66 - 24 - 69 - 34



52 - 97 - 77 - 39



DOĞAL SAYILARDA KARŞILAŞTIRMA VE SIRALAMA

Aşağıdaki sayılar arasına gelebilecek iki sayı yazınız.

16			24
57			65
78			84
48			53

34			40
48			56
89			94
62			69

Levhelerdeki rakamları birer kez kullanarak iki basamaklı doğal sayılar yazalım.
Yazdığımız sayıları büyükten küçüğe doğru sıralayalım.

		
--	---	---



Sayılar :

<input type="text"/>	<input type="text"/>	<input type="text"/>	<input type="text"/>
----------------------	----------------------	----------------------	----------------------

Sıralama:

<input type="text"/>	<input type="text"/>	<input type="text"/>	<input type="text"/>
----------------------	----------------------	----------------------	----------------------

		
--	---	---



Sayılar:

<input type="text"/>	<input type="text"/>	<input type="text"/>	<input type="text"/>
----------------------	----------------------	----------------------	----------------------

Sıralama:

<input type="text"/>	<input type="text"/>	<input type="text"/>	<input type="text"/>
----------------------	----------------------	----------------------	----------------------

		
--	---	---



Sayılar:

<input type="text"/>	<input type="text"/>	<input type="text"/>	<input type="text"/>
----------------------	----------------------	----------------------	----------------------

Sıralama:

<input type="text"/>	<input type="text"/>	<input type="text"/>	<input type="text"/>
----------------------	----------------------	----------------------	----------------------