

Adı :
Soyadı:

4. Sınıf
Fen Bilimleri

Dünyamız
Yaprak Test-1

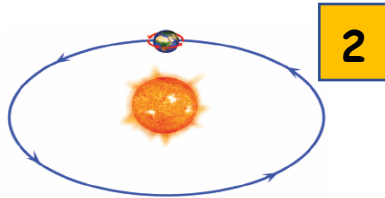


1- Yukarıda verilen iki fosil için hangi bilgiye kesinlikle ulaşamayız?

- A) İki fosilin de kan, deri, tüy gibi yumuşak kısımları yok olmuştur.
B) Sağdaki fosilin yaşı soldaki fosilden daha fazladır.
C) İki fosil de hava ile temas etmediği kemiksi kısımları korunarak fosil haline gelmiştir.
D) Soldaki bir kara hayvanı, sağdaki bir deniz hayvanına aittir.

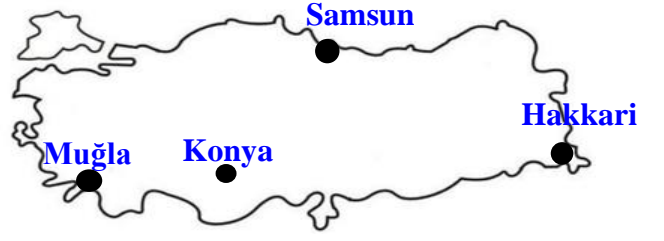
2- Aşağıdakilerden hangisinin hammaddesi bir maden değildir?

- A) Cam
B) Çivi
C) Defter
D) Silgi



3- Yukarıda Dünya'nın hareketleri verilmiştir. Buna göre hangi bilgi doğrudur?

- A) 1-Mevsimler meydana gelir.
B) 2-Gece ve gündüz meydana gelir.
C) 2-Dolanma hareketidir.
D) 1-Tam bir tur hareketini 365 günde yapar.



4- Mehmet Hakkari'de yaşamaktadır. Sabah kalktığına güneşin henüz doğmakta olduğunu görüyor. O sırada ülkemiz için hangi bilgiye ulaşabiliriz.

- A) Muğla'da daha güneş doğmamıştır.
B) Konya'da Akşam olmak üzeredir.
C) Samsun'da öğle vakti yaşanmaktadır.
D) Hakkari'de yaz mevsimi yaşanmaktadır.

Ekonomik değeri olan kayalara maden denir. Bir kayaç ne kadar çok bulunursa değeri azdır. Ne kadar az bulunursa o kadar değerlidir.

5- Yukarıdaki paragrafa göre hangisi seçenek doğrudur?

	Daha değerli	Daha değersiz
A)	Toprak	Kömür
B)	Elmas	Bakır
C)	Demir	Elmas
D)	Bakır	Altın

6- Aşağıda verilenlerden hangisinin eşleştirilmesi yanlış yapılmıştır?

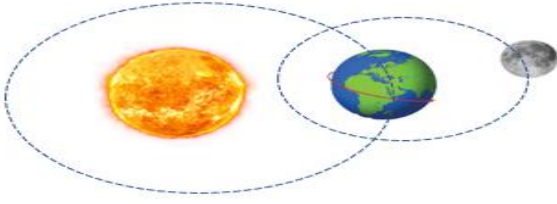
- A) Hava tabakası ↔ Atmosfer
B) Manto ↔ Ateş küre
C) Yer kabuğu ↔ Yeryüzü
D) Çekirdek ↔ Ağır küre

Adı :

Soyadı:

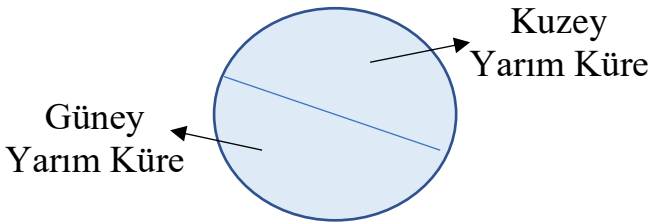
4. Sınıf
Fen Bilimleri

Dünyamız
Yaprak Test-1



7- Yukarıda verilen model için aşağıdakilerden hangisi söylenemez?

- A) Ay, Dünya'nın etrafında dolanmaktadır.
- B) Dünya kendi etrafında dönmektedir.
- C) Dünya, Güneş'in etrafında dolanmaktadır.
- D) Güneş, Dünyanın etrafında dolanmaktadır.



8- Türkiye Kuzey yarım kürede yer almaktadır. Takvim 21 Aralık tarihini gösterdiğine göre aşağıdakilerden hangisi yaşanır?

- A) En uzun gece yaşanmaktadır.
- B) Gece gündüz süresi eşittir.
- C) En uzun gündüz yaşanmaktadır.
- D) En kısa gece yaşanmaktadır.

9- Aşağıdakilerden hangisi kayaçların parçalanmasına neden olan doğal etkenlerden biri değildir?

- A) Rüzgâr kuvveti
- B) Teknolojik araçlar
- C) İklim
- D) Su

- I. Canlının kan ve yumuşak organları çürümeye başlar.
- II. Kayaçların kazılması ya da aşınması sonucu fosilleşmiş kemikler ortaya çıkar.
- III. Canlı ölünce üzeri toprak, çakıl ve kum ile kaplanır.
- IV. Sıkışma ve sertleşme sonucunda canlının kemikleri havasız ortamda katılaşır taşlaşır.

10- Yukarıda bir fosilin oluşum süreci karışık olarak verilmiştir. Oluş sırası hangisinde doğru verilmiştir?

- A) III - I - II - IV
- B) I - III - IV - II
- C) I - II - IV - III
- D) III - I - IV - II

Yönler Güneş'in konumuna göre belirlenir. Güneş'in doğduğu yöne doğu, battığı yöne batı deriz.

11- Dünya'nın kendi etrafında dönüş yönü doğudan batıya olsaydı aşağıdakilerden hangisi doğru olur?

- A) Güneş doğudan batır.
- B) Güneş güneyden doğar.
- C) Güneş doğudan doğar.
- D) Güneş kuzeyden batır.

12- Bor madeni ülkemizde Bursa, Kütahya, Eskişehir, Balıkesir ilçelerinde çıkarılmaktadır. Bu şehirlerde hangi ürünlerin daha çok üretilebilir?

- A) Cam, kablo, ziynet eşyası
- B) Deterjan, plastik, inşaat malzemesi
- C) Cam, seramik, deterjan
- D) Kağıt, seramik, kömür

Adı :

Soyadı:

4. Sınıf
Fen Bilimleri

Dünyamız
Yaprak Test-1

Doğru :

Yanlış:.....

- 1 A B C D
2 A B C D
3 A B C D
4 A B C D
5 A B C D

- 6 A B C D
7 A B C D
8 A B C D
9 A B C D
10 A B C D

- 11 A B C D
12 A B C D
13 A B C D
14 A B C D
15 A B C D

- 16 A B C D
17 A B C D
18 A B C D
19 A B C D
2 A B C D