

Adı : .....  
Soyadı : .....

4. Sınıf  
Fen Bilimleri

Dünyamız  
Yaprak Test-2

1-Çakıl

2-Taş

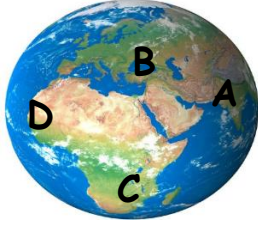
3-Toprak

4-Kum

5-Kaya

1- Kayaçlar dış etkenlerle parçalanır. Kayaç türlerinin büyükten küçüğe doğru sıralanışı hangisinde doğru verilmiştir?

- A) 5-3-2-1-4      B) 4-3-2-5-1  
C) 4-5-2-1-3      D) 5-2-1-4-3



2- Yukarıda verilen Dünya modelinde A noktasında saat 06.50'dir. Yaz mevsimi yaşanmaktadır. Bu modele göre aşağıdaki bilgilerden hangisine kesinlikle ulaşamaz?

- A) A noktasında sabah güneşi doğmak üzeredir.  
B) C noktasında kış mevsimi yaşanmaktadır.  
C) B noktasında öğlen vaktidir.  
D) D noktasında gece yarısıdır.

Mineraller bir madenin birçok özelliğini belirler. Bunlar;

- 1-Seklini      2-Sertliğini  
3-Rengini      4-Değerini

3- Yukarıda verilen paragrafta yanlışlık yapılmıştır. Hangisi silinirse paragraftaki bilgi doğru olur?

- A) Sadece 4      B) 1 ve 4  
C) Sadece 2      D) 1 ve 3

Yer kabuğu,

- 1-Kayaçlardan ve topraklardan oluşur.  
2-Dünya'nın en sıcak tabakasıdır.  
3-Denizlerin altında da devam eder.  
4-İçinde madenler bulunur.  
5-Ağaçların yaşaması için gereklidir.

4- Yukarıda yer kabuğu hakkında verilen bilgilerden kaç tanesi doğrudur?

- A) 2      B) 3      C) 4      D) 5

Fosiller ölmüş canlıların bozulmamış kemik ve kalıntılarıdır. Fosillere yer kabuğunun her yerinde rastlayabiliriz.

5- Yukarıdaki paragrafa göre hangisinde fosile rast gelmek imkansızdır?

- A) Bir dağın buzulun içinde  
B) Bir volkanın (yanardağ) içinde  
C) Bir denizin dibinde yer kabuğunda  
D) Bir ormanda toprağın altında

30 gün

1 hafta

365 gün

12 ay

4 mevsim

1 ay

6- Yukarıdaki verilen zaman birimleri birbiriyle eşleştirilince hangisi dışarıda kalır?

- A) 30 gün      B) 4 mevsim  
C) 365 gün      D) 1 hafta

Adı : .....  
Soyadı : .....

4. Sınıf  
Fen Bilimleri

Dünyamız  
Yaprak Test-2

23 Eylül ●

● En uzun gece

21 Mart ●

● Gece gündüz eşitliği

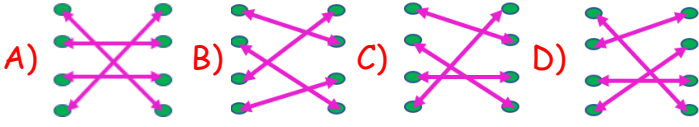
21 Aralık ●

● En kısa gündüz

21 Haziran ●

● Gece gündüz eşitliği

7- Ülkemize ait gündönümleri eşleştirildiğinde hangi şekil ortaya çıkmaktadır?



- Dünya'nın bir yarısı hep gece, diğer yarısı hep gündüz olurdu.
- Mevsimler meydana gelmezdi.
- Gece-gündüz meydana gelmezdi.

8- Aşağıdaki sorulardan hangisinin cevabı yukarıda verilmemiştir?

- A) Dünya hiç hareket etmeseydi ne olurdu?
- B) Dünya'nın yörüngesi değişseydi ne olurdu?
- C) Dünya kendi eksenini etrafında dönmeseydi ne olurdu?
- D) Dünya, Güneş etrafında dolanmasaydı ne olurdu?

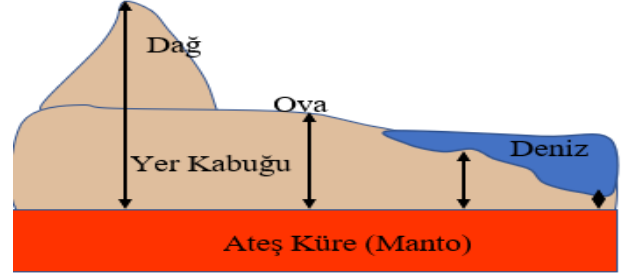
9- Dünyada en çok ülkemizde bulunan ve cam, seramik, deterjan ve enerji üretimi çalışmalarını yapılan maden hangisidir?

- A) Demir
- B) Linyit
- C) Bor
- D) Petrol

Ülkemizde Güneş'in doğuşunu ilk önce en doğudaki Iğdır, Hakkari, Van illeri görür. İzmir, Çanakkale, Edirne gibi en batıda yer alan iller 76 dakika sonra Güneş'in doğuşunu görürler.

10- Hakkari'de Güneş doğduğunda saat 07.12 ise İzmir'de güneş doğduğu zaman saat kaç olur?

- A) 08.28
- B) 08.36
- C) 07.88
- D) 08.12



Yer kabuğunun kalınlığı her yerde aynı değildir. Örneğin yüksek dağlarda 40 km kalınlığındadır. Denizlerin dibinde ise 5-10 km kadardır.

11- Yukarıda verilen bilgilere göre ovalarda yer kabuğunun kalınlığı yaklaşık ne kadardır?

- A) 60000 metre
- B) 3 km
- C) 600 km
- D) 25000 metre

12- Aşağıdakilerden hangisi Dünya'nın kendi etrafında dönmelerinin bir sonucu değildir?

- A) Gece ve gündüzün oluşması
- B) Mevsimlerin oluşması
- C) Rüzgarların oluşması
- D) Dünyada canlı yaşamının olması

Adı : .....

Soyadı: .....

4. Sınıf  
Fen Bilimleri

Dünyamız  
Yaprak Test-2

Doğru :.....

Yanlış:.....

- 1 A B C D  
2 A B C D  
3 A B C D  
4 A B C D  
5 A B C D

- 6 A B C D  
7 A B C D  
8 A B C D  
9 A B C D  
10 A B C D

- 11 A B C D  
12 A B C D  
13 A B C D  
14 A B C D  
15 A B C D

- 16 A B C D  
17 A B C D  
18 A B C D  
19 A B C D  
20 A B C D