

Adı :
Soyadı:

4. Sınıf
Fen Bilimleri

Dünyamız
Yaprak Test-3

Dünya'nın, Güneş etrafında dolanması
....., Dünya'nın kendi etrafında dönmesi
.....sürmektedir.

1- Yukarıda verilen metinde boş bırakılan yerlere sırası ile hangileri yazılmalıdır?

- A) 1 ay - 1 hafta B) 1 yıl- 1 gün
C) 12 ay- 1 hafta D) 365 gün - 7 gün

1-Altının rengi neden sarıdır?
2- Altın neden değerlidir?
3-Altın hangi alanda kullanılmaktadır?

2- Öğretmenin sorduğu soruların hepsine doğru cevap veren Ayşe, aşağıdakilerden hangisini söylememiştir?

- A) Altın doğada çok az bulunduğundan ve zor çıkarıldığından daha değerlidir.
B) Altın daha çok kuyumculukta takı yapımında kullanılmaktadır.
C) Altın ülkemizde en çok İzmir ve Manisa'da çıkarılmaktadır.
D) Madenlerin içinde bulunan mineraller madenin rengini belirler.

3- Aşağıdakilerden hangisi kayaçların parçalanmasına neden olan doğal etkenlerden biridir?

- A) Maden ocağından kömürlerin çıkarılması için kazılması
B) Köylünün traktörle tarlasını sürmesi
C) İşçilerin dağı delerek tünel yapması
D) Gece havanın çok soğuk, gündüz çok sıcak olması

Tarih	Gece	Gündüz
23 Eylül	12 saat	12 saat
21 Mart	15 saat	9 saat
21 Aralık	17 saat	8 saat
21 Haziran	12 saat	12 saat

4- Ülkemize ait gündönümlerine ait tablo yukarıda verilmiştir. Gece ve gündüz süreleri hangisinde yanlış yazılmıştır?

- A) 21 Mart B) 23 Eylül
C) 21 Aralık D) 21 Haziran

5- Ülkemizde gündüz vakti yaşanırken bazı ülkelerde gece olmasının nedeni aşağıdakilerden hangisidir?

- A) Güneş'in Dünya'ya olan uzaklığı
B) Dünya'nın Güneş etrafında dolanması
C) Dünya'nın kendi etrafında dönmesi
D) Ay'ın Dünya etrafında dönmesi

- Kara elmas da denir
- Ülkemizde en çok Zonguldak'ta çıkarılır.
- Daha çok ısınma ve enerji üretiminde kullanılır.

6- Yukarıda özellikleri verilen maden hangisidir?

- A) Bor B) Taş kömürü
C) Bakır D) Gümüş

Adı :
Soyadı :

4. Sınıf
Fen Bilimleri



Dünyamız
Yaprak Test-3

Güneş



7- Yukarıda verilen görsele Dünya modelinin arkasını görmemekteyiz. Dünya'nın arka kısmında da ülkeler ve büyük bir okyanus bulunmaktadır. Buna göre hangisi **yanlıştır**?

- A) Türkiye'de yaşayan Kaan gece olduğu için çoktan uyumuştur.
B) Libyalı Faysal öğlen yemeğini yemektedir.
C) Arjantinli Suzan, saat 10.00 olduğu için beslenme yapmaktadır.
D) Kanada'da yaşayan Jack sabah okula gitmek için hazırlık yapıyor.



8- Yukarıdaki görsellerde bir balığın fosilleşme aşamaları karışık verilmiştir. Oluş sırası hangisinde doğru verilmiştir?


- A) 1 - 2 - 3 - 4
B) 1 - 2 - 3 - 4
C) 1 - 2 - 3 - 4
D) 1 - 2 - 3 - 4

9- Bir paleontolog araştıma yaparken kazı sırasında aşağıdaki varlıklarla karşılaşmıştır. Hangisi fosildir?

- A) Çocuk elbisesi
B) Hayvan kemiği
C) Demir bıçak
D) Çiçek saksısı

10- Bir madenci madende kazı yaparken aşağıdaki kayalara rast gelmiştir. Hangisi diğerlerinden farklıdır?

- A) Taş kömürü
B) Çakıl
C) Toprak
D) Taş



Altın
900.000 TL



Kömür
3 TL



Mermer
4 TL



Bakır
150 TL

11- Yukarıdaki madenlerin bir kilogram fiyatları yazılmıştır. Buna göre aşağıdakilerden hangisi **yanlıştır**?

- A) Altın diğerlerinden daha az çıkarılmaktadır.
B) Kömür, bakırdan daha fazla çıkarılmaktadır.
C) Dünya'da mermer rezervi bakır rezervinden azdır.
D) Bir kg altın ile 300 ton kömür alınabilir.

Adı :

Soyadı:

4. Sınıf
Fen Bilimleri

Dünyamız
Yaprak Test-3

Doğru :

Yanlış:.....

- 1 A B C D
2 A B C D
3 A B C D
4 A B C D
5 A B C D

- 6 A B C D
7 A B C D
8 A B C D
9 A B C D
10 A B C D

- 11 A B C D
12 A B C D
13 A B C D
14 A B C D
15 A B C D

- 16 A B C D
17 A B C D
18 A B C D
19 A B C D
20 A B C D