

Adı :
Soyadı :

4. Sınıf
Fen Bilimleri

Dünyamız
Yaprak Test-4

365 gün

12 ay

1 hafta


4 mevsim

24 saat

1 yıl

1- Yukarıda verilen zaman dilimlerinden kaç tanesi Dünya'nın Güneş etrafında bir tur dolanmasına eşittir?

- A) 2 B) 3 C) 4 D) 5



2- Ülkemizin haritasında sabah güneşini ilk önce ve en sonunda gören şehirler hangileridir?

- A) İlk önce Iğdır - En son İzmir
B) İlk önce Sinop - En son Hatay
C) İlk önce İzmir - En son Iğdır
D) İlk önce Hatay - En son Sinop



3- Yukarıda verilen görsele göre hangisi söylenemez?

- A) Yer kabuğu denizlerin dibinde de bulunur.
B) Yer kabuğunun kalınlığı dağlarda daha fazladır.
C) Ateş küre çekirdekten daha incedir.
D) Okyanusların altında yer kabuğunun kalınlığı daha kalındır.

Tarih	Yaşanan Olay
23 Eylül	En uzun gece
21 Mart	Gece gündüz eşitliği
21 Aralık	En kısa gündüz
21 Haziran	En uzun gündüz

4- Yukarıdaki tablo bir tane hata yapılmıştır. Yapılan hata nasıl düzeltilmelidir?

- A) 23 Eylül yerine 21 Eylül yazılmalıdır.
B) En uzun gece yerine gece gündüz eşitliği yazılmalıdır.
C) En kısa gündüz yerine en kısa gece yazılmalıdır.
D) En uzun gündüz yerine en kısa gündüz yazılmalıdır.

Paleontologlar buldukları fosili birçok yönden incelerler. Birçok bilgiye ulaşırlar. Fosiller bulunduğu yöre göre bize birçok bilgi verir.

5- Yukarıdaki paragrafa göre fosiller sayesinde hangi bilgilere ulaşamayız?

- A) Fosilin yaşadığı yerin iklimi
B) Fosilin hangi zamana ait olduğu
C) Fosil zamanındaki teknolojik araçlar
D) Fosilin yaşadığı yerdeki doğal çevrenin özellikleri

6- Aşağıdaki canlılardan hangisinin fosiline daha çok rastlanır?

- A) Kedi B) Solucan
C) Koyun D) Dinazor

Adı :
Soyadı:


4. Sınıf
Fen Bilimleri

Dünyamız
Yaprak Test-4

Kayaçlar doğal etkenlerle küçük parçalara ayrılır. Ancak insan da teknolojik yollarla kayaçların parçalanmasına neden olmaktadır.

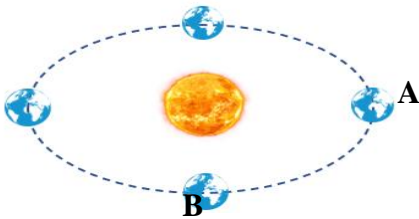
7- Aşağıdakilerden hangisi paragrafta göre kayaçların teknolojik olarak parçalanmasına neden olmaktadır?

- A) Bir çiftçinin traktör ile toprağı sürmesi
- B) Bir işçinin çimento ile beton yapması
- C) Bir ormancının ağaçları kesip odun yapması
- D) Bir çocuğun saksıdaki çiçeğı eliyle asılıp sökmesi



8- Yukarıda verilen modelde en aydınlık ve en karanlık noktalar hangileridir?

- A) En aydınlık B - En karanlık A
- B) En aydınlık A - En karanlık B
- C) En aydınlık C - En karanlık D
- D) En aydınlık D - En karanlık C



9- Dünya A noktasında iken tarih 21 Mart 2020 ise B noktasına geldiğinde tarih hangisi olur?

- A) 21 Eylül 2021
- B) 21 Haziran 2020
- C) 21 Aralık 2020
- D) 23 Eylül 2020

Gök cisimleri kendisinden büyük başka bir gök cisminin etrafında dolandığı gibi kendi etrafında da dolanmaktadır. Her birinin bir tur dönme ve dolanma süreleri farklıdır.

10- Verilen bilgiye göre hangisi doğrudur?

- A) Ay, Dünya'nın etrafında bir tur dolandığında Dünya 7 kere kendi etrafında döner.
- B) Dünya kendi etrafında 1 kere döndüğünde Ay kendi etrafında 30 kere döner.
- C) Dünya Güneş'in etrafında bir kere dolandığında Güneş kendi etrafında bir kere döner.
- D) Dünya, Güneşin etrafında bir tur dolandığında Ay, Dünya'nın etrafında 12 kere dolanır.



11- Paleontologlar yukarıda görseli verilen fosili bir tarlada çalışma yaparken bulmuşlardır. Paleontologlar aşağıdakilerden hangi sonuca ulaşabilirler?

- A) Fosilin olduğu tarlada daha önceden büyük su kütlesi olduğuna
- B) Fosil bölgesinde iklimin sürekli değiştiğine
- C) Fosilin yaşadığı zamanda balıkların çok bol olduğuna
- D) Fosilin bulunduğu tarlada değerli madenlerin olabileceğine

Adı :

Soyadı:

4. Sınıf
Fen Bilimleri

Dünyamız
Yaprak Test-4

Doğru :

Yanlış:.....

- 1 A B C D
2 A B C D
3 A B C D
4 A B C D
5 A B C D

- 6 A B C D
7 A B C D
8 A B C D
9 A B C D
10 A B C D

- 11 A B C D
12 A B C D
13 A B C D
14 A B C D
15 A B C D

- 16 A B C D
17 A B C D
18 A B C D
19 A B C D
20 A B C D