

- 1) 

1. canlı
----------

2. ceviz
----------

3. ?
------

4. cömert
-----------

Üstteki alfabetik sıralamaya göre aşağıdaki kelimelerden hangisi **3.** sıraya **yazılamaz**?

- A) cıvık                      B) cimri  
C) cümle                      D) cezve





- 2) Satır sonuna sığmayan kelimelerden hangisi **doğru** bölünmüştür?

- A) .....kar-ışık                      B) .....e-liyle  
C) .....ar-abası                      D) .....ha-nimeli

- 3) "Cesur olanlar görev aldılar." **cümlesinde, altı çizili kelimelerin eş anlamlıları aşağıdakilerden hangileridir?**

- A) korkak – emir                      B) yürekli – vazife  
C) acemi – sınav                      D) güçlü – sorumlu

- 4) Aşağıdaki resimlerden hangisi anlam ilişkisi bakımından diğerlerinden **farklıdır**?

- A)                       B)   
C)                       D) 

- 5) "**Soğuk**" kelimesi aşağıdaki cümlelerin hangisinde farklı bir anlamda kullanılmıştır?

- A) Terliken soğuk su içmem.  
B) Ablam bana soğuk davranıyor.  
C) Ona soğuk bir bakış attım.  
D) Aramız soğuk olduğu için konuşmuyor.

- 6) 

Rakibimiz çok dişli çıktı.	İnce düşünceli olmak ayrıcalıktır.
Ali bugün okula gelmedi.	Sıcak bir çorba içmek isterim.

Yukarıdaki cümlelerden **mecaz anlam** içerenlerin kutularını boyarsak, nasıl bir **görüntü** oluşur?

- A) 


                      B) 


  
C) 


                      D) 


- 7)  2021 yılı verilerine göre Bayburt ilinin nüfusu "**seksen beş bin kırk iki**" olarak belirlenmiştir.

Yukarıdaki bilgiye göre **Bayburt** ili nüfusu kaç basamaklı bir sayıdır?

- A) 6 basamaklı                      B) 5 basamaklı  
C) 4 basamaklı                      D) 3 basamaklı

8)



Üç bin seksen bir

Bin iki yüz on bir

Üstteki **çocukların** gösterdiği sayılardan büyük olanını en yakın yüzlüğe yuvarlarsak sonuç kaç olur?

- A) 3000                      B) 1200  
C) 1300                      D) 3100

9) Aşağıdaki sıralamalardan hangisi yanlıştır?

- A) 4692 < 4810 < 5020 < 5135  
B) 3330 < 3586 < 4213 < 5094  
C) 2009 > 1987 > 1899 > 1791  
D) 6537 > 5781 > 5900 > 4862

10)



Yukarıdaki **rakamlarla** oluşturulabilecek, rakamları farklı, **dört** basamaklı en büyük ve en küçük sayıların **farkı** kaçtır?

- A) 5661                      B) 6442  
C) 4553                      D) 7664


11)

d	a	e	t	s	r
1	2	9	4	3	0

Üstteki her **harf** bir **rakamla** eşleşmiştir. Buna göre bu harflerle oluşan aşağıdaki **işlemin** sonucu kaçtır?

sade + ders

- A) 4932                      B) 5122  
C) 5232                      D) 5442

12) Aşağıdaki **besinlerden** hangisi içeriği yönünden diğerlerinden farklıdır?

13) "ekmek – bal – patates – elma"

Üstteki besinler içeriklerine göre gruplanırsa hangisi **dışta** kalır?

- A) ekmek                      B) elma  
C) bal                          D) patates

14) Aşağıdakilerden hangisi milli kültürümüzü yansıtan öğelerden biri **değildir**?

- A) Büyüklerin ellerini öpmek  
B) Misafire Türk kahvesi ikram etmek  
C) Genç kızların çeyiz hazırlamaları  
D) Hayvanat bahçesine gitmek

15)



Aşağıdakilerden hangisi, **milli kültürümüzü** yansıtan gelenek ve göreneklerimizden biridir?

- A) Doğum gününde hediye beklemek  
B) Yılbaşında çam ağacı süslemek  
C) Düğünden önce kına gecesi yapmak  
D) Yeni çıkan sinemaları kaçırmamak

## CEVAP ANAHTARI

- |       |       |
|-------|-------|
| 1) C  | 11) B |
| 2) D  | 12) C |
| 3) B  | 13) B |
| 4) A  | 14) D |
| 5) A  | 15) C |
| 6) C  |       |
| 7) B  |       |
| 8) D  |       |
| 9) D  |       |
| 10) A |       |