



Adı Soyadı : .....

Numarası : .....

Konu: Onluk ve Birlik

A) Aşağıda onluk ve birlik taban blokları verilen sayıları örnekteki gibi yazalım.

...2.. Onluk ...3..birlik

23

Sayının okunuşu: yirmi üç

.....onluk ..... birlik

.....

Sayının okunuşu: .....

.....onluk ..... birlik

.....

Sayının okunuşu: .....

.....onluk ..... birlik

.....

Sayının okunuşu: .....

..... Onluk ..... birlik

.....


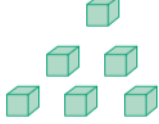
Sayının okunuşu: .....


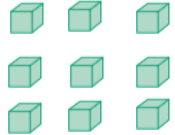
..... Onluk ..... birlik

.....

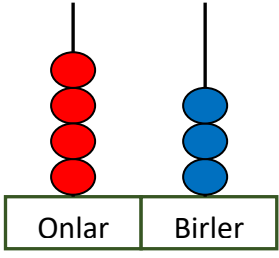
Sayının okunuşu: .....

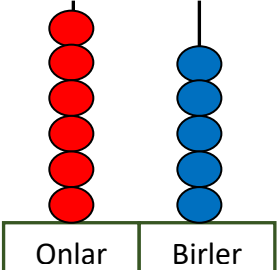
B) Aşağıdaki tabloda verilen onluk ve birlik taban bloklarını tabloya uygun şekilde yazalım.

	Onluklar	Birlikler
		
Sayı		
Sayının Okunuşu		
Basamak Adları		
Rakamların Basamak Değerleri		...

	Onluklar	Birlikler
		
Sayı		
Sayının Okunuşu		
Basamak Adları		
Rakamların Basamak Değerleri		.

C) Aşağıdaki abaküslerde verilen sayıların basamak adlarını ve basamak değerlerini yazınız.

		
Onlar	Birler	
<input type="text"/>	<input type="text"/>	<u>Basamak Adları</u>
<input type="text"/>	<input type="text"/>	<u>Basamak Değeri</u>
<input type="text"/>	<input type="text"/>	.....
<input type="text"/>	<input type="text"/>	.....

		
Onlar	Birler	
<input type="text"/>	<input type="text"/>	<u>Basamak Adları</u>
<input type="text"/>	<input type="text"/>	<u>Basamak Değeri</u>
<input type="text"/>	<input type="text"/>	.....
<input type="text"/>	<input type="text"/>	.....