



Adı Soyadı :



Numarası :

Konu: Onluk ve Birlik



Hangi gruptaki varlıklar bir destedir.



Aşağıdaki gruplardan düzine olanı işaretleyelim.



Aşağıdaki armutları desteye, erikleri de düzineye tamamlayınız.



Aşağıdaki soruları yanıtlayınız.

Bir düzine kalem bir deste kalemden kaç fazladır.

2 deste elma ile 2 düzine elmanın toplamı kaçtır?

4 deste papatyada kaç birlik vardır?

14 tane kavuna kaç kavun daha eklersek 2 düzine olur?

Aşağıdaki sayıların okunuşlarını yazınız.

41		30	
52		25	
70		68	
82		74	
56		11	
93		99	
81		43	
24		53	

Aşağıda okunuşları verilen sayıları yazınız.

	seksen iki		yetmiş
	dosan sekiz		altmış bir
	kırk		elli sekiz
	altmış beş		yetmiş üç
	elli iki		otuz iki
	yirmi sekiz		on dokuz
	seksen		dosan dokuz
	on üç		seksen beş

Aşağıda yazılışları ve okunuşları verilen sayıları eşleştiriniz.

57

60

82

64

42

96

doksan altı

elli yedi

altmış

seksen iki

altmış dört

kırk iki