




Adı Soyadı : .....


Numarası : .....

Konu: Tek ve Çift Doğal Sayılar

Aşağıdaki tek sayıları maviye, çift sayıları yeşile boyayınız.



Aşağıdaki armutlar üzerinde yazılı olan sayıları uygun sepetlerle eşleştirelim.



16



39




40



84



8



66




76



81




22



88




34



49



53



90



Tek Sayılar



Çift Sayılar

Aşağıdaki noktalı yerleri iki basamaklı tek sayı olacak şekilde tamamlayınız.

3 5.	4 ....	9 ....	1 ....	3 ....	5 ....
4 .....	6 ....	2 ....	6 ....	9 ....	4 ....
7 .....	7 ....	1 ....	4 ....	5 ....	4 ....

Aşağıdaki sayıları tablodaki uygun bölümlere yazınız.

Tek Sayılar				Çift Sayılar			
34	44	63	14	48	53	87	30
25	38	96	61	87	90	20	77

Aşağıdaki soruları yanıtlayınız.

İki basamaklı en büyük çift sayı:

İki basamaklı en küçük çift sayı:

İki basamaklı en büyük tek sayı:

İki basamaklı en küçük tek sayı:

Aşağıdaki toplama işlemlerinin sonuçlarını tek sayı ise " T ", çift sayı ise " Ç " yazınız.

$7 + 7$	Ç
---------	---

$10 + 5$	
----------	--

$13 + 8$	
----------	--

$4 + 7$	
---------	--

$8 + 8$	
---------	--

$7 + 0$	
---------	--

$5 + 5$	
---------	--

$19 + 4$	
----------	--

$14 + 6$	
----------	--