



Adı Soyadı :

Numarası :

Konu: Doğal Sayılarda Değerlendirme

A) Aşağıda onluk ve birlik taban blokları verilen sayıları bulalım noktalı yerlere yazalım.

.....onluk birlik

Sayının okunuşu:

.....onluk birlik

Sayının okunuşu:

B) Aşağıdaki tabloda verilen onluk ve birlik taban bloklarını tabloya uygun şekilde yazalım.

	Onluklar	Birlikler
Sayı		
Sayının Okunuşu		
Basamak Adları		
Rakamların Basamak Değerleri		

C) Aşağıdaki abaküste verilen sayının basamak adlarını ve basamak değerlerini yazınız.

Onlar Birler

Basamak Adları

Basamak Değeri

.....

.....

D) Noktalı yerlere uygun sayıları yerleştiriniz.

36:onluk.....birlik

53:onluk.....birlik

40:onluk.....birlik

92:onluk.....birlik

E) Onluk ve birliği verilen sayıları noktalı yerlere yazınız.

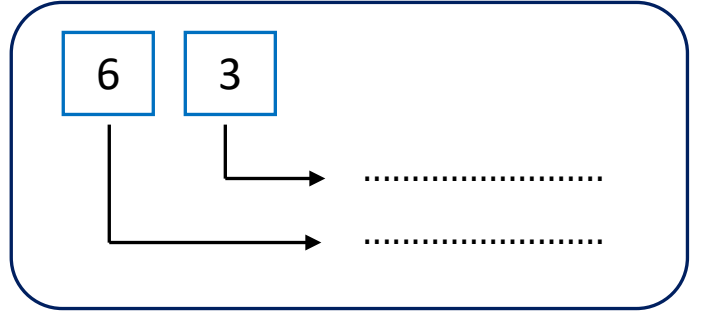
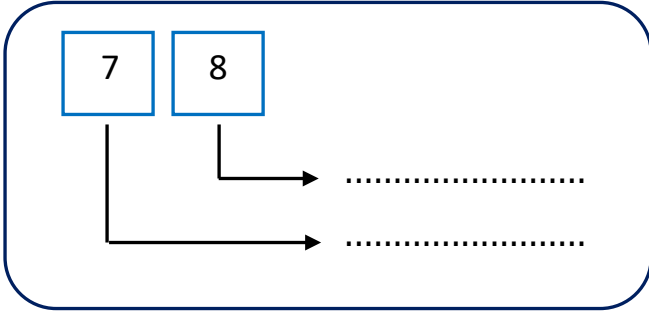
8 birlik 3 onluk:

7 onluk 8 birlik:

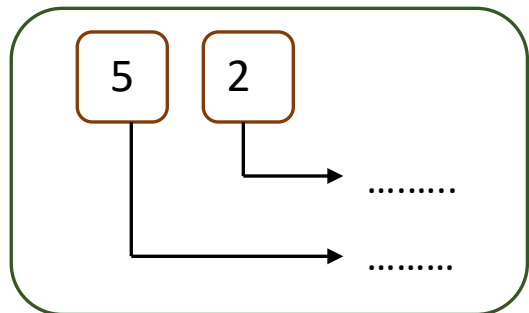
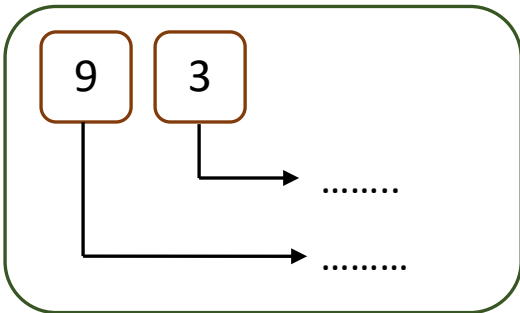
9 onluk 0 birlik:

6 birlik 8 onluk:

F) Aşağıdaki sayıların basamak adlarını yazalım.



G) Aşağıdaki sayıların basamak değerlerini yazalım.



H) Hangi grupların hangisinin deste hangisinin düzine olduğunu altlarına yazalım.

