



1)  ha-nım-e-li  kı-zıl-ay

 ya-yı-ne-vi  ilk-öğ-re-tim

Her biri bir **şekil** ile eşleşen kelimelerden hangisinin hecelerine ayrılışı **doğrudur**?

- A)  B)   
C)  D) 

2) Aşağıdaki kelimelerin hangisinde **dört harften** oluşan bir hece bulunmaktadır?

- A) Karınca B) Televizyon  
C) Menekşe D) Atatürk

3)  fayda yarar  cimri cömert  acemi usta  
 küçük ufak  karşıt zıt  basit kolay

**Zıt anlamlı** bavullar İzmir'e, **eş anlamlı** bavullar ise Ankara'ya gönderilecektir. Buna göre kaç bavul ülkemizin **başkentine** gönderilecektir?

- A) 5 B) 4  
C) 3 D) 2

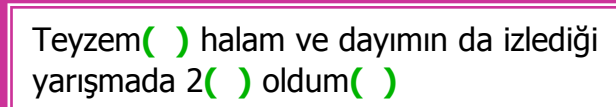
4)  panda  turşu  pasta  şarkı

Üstteki kelimelerden hangisi sözlük sırasına göre **3.** sıradadır?

- A) pasta B) turşu  
C) şarkı D) panda

5) Aşağıda altı çizili kelimelerden hangisi **mecaz** anlamda kullanılmamıştır?

- A) Ondan ağır sözler duymayı beklemezdim.  
B) Kardeşim keskin bir zekaya sahiptir.  
C) Ahmet soğuk havaya aldırış etmedi.  
D) Komşumuzun kızı tatlı dillidir.

6)  Teyzem( ) halam ve dayımın da izlediği yarışmada 2( ) oldum( )

Yukarıdaki cümlede yay ayraçların içine sırasıyla hangi **noktalama işaretleri** gelmelidir?

- A) (.) (,) (.)  
B) (,) (.) (.)  
C) (.) (.) (.)  
D) (.) (-) (!)

7) Okunuşu "**Seksen bir bin yüz dokuz**" olan sayı hangisidir?

- A) 81109 B) 80119  
C) 801109 D) 81119

8)  225  216  207  ?  189

Yukarıdaki örüntüde soru işareti yerine kaç gelmelidir?

- A) 201 B) 200  
C) 199 D) 198

9)



Zehra, **en yakın yüzlüğe** yuvarlanınca **1000** olan sayıları vurmak istiyor. Buna göre Zehra, yukarıdaki **hedefte** kaç tane sayıyı vurmalıdır?

- A) 7                      B) 6  
C) 5                      D) 4

10)



Üstteki **rakamlar** kullanılarak oluşacak, **rakamları farklı, 5 basamaklı en büyük sayı** aşağıdakilerden hangisidir?

- A) 99999                B) 98765  
C) 987654              D) 98876

11) Bir aile, ocak ayında market için **1275** lira harcama yapmıştır. Aynı aile şubat ayında ise, ocak ayında harcadıklarından **286** lira daha az market harcaması yapmıştır.

Bu aile ocak ve şubat aylarında market için **toplam** kaç lira harcama yapmıştır?

- A) 989 lira                B) 1561 lira  
C) 1847 lira              D) 2264 lira

12)



Her gün bol bol kırmızı et ve tavuk yiyen biri, hangi besin içeriğini **fazlaca** almaktadır?

- A) protein                B) karbonhidrat  
C) vitamin                D) mineral

13)



**Su ile ilgili** aşağıdaki bilgilerden yanlıştır?

- A) Vücudumuz büyük oranda sudan oluşur.  
B) Su bütün besinlerde bulunur.  
C) Vücudumuzda düzenleyici rolü vardır.  
D) Hayvanlar ve bitkiler suya ihtiyaç duymaz.

14) Aşağıdaki oyunlardan hangisi **geleneksel** çocuk oyunu değildir?

- A) dalye                    B) voleybol  
C) saklambaç            D) topaç çevirme

15)



**Emre** hiç dışarı çıkmamakta, sürekli telefon ve tabletle oynamaktadır.

Aşağıdakilerden hangisi **bu durumun** sebeplerinden değildir?

- A) Hızlı kentleşme ve teknolojinin gelişmesi  
B) Çocukların güvenle oyun oynayacağı alanların yeterli olmaması  
C) Telefon ve tabletin başarıya olumlu etkisinin olması  
D) Betonlaşmanın artması ve bahçeli evlerin azalması

# CEVAP ANAHTARI

- |       |       |
|-------|-------|
| 1) A  | 11) D |
| 2) D  | 12) A |
| 3) B  | 13) D |
| 4) C  | 14) B |
| 5) C  | 15) C |
| 6) B  |       |
| 7) A  |       |
| 8) D  |       |
| 9) C  |       |
| 10) B |       |