



Adı :
Soyadı:

1 . Sınıf
Matematik

Doğal Sayılar
2'şer Ritmik Sayma-1

2'şer gruplara ayırınız, sayınız.



Kaç tane olduğunu sayınız, yazınız.



Adı :
Soyadı:

1. Sınıf
Matematik

Doğal Sayılar
2'şer Ritmik Sayma-1

Boşlukları doldurunuz.




1	3	5	7	9
11	13	15	17	19



2	4	10	14
---	---	------	------	----	------	----	------	------	------



....	6	12	16
------	------	---	------	------	----	------	----	------	------



20	18	14	8	4
----	----	------	----	------	------	---	------	---	------



....	18	12	6
------	----	------	------	----	------	------	---	------	------



20	14	12	2
----	------	------	----	----	------	------	------	------	---