

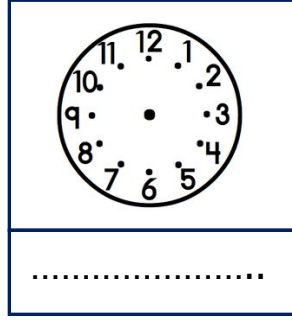
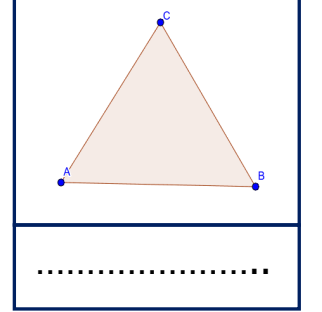

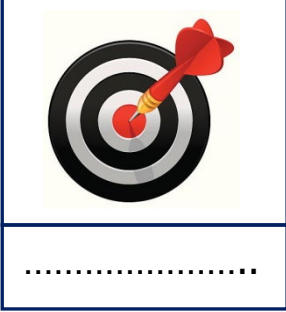


Adı Soyadı :

Numarası :

Konu: Nokta

Aşağıdaki görsellerde nokta modellerini belirleyerek altlarına yazınız.

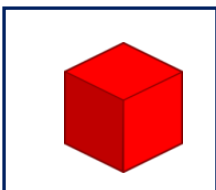


Aşağıdaki cümlelerin doğru olanlarının başına "D", yanlış olanlarının başına "Y" yazınız.

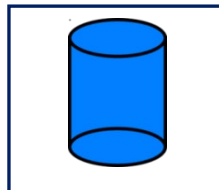
- () Noktalar farklı büyüklükte olabilirler.
- () Noktaları isimlendirirken küçük harf kullanırız.
- () Alfabemizde bütün harflerde nokta vardır.
- () Tahta üzerine çakılan çivinin bıraktığı iz noktaya örnektir.
- () İnsanların buluşma noktaları olamaz.
- () Köşeli geometrik cisimlerin kenarları birer noktadır.
- () Yağmurun yaprakta bıraktığı iz noktaya örnektir.

Aşağıdaki geometrik cisimlerden hangisinin noktası yoktur?

A)



B)



C)



D)

