



TAŞITLAR

Uzağa gitmek için,
Taşıtlara bineriz.
Yorulmadan rahatça,
Dolaşırız gezeriz.
Hem denizde hem karada,
En rahat yolculuğu,
Yaparız taşıtlarda.
Vapur, kayık, denizde,
Taksi, kamyon, otobüs,
Hem yokuşta hem düzde

Mehmet GÜLSEREN

Not: İlk 3 soruyu metne göre cevaplayınız.

- 1) Uzağa gitmek için ne yaparız?
- A) Taşıtlara bineriz.
B) Yürüyerek gideriz.
C) Yardım isteriz.
- 2) Hem yokuşta hem düzde giden taşıtlar hangileridir?
- A) Tren, minibüs
B) Vapur, kayık
C) Taksi, kamyon, otobüs

3) Taşıtlar şiiri kaç mısradan oluşmuştur?

- A) 10 B) 1 C) 11

4) Aynı türden varlıklara verilen ortak adlara denir. Dünyada tek olan, bir eşi daha olmayan varlıklara verilen adlara denir.

Yukarıdaki cümlelerde noktalı yerlere sırasıyla varlıkların verilmiş isimlerine göre hangileri gelmelidir?

- A) Özel isim - Cins isim
B) Cins isim - Özel isim
C) Cins isim - Çoğul isim

5) Aşağıda verilen varlıklardan hangisinin adı cins (tür) adıdır?



- 6)
- Masadaki bilgisayar nerede?
 - Kirazlar çiçek açmış.
 - Okuldaki öğrenciler çıkmış.

Altı çizili sözcüklerden hangisi birden fazla varlığı ifade etmemektedir?

- A) Bilgisayar
B) Kirazlar
C) Öğrenciler

7) Aşağıdaki resimleri adlandırırken hangisini **çoğul isim** olarak adlandıramayız?



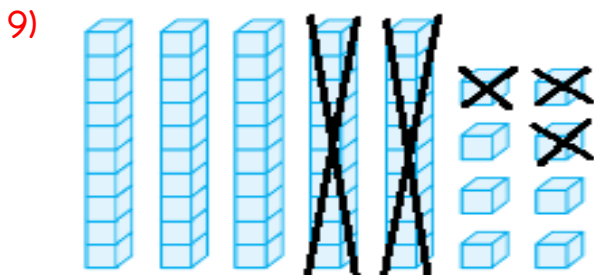
8) Koyun sürüsü dağların yamaçlarında yayılırlardır.

Yukarıdaki cümlede hangi sözcük çoğul eki almadığı halde **birden fazla varlığı** bildirmektedir?

A) Koyun

B) Dağ

C) Sürü

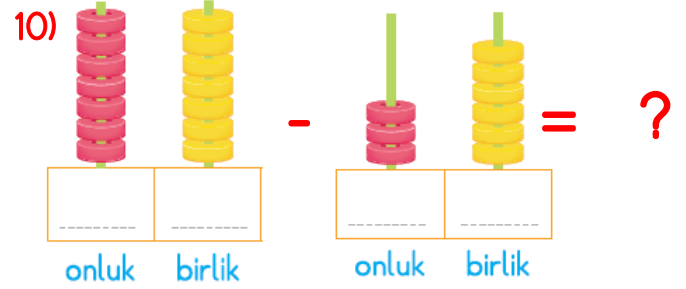


Yukarıda taban blokları ile yapılan **çıkarma işleminin sonucu** aşağıdakilerden hangisidir?

A) $58 - 23 = 35$

B) $35 - 23 = 12$

C) $58 - 33 = 25$

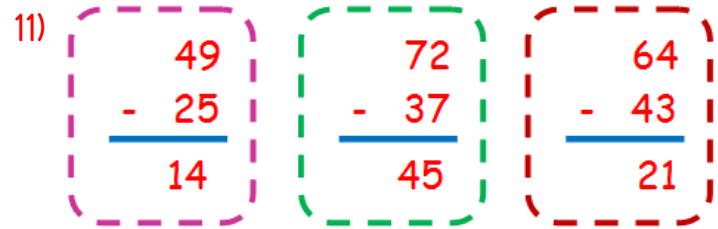


Yukarıda abaküs ile modellenen **çıkarma işleminin** sonucu nedir?

A) 21

B) 31

C) 41



Yukarıda verilen çıkarma işlemlerinden kaç tanesi **doğru** yapılmıştır?

A) 1

B) 2

C) 3

12) Bir çıkarma işleminde eksilen 61, çıkan 27 ise bu çıkarma işleminde **kalan (fark)** kaçtır?

A) 44

B) 36

C) 34

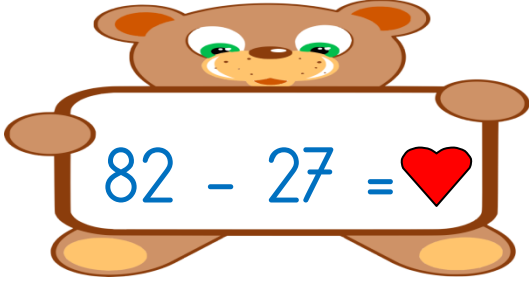
13) İki basamaklı **en büyük doğal sayı** ile iki basamaklı **en küçük doğal sayının farkı** kaçtır?

A) 80

B) 88

C) 89

14)



Yukarıdaki çıkarma işleminde ♥ yerine gelecek sayı kaç onluktan ve kaç birlikten oluşur?

- A) 5 onluk + 6 birlik
- B) 5 onluk + 5 birlik
- C) 6 onluk + 5 birlik

15)

4 deste kalem - 2 düzine kalem = ?

Yukarıdaki çıkarma ifadesinin farkı kaçtır?

- A) 20
- B) 16
- C) 28

16) Beden eğitimi dersi için bahçeye çıkan 2-A sınıfı iki takım oluşturdu ve mendil kapmaca yarışı yaptılar.

Yarışı kaybeden takımın aşağıdaki davranışlardan hangisini yapması doğru olur?

- A) Karşı takımın haksızlık yaptığını söylemeli.
- B) Bu yarış olmadı bir daha oynamalıyız demeli.
- C) Kazanan takımı tebrik etmeli.

17) Aşağıdakilerden temel ihtiyaçlarımızdan birisi değildir?

- A) Beslenme
- B) Eğlenme
- C) Giyinme

18) Oyun oynarken uymamız gereken bazı kurallar vardır. Aşağıdakilerden hangisi bu kurallardan birisi değildir?

- A) Kırıcı sözlerden ve davranışlardan uzak durmalıyız.
- B) Yanlış yaptığımız davranışlar varsa özür dilemeliyiz.
- C) Kazanmak için her şeyi yapmalıyız.

19)



Elif

Alışverişe giden Elif aşağıdaki ürünleri satın alıyor. Elif'in aldığı hangi ürün temel ihtiyaçlarından değildir?

A)



B)



C)



20) Aşağıda söylenen istek ve ihtiyaçlarımızla ilgili ifadelerden hangisi yanlıştır?

A)



İsteklerimiz, ihtiyaçlarımızdan önce gelir.

B)



İhtiyaçlar alınmadığı zaman sorun yaşanabilir.

C)



İhtiyaçlarımızı karşıladıktan sonra isteklerimizi alabiliriz.

Cevap Anahtarı

1)A 2)C 3)A 4)B 5)C
6)A 7)B 8)C 9)A 10)C
11)A 12)C 13)C 14)B 15)B
16)C 17)B 18)C 19)B 20)A