

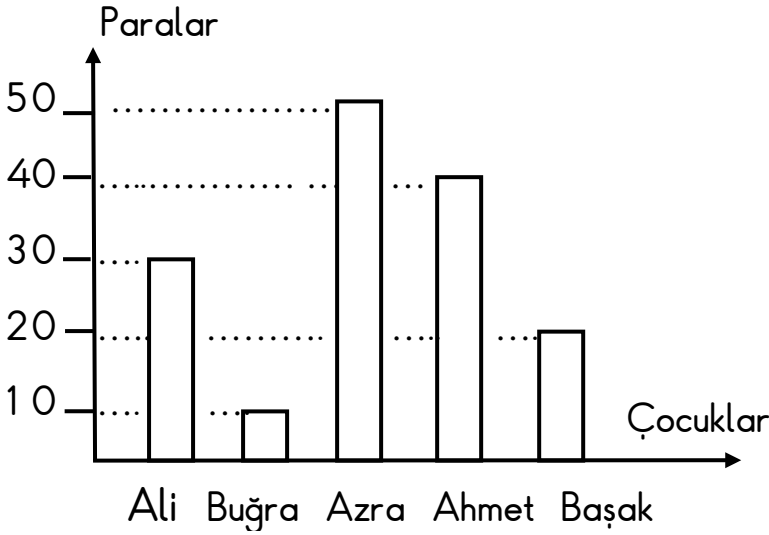


Konu : Tablo ve Şekil Grafiği

Kazanım 1: Şekil grafiğini oluşturur. 2: Şekil grafiğini yorumlar. 3: Çetele ve sıklık tabloları oluşturur.

Aşağıdaki grafikte çocukların bir ayda kumbarada biriktirdikleri harçlıkları göstermektedir.

**Grafik:** Bir ayda biriktirilen harçlıklar



a) En çok para kim biriktirmiştir ?

.....

b) En az para kim biriktirmiştir?

.....

c) En çok para biriktiren ile en az para biriktiren arasındaki fark kaçtır ?

.....

d) Çocukların bir ayda biriktirdikleri toplam para miktarı ne kadardır? .....

Yukarıdaki grafiğe göre çetele ve sıklık tablosunu oluşturalım.






### ÇETELE TABLOSU

Biriktirilen Harçlıklar	
Çocuklar	Para miktarı
Ali	
Buğra	
Azra	
Ahmet	
Başak	

### SIKLIK TABLOSU

Biriktirilen Harçlıklar	
Çocuklar	Para miktarı
Ali	
Buğra	
Azra	
Ahmet	
Başak	

Aşağıdaki tabloda bir sınıfta en çok sevilen çiçekler gösterilmektedir. Buna göre grafiği yorumlayarak çetele ve sıklık tablosu oluşturunuz.

2/A Sınıfında Sevilen Çiçekler	
Lale	
Gül	
Papatya	
Menekşe	
Karanfil	

**Not:** Her şekil 2 çiçeği göstermektedir.

Sınıfta en az sevilen çiçek hangisidir? .....

Sınıfta en çok sevilen çiçek hangisidir? .....

Sınıfta eşit sayıda sevilen çiçekler hangileridir? .....

En çok sevilen çiçekle en az sevilen çiçeklerin toplamı kaçtır? .....

Sınıfın mevcudu kaç kişiden oluşmaktadır? .....

Yukarıdaki grafiğe göre çetele ve sıklık tablosunu oluşturalım.

### ÇETELE TABLOSU

Sevilen Çiçekler	
Çiçekler	Çiçek Sayısı
Lale	
Gül	
Papatya	
Menekşe	
Karanfil	

### SIKLIK TABLOSU

Sevilen Çiçekler	
Çiçekler	Çiçek Sayısı
Lale	
Gül	
Papatya	
Menekşe	
Karanfil	