

Adı :
Soyadı:

4. Sınıf
Matematik

Toplama İşlemi
Yaprak Test-2

$$\begin{array}{r} 7526 \\ + ABCD \\ \hline 9999 \end{array}$$

$$\begin{array}{r} ABCD \\ + DCBA \\ \hline ? \end{array}$$

1) Yukarıdaki pembe renkli toplama işleminin sonucu kaçtır? 3 7 4 2 2473 3742

- A) 6315 B) 6215
C) 6225 D) 6325









5017

3005

3019

4007

2) Yukarıdaki renkli kutuların değerleri verilmiştir. Bu değerlere göre aşağıdaki işlemlerden hangisinin sonucu doğrudur?

- A)  +  = 9034
B)  +  = 8046
C)  +  = 6024
D)  +  = 8023

$$4562 + 4967 = ?$$

3) Yukarıda verilen işlemin sonucu için hangisi söylenemez?

- A) Toplam dört basamak ve tek sayıdır.
B) Toplamın sayı değerleri toplamı 25'tir.
C) Toplamın yüzler basamağının basamak değeri 500'tür.
D) Toplamın en yakın yüzlüğü 9600'dür.

+	1200	2200
1500	A	B
2500	C	D

4) Yukarıda verilen toplama işlemi tablosuna göre B+C işleminin sonucu kaçtır?

- A) 7400 B) 7200
C) 7300 D) 7100

A

B

2996

C

3000

5) Yukarıda 5 tane ardışık çift sayılar verilmiştir. Verilmeyen kutulardaki sayıların toplamı kaçtır?

- A) 8994 B) 8986
C) 8984 D) 8992

6) Aşağıda toplama işlemleri yapılmış ve toplamı en yakın yüzlüğe yuvarlanmıştır. Hangisinin sonucu yanlış yuvarlanmıştır?

- A) $4578 + 2379 = 6700$
B) $2542 + 1893 = 4400$
C) $5047 + 2896 = 7900$
D) $4521 + 3745 = 8200$

$$3745 + 4786 = ?$$

7) Yukarıdaki işlemin sonucuna en yakın olan sayı aşağıdakilerden hangisidir?

- A) 8533 B) 8537
C) 8526 D) 8536

Adı :
Soyadı:

4. Sınıf
Matematik

Toplama İşlemi
Yaprak Test-2

$$3547 + 2786$$

8) Yukarıdaki işlemin sonucu hangi yüzlükler arasında yer almaktadır?

- A) 6200-6300
B) 6300-6400
C) 6400-6500
D) 6000-7000

4-0-5-3

A

7-0-1-9

B

9) Yukarıda verilen A kutusundaki rakamlardan dört basamaklı en büyük çift sayı yazılıyor. Bu kutusundaki rakamlardan ise dört basamaklı en küçük tek sayı yazılıyor. İki sayının toplamı kaçtır?

- A) 5789
B) 7213
C) 6419
D) 8059

$$\begin{array}{r} 5 \text{ binlik} + 3 \text{ onluk} \\ + 2 \text{ binlik} + 4 \text{ yüzlük} + 5 \text{ birlik} \\ \hline \end{array}$$

10) Yukarıda verilen toplama işleminin sonucu kaçtır?

- A) 7525
B) 7435
C) 6509
D) 7415

$$4586 + 2356$$

En yakın
onluğu

En yakın
yüzlüğü

$$\dots + \dots = A$$

11) Yukarıdaki toplama işlemine göre A sayısı kaçtır?

- A) 6980
B) 6990
C) 7000
D) 7010

12) Aşağıdaki işlemlerden hangisinin sonucu en büyüktür?

- A) $4785 + 3476$
B) $3476 + 4788$
C) $4788 + 3480$
D) $4780 + 3475$

$$\begin{array}{r} 5238 \\ + 1475 \\ \hline \end{array} \quad \begin{array}{r} 6284 \\ + 775 \\ \hline \end{array} \quad \begin{array}{r} 2489 \\ + 3758 \\ \hline \end{array} \quad \begin{array}{r} 2637 \\ + 4792 \\ \hline \end{array}$$

13) Yukarıda verilen işlemlerin sonuçlarını için hangi karşılaştırma doğrudur?

- A) $\text{Blue} < \text{Red} < \text{Green} < \text{Yellow}$
B) $\text{Red} > \text{Yellow} > \text{Green} < \text{Blue}$
C) $\text{Green} < \text{Blue} < \text{Red} < \text{Yellow}$
D) $\text{Green} > \text{Red} < \text{Yellow} < \text{Blue}$

Adı :
Soyadı:

4. Sınıf
Matematik

Toplama İşlemi
Yaprak Test-2

Doğru :

Yanlış:.....

- 1 A B C D
2 A B C D
3 A B C D
4 A B C D
5 A B C D

- 6 A B C D
7 A B C D
8 A B C D
9 A B C D
10 A B C D

- 11 A B C D
12 A B C D
13 A B C D
14 A B C D
15 A B C D

- 16 A B C D
17 A B C D
18 A B C D
19 A B C D
20 A B C D